

Staff Selection Commission

North Eastern Region

STENOGRAPHERS (GRADE 'C' & 'D') EXAMINATION - 2014

Evening Session

Test Form No. / टेस्ट फॉर्म संख्या

456 TG 7

Held on 14-09-2014

Time Allowed : 2 Hours (For V.H. Candidates : 2 hrs. 40 min.)

Maximum Marks : 200

निर्धारित समय : 2 घण्टे (दृष्टिबाधित उम्मीदवारों के लिए : 2 घण्टे 40 मिनट)

अधिकतम अंक : 200

Read the following instructions carefully before you begin to answer the questions. This Booklet contains questions in English as well as in Hindi.

प्रश्नों के उत्तर देने से पहले नीचे लिखे अनुदेशों को ध्यान से पढ़ लें। इस पुस्तिका में प्रश्न अंग्रेजी तथा हिन्दी दोनों में दिये गए हैं।

INSTRUCTIONS TO CANDIDATES

- This Booklet contains 200 questions in all comprising the following three parts :
Part-I : General Intelligence and Reasoning (50 Questions)
Part-II : General Awareness (50 Questions)
Part-III : English Language and Comprehension (100 Questions)
- In questions set bilingually in English and Hindi, in case of discrepancy, the English version will prevail.
- All questions are compulsory and carry equal marks.
- The paper carries negative marking. 0.25 marks will be deducted for each wrong answer.
- Before you start to answer the questions you must check up this Booklet and ensure that it contains all the pages (1-24) and see that no page is missing or repeated. If you find any defect in this Booklet, you must get it replaced immediately.
- You will be supplied the Answer-Sheet separately by the Invigilator. You must complete and code the details of Name, Roll Number, Ticket Number and Test Form Number on Side-I of the Answer-Sheet carefully. You must also put your signature and Left-Hand thumb impression on the Answer-Sheet at the prescribed place before you actually start answering the questions. These instructions must be fully complied with, failing which, your Answer-Sheet will not be evaluated and you will be awarded 'ZERO' mark. (For V.H. candidates these details will be filled in by the scribe. However, all V.H. candidates must put their Left-Hand thumb impression at the space provided in the Answer-Sheet. In addition, those V.H. candidates who can sign should also put their signatures in addition to thumb impression.)
- Answers must be shown by completely blackening the corresponding ovals on Side-II of the Answer-Sheet against the relevant question number by Black/Blue Ball-Point Pen Only. Answers which are not shown by Black/Blue Ball-Point Pen will not be awarded any mark.
- A machine will read the coded information in the OMR Answer-Sheet. In case the information is incomplete or different from the information given in the application form, the candidate will be awarded 'ZERO' mark.
- The Answer-Sheet must be handed over to the Invigilator before you leave the Examination Hall.
- Failure to comply with any of the above instructions will render a candidate liable to such action/penalty as may be deemed fit.
- The manner in which the different questions are to be answered has been explained at the back of this Booklet (Page No. 24), which you should read carefully before actually answering the questions.
- Answer the questions as quickly and as carefully as you can. Some questions may be difficult and others easy. Do not spend too much time on any question.
- In lieu of Question Nos. 44 to 50 relating to figural portions, alternate questions have been provided to be attempted by V.H. candidates only.
- No rough work is to be done on the Answer-Sheet. Space for rough work has been provided below the questions in Part I of this Booklet.
- "Mobile phones and wireless communication devices are completely banned in the examination halls/rooms. Candidates are advised not to keep mobile phones/any other wireless communication devices with them even switching it off, in their own interest. Failing to comply with this provision will be considered as using unfair means in the examination and action will be taken against them including cancellation of their candidature. Such candidates are also liable for debarment upto a period of five years and/or Criminal Prosecution."

उम्मीदवारों के लिए अनुदेश

- इस पुस्तिका में कुल 200 प्रश्न हैं, जिनमें निम्नलिखित तीन भाग शामिल हैं :
भाग-I : सामान्य बुद्धिमत्ता एवं तर्कशक्ति (50 प्रश्न)
भाग-II : सामान्य ज्ञान/वार्ता (50 प्रश्न)
भाग-III : अंग्रेजी भाषा एवं परिभाषा (100 प्रश्न)
- अंग्रेजी और हिन्दी में तैयार किए गए द्विभाषी प्रश्नों में कोई विरोधाभास होने की स्थिति में अंग्रेजी विवरण प्राथम्य होगा।
- सभी प्रश्न अनिवार्य हैं तथा सबके बराबर अंक हैं।
- प्रश्न-पत्र में नकारात्मक अंकन होगा। हर गलत उत्तर के लिए 0.25 अंक काटा जाएगा।
- प्रश्नों के उत्तर देने से पहले आप इस पुस्तिका की जाँच करके देख लें कि इसमें पूरे पृष्ठ (1-24) हैं तथा कोई पृष्ठ कम या दुबारा छपा नहीं आ गया है। यदि आप इस पुस्तिका में कोई त्रुटि पाएँ, तो तत्काल इसके बदले दूसरी पुस्तिका ले लें।
- निरीक्षक द्वारा आपको उत्तर-पत्रिका अलग से दी जाएगी। उत्तर-पत्रिका के Side-I में निम्नलिखित जानकारी ध्यानपूर्वक सत्य, सही, सही नम्बर, टिकट नम्बर और टेस्ट फॉर्म संख्या अवश्य लिखें। प्रश्नों के उत्तर भरने से पहले उत्तर-पत्रिका पर निर्धारित स्थान में आप अपने हस्ताक्षर एवं बाईं हाथ के अंगूठे का निशान भी अवश्य लगाएँ। उद्दिष्ट अनुदेशों का पूरी तरह अनुपालन किया जाए, अन्यथा आपकी उत्तर-पत्रिका को जाँच नहीं जाएगा और 'शून्य' अंक दिया जाएगा। (दृष्टिबाधित उम्मीदवारों के लिए यह विवरण लिपिक द्वारा भरा जाए। परन्तु सभी दृष्टिबाधित उम्मीदवार उत्तर-पत्रिका में निर्धारित स्थान पर अपने बाईं हाथ के अंगूठे का निशान अवश्य लगाएँ। इसके अतिरिक्त, जो दृष्टिबाधित उम्मीदवार हस्ताक्षर कर सकते हैं, वे अंगूठे के निशान के अलावा अपने हस्ताक्षर भी कर दें।)
- उत्तर-पत्रिका में सभी उत्तर Side-II में प्रश्न संख्या के सामने दिए गए सम्बन्धित अक्षराकार चारों को केवल काले/नीले बॉल-पॉइंट पेन से पूरी तरह भराकर भरना चाहिए। जो अक्षराकार खाने काले/नीले बॉल-पॉइंट पेन से नहीं भरे जायेंगे, उनके लिए कोई अंक नहीं दिया जाएगा।
- ओ.एम.आर. उत्तर-पत्रिका में भरी गई गूट सूचना को एक मशीन पढ़ेगी। यदि सूचना असूरी है अथवा अधोक्त प्रश्न में दी गई सूचना से भिन्न है, तो ऐसे उम्मीदवार को 'शून्य' अंक दिया जाएगा।
- परीक्षा भवन छोड़ने से पहले उम्मीदवार को उत्तर-पत्रिका निरीक्षक के हवाले कर देनी चाहिए।
- ऊपर के अनुदेशों में से किसी एक का भी पालन न करने पर उम्मीदवार पर विवेकानुसार कार्यवाही की जा सकती है या दण्ड दिया जा सकता है।
- विभिन्न प्रश्नों के उत्तर देने की विधि इस पुस्तिका के पीछे (पृष्ठ संख्या 24) में छपे हुए निर्देशों में दी गई है। इसे आप प्रश्नों के उत्तर देने से पहले ध्यानपूर्वक पढ़ लें।
- प्रश्नों के उत्तर जितनी जल्दी हो सके तथा ध्यानपूर्वक दें। कुछ प्रश्न असरम तथा कुछ कठिन हैं। किसी एक प्रश्न पर बहुत अधिक समय न लगाएँ।
- आकृति से सम्बन्धित प्रश्न संख्या 44 से 50 के बदले में केवल दृष्टिबाधित उम्मीदवारों द्वारा हल किए जाने के लिए वैकल्पिक प्रश्न दिए गए हैं।
- कोई एक कार्य उत्तर-पत्रिका पर नहीं करना है। एक कार्य के लिए स्थान इसी पुस्तिका के भाग I के प्रश्नों के नीचे दिया गया है।
- "परीक्षा हॉलों/कमरों में मोबाइल फोन तथा रेडियो संचार साधन पूरी तरह निषिद्ध हैं। उम्मीदवारों को उनके अपने हित में सलाह दी जाती है कि मोबाइल फोन/किसी अन्य रेडियो संचार साधन को स्विच ऑफ करके भी अपने पास न रखें। इस प्रावधान का अनुपालन न करने को परीक्षा में अनुचित उपायों का प्रयोग माना जाएगा और उनके विरुद्ध कार्यवाई की जाएगी, उनकी अल्पस्थिता रद्द कर देने सहित। ऐसे उम्मीदवारों को पाँच वर्ष के लिए प्रतिबंधित भी किया जा सकता है और/या उन पर आचाराधिक अभियोजन चलाया जा सकता है।"

इस पुस्तिका की सील तब तक न खोलें जब तक कहा न जाए।

PART - I

GENERAL INTELLIGENCE & REASONING

Direction : In question no. 1 to 6 select the related word/letters/number from the given alternatives.

- Guava : Mango :: ?
(A) Juice : Fruit
(B) Badminton : Shuttle cock
(C) Bhils : Nagas
(D) Book : Read
- ABCDE : KLMNO :: FGHIJ : ?
(A) UVWXY (B) PQRST
(C) ONMLK (D) UQMIE
- True : False :: Float : ?
(A) Swing (B) Swim
(C) Sink (D) Dive
- RACE : FACE :: CARE : ?
(A) FARE (B) CAFE
(C) CEAF (D) ACRE
- 647 : 17 :: 798 : ?
(A) 23 (B) 27 (C) 33 (D) 24
- 7 : 11 :: 31 : ?
(A) 17 (B) 23 (C) 37 (D) 43

Direction : In question no. 7 to 12, find the odd number/letters/number pair from the given alternatives.

- (A) 51, 66 (B) 83, 102
(C) 123, 146 (D) 169, 196
- (A) Sugar (B) Starch
(C) Glucose (D) Protein
- (A) Map (B) Globe
(C) Compass (D) Microscope
- (A) YIP (B) WAT (C) ORG (D) BUP
5 7 11 13 15 17 19 21 23 25 27 29 31 33 35 37 39 41 43 45 47 49 51 53 55 57 59 61 63 65 67 69 71 73 75 77 79 81 83 85 87 89 91 93 95 97 99
- (A) EAC (B) JFH (C) OMK (D) TPR
- (A) 15, 24, 35 (B) 3, 8, 15
(C) 35, 49, 63 (D) 120, 143, 168

Direction : In question no. 13 and 14 which one of the given responses would be a meaningful order of the following ?

- (1) Sentence (2) Word (3) Chapter
(4) Phrase (5) Paragraph
(A) (2), (4), (3), (1), (5)
(B) (2), (4), (1), (5), (3)
(C) (2), (5), (4), (1), (3)
(D) (1), (2), (3), (4), (5)
- (1) Asia (2) Goa (3) Panji
(4) India (5) World
(A) (3), (2), (4), (1), (5)
(B) (2), (3), (4), (1), (5)
(C) (3), (2), (1), (4), (5)
(D) (5), (1), (2), (3), (4)

Direction : In question no. 15 to 17, a series is given, with one term missing. Choose the correct alternative from the given ones that will complete the series.

- 240, 240, 120, 40, 10, ?
(A) $2, \frac{1}{3}$ (B) $2, \frac{1}{6}$ (C) 2, 1 (D) $2, \frac{1}{5}$
- MO, JL, ? , DF
(A) EF (B) GI (C) CD (D) AE
- 21, 23, 26, ? , 35
(A) 28 (B) 30 (C) 32 (D) 29
- Which one set of letters when sequentially placed at the gaps in the given letter series shall complete it?
ab _ ddc _ bab _ ddca _ abc _ dca _
(A) c a c b d b (B) c d a b d c
(C) c d a b c d (D) d a b c d c
- If $14 + 18 = 14$, $26 + 39 = 20$, $41 + 51 = 11$, then $92 + 13 = ?$
(A) 19 (B) 15 (C) 65 (D) 115
- If 'F' is the brother of 'A', 'C' is the daughter of 'A', 'K' is the sister of 'F' and G is the brother of 'C', then who is the uncle of 'G' ?
(A) A (B) C (C) F (D) K

SPACE FOR ROUGH WORK

भाग - I

सामान्य बुद्धिमत्ता एवं तर्कशक्ति

निर्देश : प्रश्न संख्या 1 से 6, दिए गए विकल्पों में से सम्बन्धित शब्द/अक्षरों/संख्या को चुनिए।

1. अमरुद : आम :: ?
(A) रस : फल
(B) बैडमिन्टन : शटल कॉक (बिड़िया)
(C) भील : नागा
(D) पुस्तक : पढ़ना
2. ABCDE : KLMNO :: FGHIJ : ?
(A) UVWXY (B) PQIRST
(C) ONMLK (D) UQMIE
3. सही : गलत :: उतराना : ?
(A) झूलना (B) तैरना
(C) डूबना (D) डुबकी मारना
4. RACE : FACE :: CARE : ?
(A) FARE (B) CAFE
(C) CEAF (D) ACRE
5. 647 : 17 :: 798 : ?
(A) 23 (B) 27 (C) 33 (D) 24
6. 7 : 11 :: 31 : ?
(A) 17 (B) 23 (C) 37 (D) 43

निर्देश : प्रश्न संख्या 7 से 12 तक में, दिए गए विकल्पों में से विषम संख्या/अक्षरों/संख्या युग्म चुनिए।

7. (A) 51, 66 (B) 83, 102
(C) 123, 146 (D) 169, 196
8. (A) शर्करा (B) मंड (स्टार्च)
(C) ग्लूकोस (D) प्रोटीन
9. (A) मानचित्र
(B) ग्लोब (भूमण्डल)
(C) दिक्सूचक (कुतुबनुमा)
(D) सूक्ष्मदर्शी
10. (A) YIP (B) WAT (C) ORG (D) BUP
11. (A) EAC (B) JFH (C) OMK (D) TPR
12. (A) 15, 24, 35 (B) 3, 8, 15
(C) 35, 49, 63 (D) 120, 143, 168

निर्देश : प्रश्न संख्या 13 और 14, निम्न विकल्पों में से कौन-सा विकल्प नीचे दिये हुए शब्दों का सार्थक क्रम दर्शाता है?

13. (1) वाक्य (2) शब्द (3) अध्याय
(4) वाक्यांश (5) अनुच्छेद (पैराग्राफ)
(A) (2), (4), (3), (1), (5)
(B) (2), (4), (1), (5), (3)
(C) (2), (5), (4), (1), (3)
(D) (1), (2), (3), (4), (5)
14. (1) एशिया (2) गोवा (3) पणजी
(4) भारत (5) विश्व
(A) (3), (2), (4), (1), (5)
(B) (2), (3), (4), (1), (5)
(C) (3), (2), (1), (4), (5)
(D) (5), (1), (2), (3), (4)

निर्देश : प्रश्न संख्या 15 से 17 में एक अनुक्रम दिया है, जिसमें एक पद लुप्त है। दिए गए विकल्पों में से वह सही विकल्प चुनिए जो अनुक्रम को पूरा करें।

15. 240, 240, 120, 40, 10, ?, ?
(A) 2, $\frac{1}{3}$ (B) 2, $\frac{1}{6}$ (C) 2, 1 (D) 2, $\frac{1}{5}$
16. MO, JL, ?, DF
(A) EF (B) GI (C) CD (D) AE
17. 21, 23, 26, ?, 35
(A) 28 (B) 30 (C) 32 (D) 29
18. अक्षरों का कौन-सा समूह खाली स्थानों पर क्रमवार रखने से दी गई अक्षर श्रृंखला को पूरा करेगा?
ab ddc bab ddca abc dca
(A) c a c b d b (B) c d a b d c
(C) c d a b c d (D) d a b c d c
19. यदि $14 + 18 = 14$, $26 + 39 = 20$, $41 + 51 = 11$, तो $92 + 13 = ?$
(A) 19 (B) 15 (C) 65 (D) 115
20. यदि 'F' भाई है 'A' का, 'C' पुत्री है 'A' की, 'K' बहिन है 'F' की, और 'G' भाई है 'C' का, तो 'G' का चाचा कौन है?
(A) A (B) C (C) F (D) K

रफ कार्य के लिये जगह

456 TG 7

GB-2014/Page4

21. If B=8, L=7, O=5, C=9, K=4. Using the given total, find out the missing symbol in the following block.

$$\boxed{B} \boxed{O} \boxed{?} \boxed{B} \boxed{B} = 33$$

- (A) B (B) L (C) K (D) C

22. If STABOIC is coded as ^{1 2 3 4 5 6 7}ATSBCIO then how will MOCTALM be coded?

- (A) TMOCMAL (B) COMTMLA
(C) MOCTLAM (D) COMTALM

23. Find the least number that on being subtracted by 8, is exactly divisible by 32, 36 and 40.

- (A) 1440 (B) 1444
(C) 1446 (D) 1448

24. Select the correct combination of mathematical signs to replace * signs and to balance the given equation.

$$24 * 6 * 3 * 3 * 1 = 14$$

(A) - + + - (B) + x + -
(C) x + - + (D) + - ÷ x

25. From the given alternatives select the word which **cannot** be formed using the letters of the given word.

CHOREOGRAPHY

- (A) PRAY (B) GROPE
(C) CARRY (D) GREAT

26. If 'MEMORY' is written as 454697 in a certain code language how will 'PRIVATE' be written in the same code language.

- (A) 9742251 (B) 7994125
(C) 7919125 (D) 7992541

Direction : In question no. 27 and 28, select the missing number from the given responses.

27.
$$\begin{array}{ccc} 3 & 5 & 7 \\ 4 & 6 & 8 \\ \hline 5 & 7 & 9 \\ 26 & 38 & ? \end{array}$$

(A) 40 (B) 48 (C) 50 (D) 58

28.
$$\begin{array}{ccc} 1 & 3 & 4 \\ 9 & 6 & 7 \\ \hline 80 & ? & 33 \end{array}$$

(A) 42 (B) 35 (C) 27 (D) 29

29. You travel towards north 4 km, then turn left and travel towards west 2 km, then again turn left and travel 4 km. How far are you from the starting point?

- (A) 1 km (B) 2 km
(C) 3 km (D) 4 km

30. A man travelled 2 kms westwards, turned left and walked 3 kms and further walked 5 kms after turning right. What is the total distance covered by him while travelling?

- (A) 5 km (B) 10 km
(C) 15 km (D) Cannot be determined

31. A person starts towards the North. Which of the following orders of directions will lead him to the East?

- (A) Right, Right, Right (B) Right, Left, Left
(C) Right, Right, Left (D) Left, Right, Left

32. A vehicle starts from point A and runs 10 km towards north, turns to its right and runs 15 km. It then turns to its right again and runs another 10 km to reach point B. After reaching point B, how far is the vehicle from the starting point A?

- (A) 35 km (B) 15 km
(C) 10 km (D) 5 km

Direction : In question no. 33 and 34 one/two statements is/are given followed by two conclusions I and II. You have to consider the statements inference to be true even if they seem to be at variance from commonly known facts. You are to decide which of the given conclusions, if any, follow from the given statements. Indicate your answer.

33. **Statement :** Mostly boys feel happy in playing cricket.

Mostly girls like to play with dolls.

Inference : Girls are more intelligent than Boys.

- (A) If the inference is correct
(B) If the inference is wrong
(C) If the inference may be correct or wrong
(D) If the inference is irrelevant

SPACE FOR ROUGH WORK

21. यदि B=8, L=7, O=5, C=9, K=4 तो दिए हुए योग का प्रयोग करके निम्नलिखित ब्लॉक में अज्ञात अक्षर का पता लगाइए।

$$\begin{array}{|c|c|c|c|c|} \hline B & O & ? & B & B \\ \hline \end{array} = 33$$

- (A) B (B) L (C) K (D) C

22. यदि STABOIC को ATSBICIO के रूप में कूटबद्ध किया जाता है तो MOCTALM को कैसे कूटबद्ध किया जाएगा?
- (A) TMOCMAL (B) COMTMLA
(C) MOCTLAM (D) COMTALM

23. वह छोटी से छोटी संख्या ज्ञात कीजिए जिसमें से 8 घटाने पर वह 32, 36 और 40 से पूर्ण रूप से भाज्य होगी।
- (A) 1440 (B) 1444
(C) 1446 (D) 1448

24. दिए गए समीकरण को संतुलित करने तथा * चिह्नों को प्रतिस्थापित करने के लिए गणितीय चिह्नों का सही क्रम समूह चुनिए।
- $$24 * 6 * 3 * 3 * 1 = 14$$
- (A) - + ÷ - (B) ÷ × + -
(C) × + - ÷ (D) + - ÷ ×

25. निम्नलिखित विकल्पों में से वह शब्द चुनिए जो दिए गए शब्द के अक्षरों का प्रयोग करके नहीं बनाया जा सकता।
- CHOREOGRAPHY
- (A) PRAY (B) GROPE
(C) CARRY (D) GREAT

26. यदि किसी कूट भाषा में 'MEMORY' को 454697 लिखा जाता है तो उसी कूट भाषा में 'PRIVATE' को कैसे लिखा जाएगा?
- (A) 9742251 (B) 7994125
(C) 7919125 (D) 7992541

निर्देश : प्रश्न संख्या 27 और 28 में दिए गए विकल्पों में से लुप्त अंक ज्ञात कीजिए।

27.
$$\begin{array}{r} 3 \quad 5 \quad 7 \\ 4 \quad 6 \quad 8 \\ \hline 5 \quad 7 \quad 9 \\ 26 \quad 38 \quad ? \end{array}$$
- (A) 40 (B) 48 (C) 50 (D) 58

28.
$$\begin{array}{r} 1 \quad 3 \quad 4 \\ 9 \quad 6 \quad 7 \\ \hline 80 \quad ? \quad 33 \end{array}$$
- (A) 42 (B) 35 (C) 27 (D) 29

29. आप उत्तर दिशा में 4 कि.मी. यात्रा करते हैं, इसके बाद बाएँ मुड़ते हैं और पश्चिमी दिशा में 2 कि.मी. यात्रा करते हैं। बाद में फिर बाएँ मुड़कर 4 कि.मी. यात्रा करते हैं। आप आरंभिक स्थान से कितने दूर हैं?

- (A) 1 कि.मी. (B) 2 कि.मी.
(C) 3 कि.मी. (D) 4 कि.मी.

30. एक व्यक्ति पश्चिम दिशा की ओर 2 कि.मी. यात्रा करता है, बायीं ओर घूम जाता है और 3 कि.मी. चलता है और फिर दायीं ओर घूमने के बाद 5 कि.मी. चलता है। यात्रा करते हुए वह कुल कितनी दूरी तय करता है?

- (A) 5 कि.मी. (B) 10 कि.मी.
(C) 15 कि.मी. (D) निश्चित नहीं किया जा सकता

31. एक व्यक्ति उत्तर दिशा की ओर चलना आरंभ करता है। निम्नलिखित में से कौन-सी दिशा क्रम से वह पूर्व की ओर जाएगा?

- (A) दायें, दायें, दायें (B) दायें, दायें, दायें
(C) दायें, दायें, दायें (D) दायें, दायें, दायें

32. एक वाहन, बिन्दु A से चलकर 10 कि.मी. उत्तर दिशा में चल कर, दाहिने मुड़कर 15 कि.मी. चलता है। तब फिर से दाहिने मुड़कर 10 कि.मी. चलकर बिन्दु B पर पहुँचता है। बिन्दु B पर पहुँचने के बाद वाहन प्रारंभिक बिन्दु A से कितनी दूर है?

- (A) 35 कि.मी. (B) 15 कि.मी.
(C) 10 कि.मी. (D) 5 कि.मी.

निर्देश : प्रश्न संख्या 33 और 34 में एक/दो कथनों के आगे दो निष्कर्ष I और II दिए गए हैं। आपको कथनों को सत्य मानकर विचार करना है चाहे वे सामान्यतः ज्ञात तथ्यों से भिन्न प्रतीत होते हों। आपको निर्णय करना है कि दिए गए निष्कर्षों में से कौन-से, यदि कोई हो, निश्चित रूप से दिए गए कथनों के आधार पर निकाला जा सकता है। अपना उत्तर निर्दिष्ट करें।

33. कथन : अधिकतर लड़के क्रिकेट खेलकर खुश होते हैं।
अधिकतर लड़कियां गुड़ियों से खेलना पसंद करती हैं।

निष्कर्ष : लड़कियां लड़कों से अधिक बुद्धिमान होती हैं।

- (A) निष्कर्ष सही है
(B) निष्कर्ष गलत है
(C) यह निष्कर्ष सही या गलत हो सकता है
(D) निष्कर्ष असंगत है

34. **Statement :** Morning walks are good for health.

Conclusions I. All healthy people go for morning walks.

II. Evening walks are harmful.

- (A) If only conclusion I and II follow
(B) If either conclusion I or II follows
(C) If neither conclusion I nor II follows
(D) If only conclusion I follows

35. In a library following Dewey Decimal System, four books with the following call numbers are in order :

813.04	813.04	813.13	813.2
P38	P4	K32	B35

If another set of four books with the following call numbers are returned, which will be the correct order to shelve them ?

407.3	402.14	407.21	402.14
C21	J3	M12	J21

(A) 407.21 407.3 402.14 402.14
M12 C21 J21 J3

(B) 407.3 402.14 407.21 402.14
C21 J21 M12 J3

(C) 402.14 402.14 407.21 407.3
J21 J3 M12 C21

(D) 402.14 402.14 407.3 407.21
J3 J21 C21 M12

36. You are given the address of a town, followed by four alternatives. Of these, only one matches while the others have some mistakes. You are to choose exactly the same the given one as your answer.

Kala Shanmugham, C/o ASA, Lamba Line, Junglighat, Port Blair 744103

(A) Kala Shenmugham, C/o ASA, Lamba Line, Junglighat Port Blair 744103

(B) Kala Shanmugham, C/o ASA, Lamba Lane, Junglighat, Port Blair 744103

(C) Kala Shanmugham, C/o ASA, Lamba Line, Junglighat, Port Blair 744103

(D) Kala Shanmugham, C/o ASA Lamba Line, Junglighat, Port Blair, 744130

Direction : Question no. 37 and 38. Below are given some Roll Numbers of candidates registered at different centres for an examination. The first two digits from the left stand for the centre code and the next four for the serial number of the candidates registered at the centre. Give answers based on its given Roll numbers.

37. 305328 703823 305112 701103
803637 705339 612804 905014
301192 116801 212502 304102
600011 512284 813251 906801

Which of the following centre pairs had some common serial numbers ?

- (A) 90 and 11 (B) 30 and 51
(C) 80 and 70 (D) 61 and 11

38. 503312 403851 305717 608123
409701 405881 937771 531813
443290 531812 800313 673181
538421 490512 200521 301101

Which of the following centres had highest serial number ?

- (A) 20 (B) 40 (C) 60 (D) 80

39. When you find a student doing mischievous activity :

- (A) Report to Principal/Headmaster.
(B) Listen to the student and counsel.
(C) Punish.
(D) Inform the parents.

40. If you are in a situation at classroom where your student is bullying or harassing you :

- (A) Make an appointment to talk with your student to attempt to correct him.
(B) Ask the student to leave the classroom to the counsellor.
(C) Confront him/her and make him/her to apologise.
(D) Concentrate on your teaching avoiding him.

41. Either Rehman is a farmer or a carpenter.

- (A) Rehman is not a farmer or a carpenter.
(B) Rehman is not a carpenter but a farmer.
(C) Rehman is not a carpenter.
(D) Rehman is not a farmer.

SPACE FOR ROUGH WORK

34. कथन : सुबह की सैर स्वास्थ्य के लिए अच्छी होती है।
निष्कर्ष I. सभी स्वस्थ व्यक्ति सुबह की सैर के लिए जाते हैं।

II. शाम की सैर हानिकारक होती है।

- (A) केवल निष्कर्ष I व II निकलता है
(B) या तो निष्कर्ष I या II निकलता है
(C) न तो निष्कर्ष I और न II निकलता है
(D) केवल निष्कर्ष I निकलता है

35. डुई दशमलव पद्धति अपनाने वाले एक पुस्तकालय में निम्नलिखित बोध-संख्या वाली चार पुस्तकें क्रम में हैं।

813.04	813.04	813.13	813.2
P38	P4	K32	B35

यदि निम्नलिखित बोध संख्या वाली चार पुस्तकों का एक अन्य सेट लौटाया जाता है तो, उन्हें किस सही क्रम में अलमारी में रखा जाएगा?

407.3	402.14	407.21	402.14
C21	J3	M12	J21

- (A) 407.21 407.3 402.14 402.14
M12 C21 J21 J3
(B) 407.3 402.14 407.21 402.14
C21 J21 M12 J3
(C) 402.14 402.14 407.21 407.3
J21 J3 M12 C21
(D) 402.14 402.14 407.3 407.21
J3 J21 C21 M12

36. नीचे एक शहर का पता दिया गया है। उसके बाद दिए गए चार विकल्पों में से केवल एक ही उसके साथ मिलता है जबकि अन्य में कुछ गलतियाँ हैं। वह विकल्प चुनिए जो उसके साथ पूरी तरह मिलता है।

Kala Shanmugham, C/o ASA, Lamba Line, Junglighat, Port Blair 744103

- (A) Kala Shenmugham, C/o ASA, Lamba Line, Junglighat Port Blair 744103
(B) Kala Shanmughan, C/o ASA, Lamba Lane, Junglighat, Port Blair 744103
(C) Kala Shanmugham, C/o ASA, Lamba Line, Junglighat, Port Blair 744103
(D) Kala Shanmugham, C/o ASA Lamba Line, Junglighat, Port Blair, 744130

निर्देश : प्रश्न सं. 37 और 38 तक, नीचे विभिन्न केन्द्रों में एक परीक्षा के लिए पंजीकृत कुछ अभ्यर्थियों के रोल नम्बर दिए गए हैं। बायीं ओर के प्रथम दो अंक केंद्र का संकेत है और अन्य चार उस केन्द्र पर पंजीकृत अभ्यर्थियों के क्रमांक के लिए। उत्तर इस रोल न. के आधार पर दीजिए।

37. 3 0 5 3 2 8 7 0 3 8 2 3 3 0 5 1 1 2 7 0 1 1 0 3
8 0 3 6 3 7 7 0 5 3 3 9 6 1 2 8 0 4 9 0 5 0 1 4
3 0 1 1 9 2 1 1 6 8 0 1 2 1 2 5 0 2 3 0 4 1 0 2
6 0 0 0 1 1 5 1 2 2 8 4 8 1 3 2 5 1 9 0 6 8 0 1

निम्नलिखित किस केंद्र जोड़े की सामान्य क्रम संख्या है?

- (A) 90 और 11 (B) 30 और 51
(C) 80 और 70 (D) 61 और 11

38. 5 0 3 3 1 2 4 0 3 8 5 1 3 0 5 7 1 7 6 0 8 1 2 3
4 0 9 7 0 1 4 0 5 8 8 1 9 3 7 7 7 1 5 3 1 8 1 3
4 4 3 2 9 0 5 3 1 8 1 2 8 0 0 3 1 3 6 7 3 1 8 1
5 3 8 4 2 1 4 9 0 5 1 2 2 0 0 5 2 1 3 0 1 1 0 1

निम्नलिखित में से किस केंद्र की सबसे बड़ी क्रम संख्या है?

- (A) 20 (B) 40 (C) 60 (D) 80

39. जब आप किसी विद्यार्थी को शरारत करते हुए पाते हैं तो :

- (A) प्रधानाचार्य/मुख्यअध्यापक को रिपोर्ट करते हैं।
(B) विद्यार्थी की बात सुनते हैं और उसे परामर्श देते हैं।
(C) दंड देते हैं।
(D) माता-पिता को सूचित करते हैं।

40. यदि कक्षा में आप ऐसी स्थिति में हैं कि विद्यार्थी आपको धमकाते या परेशान करते हैं तो आप :

- (A) अपने विद्यार्थी से बात करने का समय लेते हैं और उन्हें सुधारने का प्रयास करते हैं।
(B) विद्यार्थी को कक्षा से बाहर जाने के लिए और परामर्शदाता के पास जाने के लिए कहते हैं।
(C) उनका विरोध करते हैं और उनसे माफ़ी मांगने के लिए कहते हैं।
(D) उनकी उपेक्षा करते हैं, पढ़ाने पर ध्यान केन्द्रित करते हैं।

41. रहमान या तो किसान है या बड़ई है।

- (A) रहमान किसान या बड़ई नहीं है।
(B) रहमान बड़ई नहीं है बल्कि किसान है।
(C) रहमान बड़ई नहीं है।
(D) रहमान किसान नहीं है।

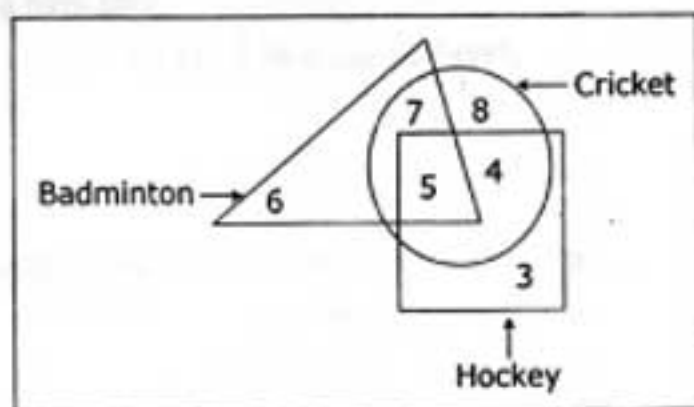
42. A colleague has an emergency situation at home and hence is unable to finish her work in the office. You would :

(A) admonish (B) advice
(C) criticise (D) show concern

43. A group of children in a class are always noisy and boisterous. The teacher should :

(A) Punish the children in front of others.
(B) Warn the children and tell the parents.
(C) Call the children and talk to them in a calm manner.
(D) Put up their names on the board.

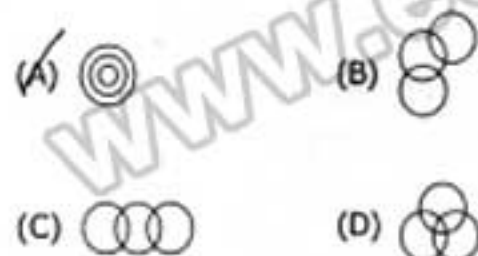
44. How many players atleast play Hockey and Cricket ?



(A) 5 (B) 4 (C) 9 (D) 12

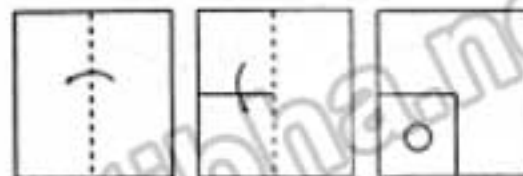
45. Identify the diagram that best represents the relationship among classes given below :

SUN, ENERGY, LIGHT

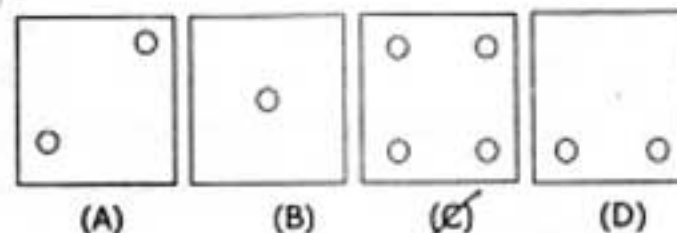


46. A piece of paper is folded and cut as shown below in the question figures. From the given answer figures, indicate how it will appear when opened ?

Question Figures



Answer Figures



47. A word is represented by only one set of numbers as given in any of the alternatives. The sets of numbers given in the alternatives are represented by two classes of alphabets as in two matrices given below: The columns and rows of Matrix I are numbered from 0 to 4 and that of Matrix II are numbered from 5 to 9. A letter from these matrices can be represented first by its row and next by its column, e.g. L can be represented by 04, 31, 40 etc. and B can be represented by 56, 98, 75 etc. Identify the set for the word WINER.

Matrix-I

Matrix-II

	0	1	2	3	4
0	W	N	R	M	L
1	N	R	M	L	W
2	R	M	L	W	N
3	M	L	W	N	R
4	L	W	N	R	M

	5	6	7	8	9
5	O	B	E	I	D
6	D	O	B	E	I
7	B	E	I	D	O
8	E	I	D	O	B
9	I	D	O	B	E

(A) 23, 86, 32, 76, 34
(B) 32, 86, 33, 76, 43
(C) 32, 69, 22, 57, 43
(D) 00, 59, 33, 99, 98

SPACE FOR ROUGH WORK

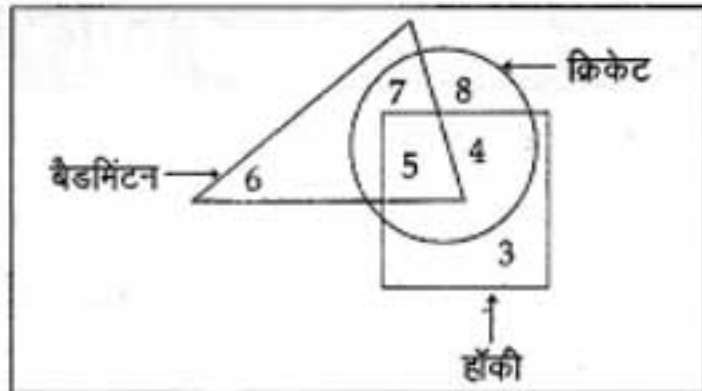
42. एक सहकर्मी के घर में आपत्स्थिति के कारण वह कार्यालय में अपना कार्य-पूरा करने में असमर्थ है। आप उसे :

- (A) समझाएंगे (B) सलाह देंगे
(C) आलोचना करेंगे (D) धिंता दिखाएंगे

43. एक कक्षा में बच्चों का एक समूह हमेशा शोर मचाता है और उधम करता है। शिक्षक को चाहिए कि :

- (A) अन्य बच्चों के सामने उन्हें दंडित करें।
(B) बच्चों को चेतावनी दें और माता-पिता को सूचित करें।
(C) बच्चों को बुलाकर उनसे शान्त स्वभाव से बात करें।
(D) उनका नाम बोर्ड पर लगाएँ।

44. कम-से-कम कितने खिलाड़ी हॉकी और क्रिकेट खेलते हैं?



- (A) 5 (B) 4 (C) 9 (D) 12

45. वह आरेख चुनिए जो नीचे दिए गए वर्गों के बीच सम्बंध का सही निरूपण करता है :

सूर्य, ऊर्जा, प्रकाश

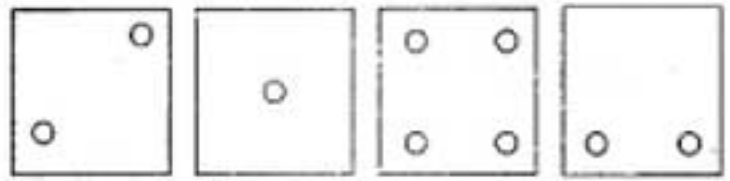
- (A) (B)
(C) (D)

46. नीचे प्रश्न आकृतियों में दिखाए अनुसार कागज को मोड़कर काटने तथा खोलने के बाद वह किस उत्तर आकृति जैसी दिखाई देगा?

प्रश्न आकृतियाँ



उत्तर आकृतियाँ



- (A) (B) (C) (D)

47. एक शब्द केवल एक संख्या समूह में दर्शाया गया है जैसा कि विकल्पों में से किसी एक में दिया गया है। विकल्पों में दिए गए संख्या समूह, अक्षरों के दो वर्गों द्वारा दर्शाए गए हैं, जैसा कि नीचे दिए गए दो मैट्रिक्स में हैं। मैट्रिक्स I के स्तम्भ और पंक्ति की संख्या 0 से 4 दी गई है और मैट्रिक्स II की 5 से 9 तक। इन मैट्रिक्स से एक अक्षर के पहले उसकी पंक्ति और बाद में स्तम्भ संख्या द्वारा दर्शाया जा सकता है। उदाहरण के लिए L को 04, 31, 40 आदि द्वारा दर्शाया जा सकता है तथा B को 56, 98, 75 आदि के द्वारा दर्शाया जा सकता है। इसी तरह से दिए गए शब्द WINER के लिए संख्या-समूह पहचानिए।

आव्यूह-I

	0	1	2	3	4
0	W	N	R	M	L
1	N	R	M	L	W
2	R	M	L	W	N
3	M	L	W	N	R
4	L	W	N	R	M

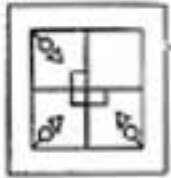
आव्यूह-II

	5	6	7	8	9
5	O	B	E	I	D
6	D	O	B	E	I
7	B	E	I	D	O
8	E	I	D	O	B
9	I	D	O	B	E

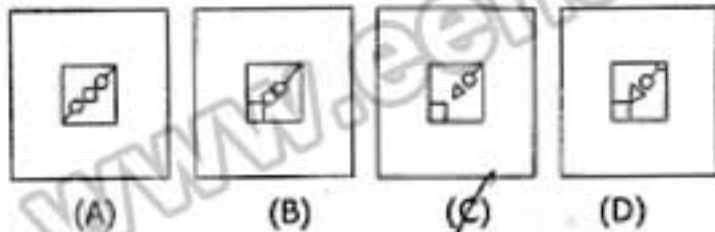
- (A) 23, 86, 32, 76, 34
(B) 32, 86, 33, 76, 43
(C) 32, 69, 22, 57, 43
(D) 00, 59, 33, 99, 98

48. Which answer figure will complete the pattern in the question figure ?

Question Figure

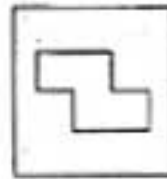


Answer Figures

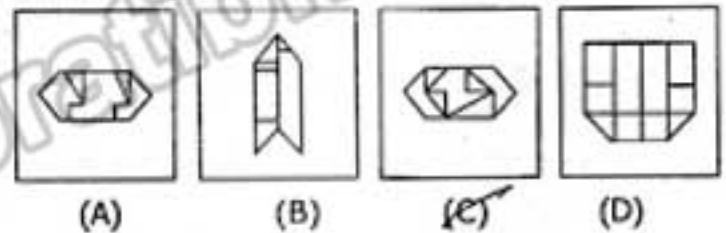


49. From the given answer figures, select the one in which the question figure is hidden/embedded.

Question Figure



Answer Figures



50. Which of the answer is right image of following letter ?

WINDMILL

- (A) JJIWQNIW (B) JJIMQNIW
(C) JJIMQNIW (D) JJIMQNIW

FOR VISUALLY HANDICAPPED CANDIDATES ONLY

Direction : In question no. 44 and 45, select the related letter/word/number from the given alternatives.

44. $17 : 88 :: 15 : ?$

- (A) 77 (B) 66 (C) 76 (D) 67

45. $14 : 28 : 35 :: ?$

- (A) 18 : 27 : 72 (B) 15 : 30 : 45
(C) 16 : 32 : 40 (D) 12 : 26 : 40

46. Amal is taller than Kamal but shorter than Bimal. Bimal is taller than Parimal but shorter than Utpal. If Kamal is taller than Parimal, who is the shortest ?

- (A) Utpal (B) Kamal
(C) Parimal (D) Bimal

47. Find the wrong number in the given series.

3, 8, 4, 15, 6, 35, 9, 79, 13, 168

- (A) 4 (B) 8 (C) 35 (D) 79

48. Find the odd number pair from the given alternatives.

- (A) 2, 5, 11 (B) 7, 10, 17
(C) 4, 7, 13 (D) 6, 9, 15

49. Choose the correct alternative from the given ones that will complete the series.

4, 32, 108, 256, ?, 864

- (A) 480 (B) 498 (C) 500 (D) 520

50. From the given alternative words, select the word which **cannot** be formed using the letters of the given word :

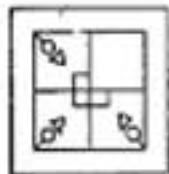
SIMULTANEOUSLY

- (A) YEAST (B) SLIMY
(C) SATISFY (D) MOUSE

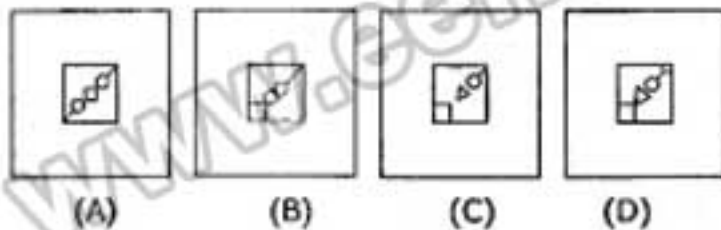
SPACE FOR ROUGH WORK

48. कौन-सी उत्तर आकृति प्रश्न आकृति के प्रतिरूप को पूरा करेगी?

प्रश्न आकृति

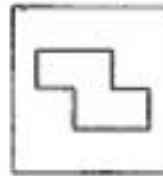


उत्तर आकृतियाँ

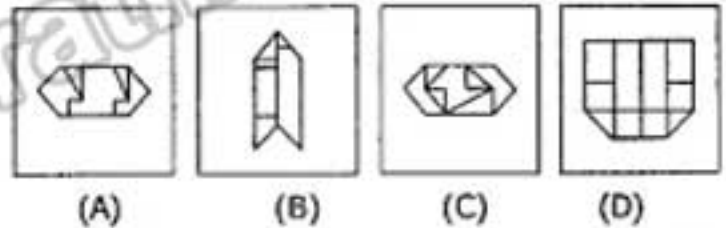


49. दी गई उत्तर आकृतियों में से उस उत्तर आकृति को चुनिए जिसमें प्रश्न आकृति निहित है।

प्रश्न आकृति



उत्तर आकृतियाँ



50. कौन-सा उत्तर निम्नलिखित शब्द का सही प्रतिविम्ब है?
WINDMILL
(A) JJIWQNIW (B) JJIMQNIW
(C) JJIMQNIIM (D) JJIMDNIM

केवल दृष्टिबाधित उम्मीदवारों के लिए

निर्देश : प्रश्न संख्या 44 और 45 में दिए गए विकल्पों में से सम्बन्धित अक्षर/शब्द/संख्या को चुनिए।

44. 17 : 88 :: 15 : ?

(A) 77 (B) 66 (C) 76 (D) 67

45. 14 : 28 : 35 :: ?

(A) 18 : 27 : 72 (B) 15 : 30 : 45
(C) 16 : 32 : 40 (D) 12 : 26 : 40

46. अमल, कमल से लम्बा है किंतु बिमल से छोटा है। बिमल, परिमल से लम्बा है किंतु उत्पल से छोटा है। यदि कमल, परिमल से लम्बा है तो सबसे छोटा कौन है?

(A) उत्पल (B) कमल
(C) परिमल (D) बिमल

47. दी गई श्रृंखला में गलत संख्या ज्ञात कीजिए।

3, 8, 4, 15, 6, 35, 9, 79, 13, 168

(A) 4 (B) 8 (C) 35 (D) 79

48. दिए गए विकल्पों में से विषम संख्या युग्म चुनिए।

(A) 2, 5, 11 (B) 7, 10, 17
(C) 4, 7, 13 (D) 6, 9, 15

49. दिए गए विकल्पों में से उसे चुनिए जो अनुक्रम को पूरा करेगा।

4, 32, 108, 256, ?, 864

(A) 480 (B) 498 (C) 500 (D) 520

50. निम्नलिखित विकल्पों में से वह शब्द चुनिए जो दिए गए शब्द के अक्षरों का प्रयोग करके नहीं बनाया जा सकता :

SIMULTANEOUSLY

(A) YEAST (B) SLIMY
(C) SATISFY (D) MOUSE

PART - II

GENERAL AWARENESS

51. Calculations are made in computer with the help of its :
(A) CU (B) RAM (C) ☒ ALU (D) LSI
52. The keibul Ramjav, the only floating National Park in the world, is in :
(A) Nepal (B) Bhutan
(C) Manipur (D) Mizoram
53. Monopoly is a term associated with :
(A) Socialism (B) ☒ Mixed economy
(C) Communism (D) Capitalism
54. A Rocket works on the principle of law of conservation of :
(A) Mass
(B) Linear momentum
(C) ☒ Energy
(D) Angular momentum
55. Lines drawn on the map connecting places that receive same amount of rainfall are known as :
(A) Isotherms (B) Isobars
(C) Isohalines (D) Isohyets
56. Deficiency of vitamin C causes :
(A) Blindness (B) ☒ Beri-beri
(C) Anaemia (D) Scurvey
57. The Area reserved for the welfare of wildlife is called :
(A) National Park
(B) Botanical Garden
(C) ☒ Sanctuary
(D) Forest
58. Union territory does not include the following :
(A) Andaman and Nicobar
(B) ☒ Jammu and Kashmir
(C) Delhi
(D) Lakshadweep
59. Ranji Trophy is associated with _____.
(A) Hockey
(B) Foot ball
(C) ☒ Cricket
(D) None of the above
60. When money supply increases the price of goods and services :
(A) ☒ Increases (B) Decreases
(C) No change (D) Can't be calculated
61. Who has advocated the adoption of PURA model to eradicate rural poverty ?
(A) A.M. Khushro
(B) Maulana Abdul Kalam Azad
(C) ☒ A.P.J. Abdul Kalam
(D) Abhijit sen
62. Which country's cricket team created test history by successfully chasing a second innings target of 418 runs to beat Australia ?
(A) ☒ England (B) Pakistan
(C) West Indies (D) New Zealand
63. Who among the following was the longest serving Chief Minister of any Indian State ?
(A) Bairon Singh Shekhawat
(B) Jyothi Basu
(C) Devi Lal
(D) Pratap Singh Kairon
64. Which one of the following is the highest producer of wool in the world ?
(A) New Zealand
(B) Canada
(C) United States of America
(D) Australia
65. The term of Rajya Sabha which was five years under the original constitution was raised by 42nd Amendment to :
(A) Seven years (B) ☒ Six years
(C) Eight years (D) Nine years

भाग - II
सामान्य जानकारी

51. कंप्यूटर में किसकी सहायता से परिकलन किया जाता है?

- (A) CU (B) RAM
(C) ALU (D) LSI

52. विश्व का एकमात्र तैरता हुआ राष्ट्रीय उद्यान कीबुल रामजाव कहां पर है?

- (A) नेपाल (B) भूटान
(C) मणिपुर (D) मिजोरम

53. एकाधिकार शब्द किससे संबद्ध है?

- (A) समाजवाद (B) मिश्रित अर्थव्यवस्था
(C) साम्यवाद (D) पूंजीवाद

54. रॉकेट किसके संरक्षण के नियम के सिद्धांत पर कार्य करता है?

- (A) द्रव्यमान (B) रैखिक संवेग
(C) ऊर्जा (D) कोणीय संवेग

55. मानचित्र पर समान मात्रा में वर्षा वाले स्थानों को जोड़ने वाली रेखाओं को क्या कहा जाता है?

- (A) समताप रेखा (B) समदाब रेखा
(C) समलवण रेखा (D) समवर्षा रेखा

56. विटामिन सी की कमी से क्या होता है?

- (A) अंधापन (B) बेरी-बेरी
(C) अरक्तता (D) स्कर्वी

57. वन्य जीव के कल्याण के लिए आरक्षित क्षेत्र को क्या कहा जाता है?

- (A) राष्ट्रीय उद्यान (B) वनस्पति उद्यान
(C) अभय वन (D) वन

58. संघ राज्यक्षेत्र में निम्नलिखित में से क्या शामिल नहीं है ?

- (A) अंडमान और निकोबार
(B) जम्मू और कश्मीर
(C) दिल्ली
(D) लक्षद्वीप

59. रणजी ट्रॉफी किससे सम्बद्ध है?

- (A) हॉकी (B) फुटबाल
(C) क्रिकेट (D) उपर्युक्त में से कोई नहीं

60. जब मुद्रा आपूर्ति बढ़ जाती है तो माल और सेवाओं की कीमत :

- (A) बढ़ती है (B) घटती है
(C) कोई परिवर्तन नहीं होता (D) परिकलित नहीं होता

61. किसने ग्रामीण निर्धनता उन्मूलन के लिए PURA मॉडल अपनाने का समर्थन किया था?

- (A) ए.एम. खुसरो
(B) मौलाना अब्दुल कलाम आज़ाद
(C) ए.पी.जे. अब्दुल कलाम
(D) अमिजित सेन

62. किस देश की क्रिकेट टीम ने आस्ट्रेलिया को हराने के लिए दूसरी इनिंग में 418 रनों के लक्ष्य का सफलतापूर्वक पीछा करते हुए टेस्ट में इतिहास रचा था?

- (A) इंग्लैंड (B) पाकिस्तान
(C) वेस्ट इंडीज (D) न्यूजीलैंड

63. निम्नलिखित में से किसने किसी भारतीय राज्य में मुख्यमंत्री के रूप में सबसे लम्बी सेवा की ?

- (A) भैरों सिंह शेखावत (B) ज्योति बसु
(C) देवी जाल (D) प्रताप सिंह कैराँ

64. विश्व में सर्वाधिक ऊन का उत्पादक निम्नलिखित में से कौन है?

- (A) न्यूजीलैंड
(B) कनाडा
(C) संयुक्त राष्ट्र अमेरीका
(D) आस्ट्रेलिया

65. राज्यसभा का कार्यकाल जो मूल संविधान के अन्तर्गत पांच वर्ष था, 42 वें संशोधन द्वारा बढ़ा कर कितना कर दिया गया ?

- (A) सात वर्ष (B) छः वर्ष
(C) आठ वर्ष (D) नौ वर्ष

66. Name the instrument which can record the electrical changes during heart beat.
 (A) Electrocardiograph
 (B) Electrocardiogram
 (C) Stethoscope
 (D) Sphygmomanometer
67. The southernmost point of India is called :
 (A) Kanyakumari (B) Indira Point
 (C) Rameshwaram (D) Cape Comorin
68. Which one of the following though termed gardens, infact is not a garden as such ?
 (A) Vrindavan Gardens of Mysore
 (B) Khushro Gardens of Lucknow
 (C) Eden Gardens of Kolkata
 (D) Hanging Gardens of Mumbai
69. Leaves appear green because they :
 (A) Absorb green light
 (B) Reflect green light
 (C) Both
 (D) Neither
70. Bhagat Singh, Rajguru and Sukhdev were hanged on :
 (A) March 23, 1931 (B) March 23, 1932
 (C) March 23, 1933 (D) March 23, 1934
71. Which of the famous ruler was called "The Father of Inscriptions" ?
 (A) Chandra Gupta Mourya
 (B) Ashoka
 (C) Kanishka
 (D) Samudra Gupta
72. Tipu Sultan was the ruler of :
 (A) Hyderabad (B) Mysore
 (C) Vijayanagar (D) Magadh
73. Radioactive inert gas is :
 (A) He (B) Ne (C) Rn (D) Xe
74. The harmful compound in automobile exhaust is :
 (A) Carbon dioxide
 (B) Carbon monoxide
 (C) Smoke
 (D) All the above
75. The Chairman of the 13th Finance Commission is :
 (A) D. Subba Rao
 (B) Montek Singh Ahluwalia
 (C) Manmohan Singh
 (D) Vijay. L. Kelkar
76. The metal used in domestic electric cables is :
 (A) Aluminium (B) Iron
 (C) Copper (D) Nickel
77. CAD stands for :
 (A) Computer Aided Design
 (B) Computer Algorithm for Design
 (C) Computer Application in Design
 (D) Compact Aided Design
78. The resistance of a conductor increases with :
 (A) Increase in length
 (B) Increase in temperature
 (C) decrease in cross-sectional area
 (D) all of these
79. The average salt content of sea water is :
 (A) 1% (B) 3.5%
 (C) 10% (D) 12.3%
80. The city which has Headquarters of two railway zones is :
 (A) Kolkata
 (B) Mumbai
 (C) Both (A) and (B)
 (D) None of the above
81. The Tajmahal is affected by :
 (A) CO (B) NO (C) CO₂ (D) SO₂
82. First Indian Woman who reached Antarctica :
 (A) Mohel Musa (B) Pritisu Gupta
 (C) Geeta Ghosh (D) Ujjawala Patil
83. Who is the author of the book 'Question and Answer' ?
 (A) Salman Rashdi
 (B) Tasleema Nasreen
 (C) Vikas Swarup
 (D) Arvind Adiga

66. हृदय स्पंद के दौरान वैद्युत परिवर्तनों को रिकार्ड करने वाले उपकरण का नाम क्या है।
 (A) इलेक्ट्रोकार्डियोग्राफ
 (B) इलेक्ट्रोकार्डियोग्राम
 (C) स्टेथोस्कोप
 (D) स्किम्मोमैनीमीटर
67. भारत के दक्षिणी छोर को क्या कहा जाता है ?
 (A) कन्याकुमारी (B) इन्दिरा प्वाइंट
 (C) रामेश्वरम (D) केप कैमोरिन
68. निम्नलिखित में से किसे यद्यपि, उद्यान (गार्डन) कहा जाता है किन्तु वास्तव में वह उद्यान नहीं है?
 (A) मैसूर का वृन्दावन गार्डन
 (B) लखनऊ का खुसरो गार्डन
 (C) कोलकाता का ईडन गार्डन
 (D) मुम्बई का हेंगिंग गार्डन
69. पत्तियां हरी क्यों दिखाई देती हैं ?
 (A) हरे प्रकाश का अवशोषण करती हैं
 (B) हरा प्रकाश परावर्तित करती हैं
 (C) दोनों
 (D) कोई नहीं
70. भगत सिंह, राजगुरु और सुखदेव को फांसी पर कब चढ़ाया गया था ?
 (A) मार्च 23, 1931 (B) मार्च 23, 1932
 (C) मार्च 23, 1933 (D) मार्च 23, 1934
71. किस प्रसिद्ध शासक को "शिलालेखों का जनक" कहा जाता था?
 (A) चन्द्र गुप्त मौर्य (B) अशोक
 (C) कनिष्क (D) समुद्र गुप्त
72. टीपू सुल्तान कहाँ का शासक था ?
 (A) हैदराबाद (B) मैसूर
 (C) विजय नगर (D) मगध
73. रेडियोधर्मी अक्रिय गैस क्या है?
 (A) He (B) Ne (C) Rn (D) Xe
74. ऑटोमोबाइल निर्वात में हानिकारक यौगिक कौन-सा है?
 (A) कार्बन डाइऑक्साइड
 (B) कार्बन मोनोऑक्साइड
 (C) धुआँ
 (D) उपर्युक्त सभी
75. तेरहवें वित्त आयोग का अध्यक्ष कौन हैं ?
 (A) डी. सुब्बा राव
 (B) मोन्टेक सिंह अहलूवालिया
 (C) मनमोहन सिंह
 (D) विजय एल. केलकर
76. घरेलू विद्युत केबल में प्रयोग की जाने वाली धातु क्या है?
 (A) ऐलुमिनियम (B) लोहा
 (C) तांबा (D) निकेल
77. सीएडी (CAD) का अर्थ क्या है?
 (A) कंप्यूटर एडिड डिजाइन
 (B) कंप्यूटर ऐल्गोरिथ्म फॉर डिजाइन
 (C) कंप्यूटर एप्लीकेशन इन डिजाइन
 (D) कम्पैक्ट एडिड डिजाइन
78. चालक का प्रतिरोध किससे बढ़ जाता है?
 (A) लम्बाई में वृद्धि
 (B) तापमान में वृद्धि
 (C) अनुप्रस्थ काट क्षेत्र में कमी
 (D) इनमें से सभी
79. समुद्र के जल में औसत लवण की मात्रा कितनी है?
 (A) 1% (B) 3.5%
 (C) 10% (D) 12.3%
80. किस नगर में दो रेलवे जोन का मुख्यालय है?
 (A) कोलकाता
 (B) मुम्बई
 (C) (A) और (B) दोनों
 (D) उपर्युक्त में से कोई नहीं
81. ताजमहल किससे प्रभावित हो रहा है?
 (A) CO (B) NO (C) CO₂ (D) SO₂
82. अंटार्कटिका पहुँचने वाली पहली भारतीय महिला कौन है?
 (A) मोहेल मुसा (B) प्रीतिसु गुप्ता
 (C) गीता घोष (D) उज्ज्वला पाटिल
83. "क्वेश्चन एण्ड आन्सर" नामक पुस्तक का लेखक कौन है?
 (A) सलमान रशदी (B) तस्लीमा नसरीन
 (C) विकास स्वरूप (D) अरविंद अडिग

84. Who was the author of the "Communist Manifesto" and "Das Capital" ?
 (A) Leo Tolstoy (B) Gorkhy
 (C) Turganev (D) Karl Marx
85. The largest gland in a mammal is :
 (A) Liver (B) Pancreas
 (C) Spleen (D) Parotid gland
86. Which of the following has no dimension ?
 (A) Angular velocity
 (B) Momentum
 (C) Angular momentum
 (D) Strain
87. The bottom of a beaker filled with liquid appears to be slightly raised due to :
 (A) Refraction (B) Interference
 (C) Diffraction (D) Reflection
88. From Guwahati to Chandigarh the monsoon rainfall shows :
 (A) an increasing trend
 (B) a decreasing trend
 (C) a cyclic trend
 (D) an irregular trend
89. Varghese Kurien was associated with :
 (A) White Revolution
 (B) Yellow Revolution
 (C) Green Revolution
 (D) Blue Revolution
90. Frontier Gandhi was the nick name of :
 (A) Khan Abdul Gaffar Khan
 (B) Vinoba Bhave
 (C) Mahatma Gandhi
 (D) None of the above
91. Which one of the following is a Qualitative Credit Control Method ?
 (A) Open market operation
 (B) Variable reserve ratio
 (C) Moral suasion
 (D) Bank rate policy
92. Which of the following is not a Government Sponsored Organisation ?
 (A) SIDBI (Small Industries Development Board of India)
 (B) ICICI (Industrial Credit and Investment Corporation of India)
 (C) NABARD (National Bank for Agriculture in Rural Development)
 (D) National Housing Bank
93. Jhum Cultivation is still prevalent in :
 (A) Mizoram (B) Nagaland
 (C) Manipur (D) All of the above
94. What are the products of Photosynthesis in plants ?
 (A) Water and carbondioxide
 (B) Water, oxygen and protein
 (C) Water, oxygen and carbohydrate
 (D) Protein, carbohydrate and water
95. Mangroves are :
 (A) Rain forests
 (B) Submerged coastal forests
 (C) Tropical forests
 (D) Deltaic forests
96. Koyana Hydro-electric Project is located in the State of :
 (A) Bihar
 (B) Tamil Nadu
 (C) Andhra Pradesh
 (D) Maharashtra
97. Kaziranga National Park is famous for :
 (A) Tiger (B) Musk Deer
 (C) Elephant (D) Rhinoceros
98. The President submits his/her letter of resignation to :
 (A) The Prime Minister
 (B) The Vice-President
 (C) The Chief-Justice of India
 (D) Speaker of Lok Sabha
99. In which of the following substances, if a few drops of concentrated sulphuric acid is added, it turns black ?
 (A) Sugar (B) Edible salt
 (C) Alcohol (D) Vinegar
100. Compelling an accused person to give specimen signature amounts to :
 (A) Violation of right to personal liberty
 (B) Violation of rule of law
 (C) Violation of right to equal protection of laws
 (D) Violation of principles of natural justice

84. "कम्युनिस्ट मैनिफेस्टो" और "दास कैपिटल" का लेखक कौन था?
 (A) लिओ टालस्टाय (B) गोर्की
 (C) तुर्गनेव (D) कार्ल मार्क्स
85. स्तनपायी में सबसे बड़ी ग्रंथि कौन सी होती है ?
 (A) यकृत (B) अग्न्याशय
 (C) प्लीहा (D) कर्णपूर्व ग्रंथि
86. निम्नलिखित में से किसकी कोई विमा नहीं होती?
 (A) कोणीय वेग (B) संवेग
 (C) कोणीय संवेग (D) वितति
87. तरल से भरे हुए बीकर का तल किस कारण से कुछ ऊपर उठा हुआ दिखाई देता है?
 (A) अपवर्तन (B) व्यतिकरण
 (C) विवर्तन (D) परावर्तन
88. गुवाहाटी से चंडीगढ़ तक मानसूनी वर्षा की प्रवृत्ति क्या होती है?
 (A) वर्धमान प्रवृत्ति (B) हासमान प्रवृत्ति
 (C) चक्रीय प्रवृत्ति (D) अनियमित प्रवृत्ति
89. वर्गीज कुरियन किससे सम्बद्ध है?
 (A) श्वेत क्रांति (B) पीत क्रांति
 (C) हरित क्रांति (D) नील क्रांति
90. सीमांत गांधी किसका उपनाम था ?
 (A) खान अब्दुल गफ्फार खान
 (B) दिनोबा भावे
 (C) महात्मा गांधी
 (D) उपर्युक्त में से कोई नहीं
91. निम्नलिखित में से क्या गुणात्मक ऋण नियंत्रण पद्धति है ?
 (A) खुला बाजार प्रचालन
 (B) परिवर्ती आरक्षित अनुपात
 (C) नैतिक प्रत्यायन
 (D) बैंक दर नीति
92. निम्नलिखित में से कौन-सा सरकारी प्रायोजित संगठन नहीं है ?
 (A) एन आइ डी वी आइ (भारतीय लघु उद्योग विकास बोर्ड)
 (B) आइ सी आइ सी आइ (भारतीय औद्योगिक ऋण और निवेश निगम)
 (C) एन ए वी ए आर डी (राष्ट्रीय कृषि ग्रामीण विकास बैंक)
 (D) राष्ट्रीय आवास बैंक
93. झूम कृषि अभी भी कहां प्रचलित है?
 (A) मिजोरम (B) नागालैंड
 (C) मणिपुर (D) उपर्युक्त सभी
94. पौधों में प्रकाश संश्लेषण के उत्पाद कौन-से हैं?
 (A) जल और कार्बनडाइऑक्साइड
 (B) जल, ऑक्सीजन और प्रोटीन
 (C) जल, ऑक्सीजन और कार्बोहाइड्रेट
 (D) प्रोटीन, कार्बोहाइड्रेट और जल
95. मैंग्रोव क्या होते हैं ?
 (A) वर्षा वन (B) निमज्जित तटीय वन
 (C) उष्णकटिबंधीय वन (D) डेल्टीय वन
96. कोयना हयड्रो-इलेक्ट्रिक परियोजना किस राज्य में स्थित है ?
 (A) बिहार (B) तमिलनाडु
 (C) आंध्र प्रदेश (D) महाराष्ट्र
97. काजीरंगा राष्ट्रीय उद्यान किसके लिए प्रसिद्ध है?
 (A) बाघ (B) कस्तूरी मृग
 (C) हाथी (D) गैंडा
98. राष्ट्रपति अपना त्यागपत्र किसे प्रस्तुत करता है ?
 (A) प्रधान-मंत्री
 (B) उप-राष्ट्रपति
 (C) भारत के मुख्य-न्यायाधीश
 (D) लोकसभा अध्यक्ष
99. निम्नलिखित किस पदार्थ में यदि कुछ बूंद सांद्रित सल्फ्यूरिक एसिड डाल दिया जाए तो वह काला हो जाता है?
 (A) शर्करा (B) खाद्य लवण
 (C) ऐल्कोहॉल (D) सिरका
100. अभियुक्त को नमूना हस्ताक्षर करने के लिए बाध्य करना क्या माना जाता है?
 (A) वैयक्तिक स्वतंत्रता के अधिकार का उल्लंघन
 (B) विधि के नियम का उल्लंघन
 (C) विधि के समान संरक्षण के अधिकार का उल्लंघन
 (D) नैसर्गिक न्याय के सिद्धांत का उल्लंघन

PART - III

ENGLISH LANGUAGE AND COMPREHENSION

Direction : In Question No. 101 to 110, some parts of the sentences have errors and some are correct. Find out which part of a sentence has an error and blacken the oval [●] corresponding to the appropriate letter (A), (B), (C). If a sentence is free from errors, blacken the oval corresponding to (D) in the Answer Sheet.

101. I already had told/you about /
(A) (B)
his deplorable condition/ No error.
(C) (D)
102. Rajat's brother as well as I/am guilty /
(A) (B)
of cheating Ramesh/ No error.
(C) (D)
103. A fire was started accidentally, /
(A)
but we were able /to put it out / No error.
(B) (C) (D)
104. Scarcely he had/gone a few steps/
(A) (B)
when his brother called him back /No error.
(C) (D)
105. No sooner/I had started for college /
(A) (B)
than it began to rain/ No error.
(C) (D)
106. A Two bedroom flat/with all furnitures/
(A) (B)
is available for sale/ No error.
(C) (D)
107. Either he or his friends/
(A)
is managing /this show/ No error.
(B) (C) (D)
108. Taking regular exercise/are good /for health/
(A) (B) (C)
No error.
(D)
109. These tests /show whether someone /
(A) (B)
is having an infection / No error.
(C) (D)
110. The later part of Gandhi's life/
(A)
till he was assassinated /
(B)
was in considerable measure the life of the
nation as well/ (C)
No error
(D)

Direction : In Question No. 111 to 115, sentences are given with blanks to be filled in with an appropriate word(s). Four alternatives are suggested for each question. Choose the correct alternative out of the four and indicate it by blackening the appropriate oval [●] in the Answer Sheet.

111. I will have to _____ on your opinion in this matter.
(A) believe (B) stand (C) follow (D) rely
112. There was so much _____ material in the speech that it was difficult to know what the speaker wanted to say.
(A) extra (B) superficial
(C) beautiful (D) variegated
113. The men were asked not to _____ while the enemy advanced.
(A) go back (B) retreat
(C) return (D) retire
114. Each person had to _____ himself a character in the musical play.
(A) administer (B) a sign
(C) assign (D) attest
115. After the war, the battle field was littered with _____.
(A) corpses (B) corps
(C) carcasses (D) cadavers

Direction : In Question No. 116 to 120, out of the four alternatives, choose the one which best expresses the meaning of the given word and mark it in the Answer Sheet.

116. Refrain
(A) shun (B) refuse
(C) abstain (D) decline
117. Spasmodic
(A) Fleeting (B) Capricious
(C) Desultory (D) Irregular
118. Hide
(A) candid (B) protect
(C) conceal (D) banish
119. Uncouth
(A) Rough (B) Ungraceful
(C) Slovenly (D) Dirty
120. Sanguine
(A) Depressed (B) Pessimistic
(C) Anxious (D) Optimistic

Direction : In Question No. 121 to 125, choose the word opposite in meaning to the given word and mark it in the Answer Sheet.

121. Majestic
 (A) Humble (B) Posing
 (C) August (D) Submissive
122. Literal
 (A) figurative (B) subjective
 (C) objective (D) negative
123. Utopian
 (A) Imaginary (B) Practical
 (C) Escape (D) Illusion
124. Cacophony
 (A) Discord (B) Racket
 (C) Harmony (D) Systematic
125. Guest
 (A) servant (B) host
 (C) maid (D) senior

Direction : In Question No. 126 to 130, four alternatives are given for the Idiom/Phrase underlined in the sentence. Choose the alternative which best expresses the meaning of the Idiom/Phrase and mark it in the Answer Sheet.

126. The young people in the hall gave a loud cheer to the older people who were cutting the rug.
 (A) dancing vigorously
 (B) cutting the carpets
 (C) sitting calmly
 (D) wearing trendy clothes
127. People who call a spade a spade are always appreciated.
 (A) who play cards (B) who tell the truth
 (C) who help others (D) who are generous
128. He played ducks and drakes with his ancestral property and was ruined.
 (A) to sell (B) to gamble
 (C) to waste (D) to deceive
129. The lawyer tried to put words in his client mouth.
 (A) not to tell anything
 (B) tell a person what to say
 (C) ask a person to lie
 (D) ask a person to pretend
130. Don't come in his way. It is like playing with fire.
 (A) burning yourself
 (B) being angry
 (C) facing an easy situation
 (D) facing a dangerous situation

Direction : In Question No. 131 to 135, the 1st and the last sentences of the passage are numbered 1 and 6. The rest of the passage is split into four parts and named P, Q, R and S. These four parts are not given in their proper order. Read the sentence and find out which of the four combinations is correct. Then find the correct answer and indicate it by blackening the appropriate oval [●] in the Answer Sheet.

131. 1 Ashoka ascended the throne after his father Bindusara's death.
 P Kalinga was annexed to the Mauriyan Empire.
 Q But they were ultimately defeated.
 R The forces of Kalinga put up a tough resistance.
 S Eight years after his coronation he attacked Kalinga.
 6 But the enormous loss of innocent lives in the battle of Kalinga filled him with remorse.
 (A) S P R Q (B) S R P Q
 (C) P Q R S (D) S R Q P
132. 1 Surprisingly, Salim Ali had no university degree.
 P He left for Burma to help his brother in his farm.
 Q In the jungles of Burma he looked for birds instead of animals.
 R Although he joined college, his intense dislike for mathematics did not allow him to continue his studies.
 S But here again he proved a failure.
 6 When he returned home he did a course in zoology and was appointed a guide at the museum of the Bombay Natural History Society.
 (A) P R S Q (B) R P S Q
 (C) P Q S R (D) S P Q R
133. 1 Anthony was acting oddly, even for a robber.
 P It worked.
 Q He drew his toy gun, demanded money, then asked the teller to call the police.
 R He entered a bank in Pennsylvania.
 S He later explained that he wanted to be arrested so he could get away from his wife.
 6 He was sentenced to three years in prison.
 (A) P Q S R (B) P Q R S
 (C) R Q P S (D) R Q S P
134. 1 A few years ago, I was on holiday in the Himalayas.
 P I approached the owner of a restaurant.
 Q It was a place inhabited by poor people and there was no proper hotel.
 R I stopped for the night in a small village.
 S He offered me a bed for the night.
 6 I was surprised by the hospitality of these people with such frugal resources.
 (A) R Q P S (B) Q R P S
 (C) R P S Q (D) P S R Q

135. 1 Swami Vivekananda was the Hindu monk of India.
 P He went to Chicago and attended the Parliament of Religion.
 Q Sri Ramkrishna inspired him to serve the poor suffering humanity as his god.
 R He came back to India.
 S Sri Ramkrishna the wonderful god-man of Dakshineswar was his preceptor.
 6 He founded the now world-famous Ramakrishna Mission.
- (A) P Q R S (B) S Q P R
 (C) P Q S R (D) P S R Q

Direction : In Question No. 136 to 145, a sentence has been given in Active/Passive Voice. Out of the four alternatives suggested, select the one which best expresses the same sentence in Passive/Active Voice and mark your answer in the Answer Sheet.

136. He has raised an important question.
 (A) An important question has raised by him.
 (B) An important question has been raised by him.
 (C) An important question was raised by him.
 (D) An important question is raised by him.
137. Some one has stolen my purse.
 (A) My purse had been stolen.
 (B) My purse is stolen.
 (C) My purse was stolen.
 (D) My purse has been stolen (by someone).
138. Amy couldn't handle the job alone.
 (A) The job couldn't have been handled by Amy alone.
 (B) The job could be handled by Amy alone.
 (C) The job could not handle Amy alone.
 (D) The job couldn't be handle by Amy alone.
139. Who broke the glass ?
 (A) By whom was the glass broken ?
 (B) By whom is the glass broken ?
 (C) By whom has the glass been broken ?
 (D) By whom had the glass broken ?
140. Two boys were helping a blind man.
 (A) A blind man was helped by two boys.
 (B) A blind man is being helped by two boys.
 (C) A blind man was being helped by two boys.
 (D) A blind man has been helped by two boys.
141. Bring a glass of water.
 (A) Let a glass of water is brought.
 (B) Let a glass of water has to be brought.
 (C) Let a glass of water is to be brought.
 (D) Let a glass of water be brought.
142. The roof was repaired by John.
 (A) John repaired the roof.
 (B) John repairs the roof.
 (C) John is repairing the roof.
 (D) John was repairing the roof.
143. Do you know her ?
 (A) Is she known to you ?
 (B) Does she known to you ?
 (C) Was she known to you ?
 (D) Has she known to you ?

144. The injured were taken to the hospital by the villagers.
 (A) The villagers were taking the injured to the hospital.
 (B) The villagers are taking the injured to the hospital.
 (C) The villagers take the injured to the hospital.
 (D) The villagers took the injured to the hospital.
145. I kept the flowers in a vase.
 (A) The flowers are kept in a vase.
 (B) The flowers were being kept in a vase.
 (C) The flowers were kept in a vase.
 (D) The flowers had been kept in a vase.

Direction : In Question No. 146 to 155, a part of the sentence is underlined. Below are given alternatives to the underlined part at (A), (B), (C) which may improve the sentence. Choose the correct alternative. In case no improvement is needed your answer is (D). Mark your answer in the Answer Sheet.

146. I saw a bloat of hippopotamus.
 (A) I saw a bloat of hippopotami.
 (B) I saw a flock of hippopotamus.
 (C) I saw a flock of hippopotami.
 (D) No improvement
147. Bye, Sheila see you some time.
 (A) later (B) soon
 (C) never (D) No improvement
148. The catties are grazing in the field.
 (A) cattle is (B) cattle are
 (C) catties were (D) No improvement
149. Cowards die many times before their death.
 (A) Cowards before their death many times die.
 (B) Cowards before die many times their death.
 (C) Cowards many times die before their death.
 (D) No improvement
150. His opponent was too strong, Ram had to except defeat.
 (A) expect (B) accept
 (C) confess (D) No improvement
151. The constable asked to the man what he was doing at the shop-window.
 (A) The constable asked the man what, at the shop-window, he was doing.
 (B) The constable asked the man what he was doing at the shop-window.
 (C) The constable asked what, at the shop-window, the man was doing.
 (D) No improvement
152. I am confidant of winning the competition.
 (A) confidence (B) confidential
 (C) confident (D) No improvement
153. He told me that he wants to have a talk with me.
 (A) he wanted
 (B) he is wanting
 (C) he has been wanting
 (D) No improvement

154. The descent from the mountain peak was slow and painful.
 (A) descent (B) decline
 (C) decrease (D) No improvement
155. Not only the master but also the servants was sad.
 (A) is (B) were
 (C) where (D) No improvement

Direction : In Question No. 156 to 165, a sentence has been given in Direct/Indirect. Out of the four alternatives suggested, select the one which best expresses the same sentence in Indirect/Direct and mark your answer in the Answer Sheet.

156. I said to him, "You are the most trust worthy friend that I have."
 (A) I told him that he was the most trust worthy friend that I had.
 (B) I told him that he is the most trust worthy friend that I had.
 (C) I told him that he has been the most trust worthy friend that I have.
 (D) I told him that he was the most trust worthy friend I will ever have.
157. He said, 'Honesty is the best policy.'
 (A) He told that honesty was the best policy.
 (B) He said honesty was the best policy.
 (C) He said that honesty has been the best policy.
 (D) He says that honesty is the best policy.
158. He said to me, "May god bless you."
 (A) He said to me that god may bless me.
 (B) He said that I may be blessed by god.
 (C) He prayed that god might bless me.
 (D) He said that may I be blessed by god.
159. The policeman asked the man why he was sleeping on the bench.
 (A) The policeman asked the man, "Why were you sleeping on the bench? Were you drunk?"
 (B) The policeman asked the man, "Why you slept on the bench? Were you drunk?"
 (C) The policeman asked the man, "Why are you sleeping on the bench?"
 (D) The policeman asked the man, "Why are you sleeping on the bench? Was you drunk?"
160. Joan said to her friend, "The colour is beautiful, isn't it?"
 (A) Joan told her friend that the colour is beautiful.
 (B) Joan asked her friend if the colour is beautiful, isn't it.
 (C) Joan said to her friend that she thought that the colour was beautiful.
 (D) Joan said to her friend that the colour was beautiful.

161. "Do you know anything about them?" She asked the captain.
 (A) She asked the captain does he know anything about them.
 (B) She asked the captain did he know anything about them.
 (C) She asked the captain if he knew anything about them.
 (D) She asked the captain if he knows anything about them.
162. I implored the mother not to beat the child like that.
 (A) The mother told me, "Don't beat the child like this."
 (B) I said, "Will you beat the child like this?"
 (C) I said to the mother, "Please don't beat the child like this."
 (D) I told the mother, "Do beat the child like this."
163. The police officer said, "We have caught the main culprit and we are trying to catch his accomplices".
 (A) The police officer said that they had caught the main culprit and have been trying to catch his accomplices.
 (B) The police officer said that they have caught the main culprit but not his accomplices.
 (C) The police officer said that they caught the main culprit and are trying to catch his accomplices
 (D) The police officer said that they had caught the main culprit and that they were trying to catch his accomplices.
164. Othello said, "This is my first gift to my wife."
 (A) Othello said that it was his first gift to his wife.
 (B) Othello declared that, that was his first gift to his wife.
 (C) Othello said that this was his first gift to his wife.
 (D) Othello said that, that is his first gift to his wife.
165. Fernando said, "It was the best experience of my stay here."
 (A) Fernando said that it had been the best experience of his stay there.
 (B) Fernando said that it is the best experience of his stay there.
 (C) Fernando said that it was the best experience of his stay here.
 (D) Fernando said that it has been the best experience of his stay here.

Direction : In Question No. 166 to 185, in the following two passages some of the words have been left out. Read the passages carefully and choose the correct answer to each question out of the four alternative and fill in the blanks.

Passage I (Q.No 166 - 175)

No Indian, irrespective of his colour or creed, has been able to escape completely from the Institution of caste. Its laws (166) been obeyed by all without murmur, complaint or hesitation. Even many a sublime social (167) has been sacrificed at the altar of caste to (168) admission to the social (169). In all ages, anti-caste movements (170) launched but they were rendered (171) due to the inherent strength of the (172) of caste. It remained as (173) as ever. As an institution of social control, it has always been and (174) a hindrance in the development of social consciousness or national (175).

166. (A) has (B) had (C) always (D) have
 167. (A) idea (B) law (C) principle (D) good
 168. (A) get (B) earn (C) allow (D) seek
 169. (A) rank (B) organization (C) order (D) code
 170. (A) was (B) had (C) were (D) is
 171. (A) useless (B) ineffective (C) powerless (D) futile
 172. (A) institute (B) institution (C) organisation (D) agency
 173. (A) constant (B) delicate (C) real (D) firm
 174. (A) continue to be (B) will continue to be (C) become (D) going to be
 175. (A) revival (B) resurgence (C) renaissance (D) awakening

Passage II (Q. NO. 176 - 185)

Most British People go abroad on holiday to visit family, or on short business trips. People are (176) to find out how to get urgent treatment before leaving the UK. They have to (177) a form which explains what they (178) do if they fall ill or (179) an accident, and what arrangements exist in (180) country for medical treatment. The regulations are fairly simple but (181) do not have this information, they may (182) that private medical care is extremely expensive. It is not unusual for people to discover that they do not have (183) money with them to (184) the total costs and (185) such circumstances an already difficult situation becomes even more complicated.

176. (A) advised (B) spoken (C) said (D) suggested
 177. (A) bring (B) fill (C) get (D) put

178. (A) should (B) will (C) may (D) ought
 179. (A) take (B) happen (C) get (D) have
 180. (A) each (B) one (C) this (D) their
 181. (A) because (B) people (C) as (D) whether
 182. (A) find (B) know (C) want (D) look
 183. (A) little (B) full (C) few (D) enough
 184. (A) have (B) cover (C) spend (D) give
 185. (A) at (B) up (C) on (D) in

Direction : In Question No. 186 to 200, you have 3 (three) brief passages with 5 questions following each passage. Read the passages carefully and choose the best answer to each question out of the four alternatives and mark it by blackening the appropriate oval [●] in the Answer Sheet.

Passage I (Q.No. 186 - 190)

A poor Arab, travelling in the desert, was thirsty and tired, when he saw a spring. With a grateful heart he drank the water which he felt was extraordinarily sweet. He filled his leather bottle with the pure water, and continued on his way.

After many days he arrived at Baghdad. Securing an audience with the potentate, he gravely presented him with the leather bottle of water. It was the only gift he had.

The Caliph received the gift with great pleasure. Pouring some of the water into the goblet, he drank it, and then, thanking the poor Arab, rewarded him generously for his gift.

All the courtiers pressed forward, eager to taste the wonderful water. But the Caliph denied them the privilege, even to his favourites.

When the Arab had departed with a happy heart, the Caliph explained why he had acted so strangely. The water in the leather bottle, because of its long storage, had become impure and foul tasting. He knew that if the others had tasted the water, they would have shown their disgust, and the poor man's feelings would have been wounded.

186. The Arab gave the Caliph _____ water to drink without knowing.
 (A) the pure (B) the foul tasting (C) the wonderful (D) the sweet tasting
 187. Only _____ felt that the water was extraordinarily sweet.
 (A) the Caliph (B) the poor Arab (C) the people (D) the favourites
 188. The poor Arab had _____ to give to the Caliph.
 (A) no gifts (B) just a leather bottle (C) just one gift (D) has many gifts

189. The Caliph _____ the wonderful water which was presented by the poor Arab.
 (A) shared (B) was eager to share
 (C) finally shared (D) did not share
190. The Caliph knew that others would show their _____ once they've tasted the water.
 (A) disgust (B) appreciation
 (C) feelings (D) wounds

Passage II (Q.No. 191 - 195)

In a village in India, two parties fell out as a result of a dispute between two children over the possession of a pin. Lathis were freely used and injuries sustained on both sides.

The more we are able to control our feelings, the more we act like intelligent human beings.

Rather than merely avoid losing our temper, which is a negative procedure at best, we should strive to show a friendly understanding and a consideration for others, even when they have done things to irritate us. This does not mean being overly soft. It merely proves we are capable of disagreement without being impolite. In your home, your office, driving along the road, getting on the bus, shopping in the market, or in a hundred daily circumstances you have countless opportunities to show that we can rise above the temptation to be impatient, complaining or sarcastic.

191. Two parties in India fought over _____.
 (A) a pin (B) a village
 (C) lathis (D) two children
192. We should _____ to others in order to avoid creating disputes.
 (A) avoid negative procedure
 (B) lose our temper
 (C) be friendly and considerate
 (D) cause injuries
193. _____ avoid being impatient, complaining and sarcastic in our life.
 (A) We can choose to
 (B) The temptation is too strong to
 (C) It is beyond us to
 (D) We cannot
194. We act like intelligent human beings when we _____.
 (A) stop a dispute between children
 (B) control our feelings
 (C) freely sustain injuries
 (D) we loose our temper
195. We should _____ when people have done things to irritate us.
 (A) not be soft
 (B) show friendly understanding
 (C) loose our temper
 (D) be too soft

Passage III (Q.No. 196 - 200)

Beds are the best evidence of the importance that man attaches to sleep. What deep sleeper can have gazed without envy at the monumental, spacious, four - poster beds of the past ? It is easy to imagine one climbing into a bed like this, drawing the curtains and enjoying hours and hours of uninterrupted sleep. It is only in our days that beds have been debased. The first victim in our effort to save space has been, of course, the bed. Everything is done to make it less conspicuous. It folds up and disappears into the wall or performs astonishing acrobatic tricks and turns itself into a couch or an armchair. Even the bedroom as such has disappeared and has been replaced by a thing called a 'sitting-bedroom' in which you can neither comfortably sleep nor sit. What with further refinement like rubber mattresses and electric blankets it is no wonder that many of us suffer from insomnia and seek salvation from alarm clocks to wake up each morning. Psychologists, meanwhile are busy studying our sleep habits and tell us that we cannot truly rest unless we dream. But most of us dream during the few minutes of blissful sleep that follow each rude awakening. Only our ancestors knew the true value of sleep. We have simply to remember that Shakespeare not only gave the subject a lot of attention but rated beds so highly as to make out a will leaving his wife his 'second-best bed'.

196. This passage deals with :
 (A) the sleeping patterns of psychologists
 (B) monuments that resemble beds in the past
 (C) modern beds and rubber mattresses
 (D) the decline in the importance attached to sleep
197. The phrase 'less conspicuous' means :
 (A) that which occupies less space
 (B) less obvious
 (C) smaller in size
 (D) able to change without effort
198. In order to save space we have :
 (A) invented the electric blanket
 (B) done away with comfortable beds
 (C) forced sofas to perform acrobatics
 (D) included four poster beds in our rooms
199. 'It is only in our days that the bed has been debased'. This means :
 (A) during our times the bed has been given more importance
 (B) during modern times the beds have been relegated to basements
 (C) the bed has been lowered in quality and value today
 (D) beds of higher quality are made today
200. According to the author, we suffer from insomnia because :
 (A) We attach more importance to wall mountable beds
 (B) We live in perpetual fear of the alarm clock
 (C) Shakespeare left his second-best bed to his wife
 (D) We sleep on uncomfortable bedding

MANNER IN WHICH ANSWERS ARE TO BE GIVEN

Directions :— Each question or incomplete statement is followed by four alternative suggested answers or completions. In each case, you are required to select the one that correctly answers the question or completes the statement and blacken [●] appropriate oval A, B, C or D by **Black/Blue Ball-point pen** against the question concerned in the Answer-Sheet.

(For VH candidates corresponding oval will be blackened by the scribe.)

The following example illustrates the manner in which the questions are required to be answered.

Example :—

Question No. 'Q' —

Out of the four words given below, three are alike in some way and one is different. Find the **ODD** word :

- (A) Girl
- (B) Boy
- (C) Woman
- (D) Chair

Explanation :— In the above example, the correct answer is 'Chair' and this answer has been suggested at 'D'. Accordingly, the answer is to be indicated by blackening [●] the oval by Black/Blue Ball-point pen in column 'D' against Question No. 'Q' in the manner indicated below :

Question No. 'Q'

- | | | | |
|-----|-----|-----|-----|
| [A] | [B] | [C] | [●] |
|-----|-----|-----|-----|

There is only one correct answer to each question. You should blacken [●] the oval of the appropriate column, viz., A, B, C or D. If you blacken [●] more than one oval against any one question, the answer will be treated as wrong. If you wish to cancel any answer, you should **completely erase** that black mark in the oval in the Answer-Sheet, and then blacken the oval of revised response.

You are **NOT** required to mark your answers in this Booklet. All answers must be indicated in the Answer-Sheet only.

उत्तर देने की विधि

निर्देश :— प्रत्येक प्रश्न अथवा प्रत्येक अधूरे कथन के बाद चार उत्तर अथवा पूरक कथन सुझाए गए हैं। प्रत्येक दशा में आपको किसी एक को चुनना है जो प्रश्न का सही उत्तर दे अथवा कथन को पूरा करे और आपको उत्तर-पत्रिका में उपयुक्त अण्डाकार खाने A, B, C या D को काले/नीले बॉल-पॉइंट पेन से काला [●] करना है।

(दृष्टिबाधित उम्मीदवारों के लिए संगत अण्डाकार लिपिक द्वारा काला किया जाए।)

नीचे दिए गए उदाहरण से स्पष्ट हो जाएगा कि उत्तर किस प्रकार दिए जाने हैं।

उदाहरण :—

प्रश्न सं. 'क्यू' —

नीचे दिये हुए चार शब्दों में तीन कुछ मिलते-जुलते हैं तथा एक कुछ अलग किस्म का है। वह अलग किस्म का शब्द बताएँ :

- (A) लड़की
- (B) लड़का
- (C) महिला
- (D) कुर्सी

स्पष्टीकरण :— ऊपर के उदाहरण में सही उत्तर 'कुर्सी' है और यह उत्तर 'D' में सुझाया गया है। अतः प्रश्न सं. 'क्यू' के सामने कॉलम 'D' के अण्डाकार खाने को काले/नीले बॉल-पॉइंट पेन से पूर्णतया काला [●] करके उत्तर नीचे बताई विधि के अनुसार दिया जाना है :

प्रश्न सं. 'क्यू'

- | | | | |
|-----|-----|-----|-----|
| [A] | [B] | [C] | [●] |
|-----|-----|-----|-----|

प्रत्येक प्रश्न का केवल एक ही सही उत्तर है। आपको समुचित कॉलम अर्थात् A, B, C या D के अण्डाकार खाने को काला [●] करना है। यदि आप किसी प्रश्न के सामने एक से अधिक अण्डाकार खाने को भरेंगे [●] तो आपका उत्तर गलत माना जाएगा। यदि आप किसी उत्तर को रद्द करना चाहते हैं, तो आप उत्तर-पत्रिका के उस अण्डाकार खाने से काले निशान को पूरी तरह से मिटा दें और तब बदले हुए उत्तर के लिए अण्डाकार खाने को काला कर दें।

इस पुस्तिका के अन्दर आपको उत्तर अंकित नहीं करने हैं। सभी उत्तर केवल उत्तर-पत्रिका में ही दें।