

Notations :

- 1.Options shown in green color and with ✓ icon are correct.
- 2.Options shown in red color and with ✗ icon are incorrect.

Question Paper Name :

PC22123 GENERAL STUDIES AND GENERAL ABILITIES AEE 2212

Subject Name :

PC22123 GENERAL STUDIES AND GENERAL ABILITIES AEE2212

Actual Answer Key :

Yes

Calculator :

None

Magnifying Glass Required? :

No

Ruler Required? :

No

Eraser Required? :

No

Scratch Pad Required? :

No

Rough Sketch/Notepad Required? :

No

Protractor Required? :

No

Show Watermark on Console? :

Yes

Highlighter :

No

Auto Save on Console?

Yes

Change Font Color :

No

Change Background Color :

No

Change Theme :

No

Help Button :

No

Show Reports :

No

Show Progress Bar :

No

Is this Group for Examiner? :

No

Examiner permission :

Cant View

Show Progress Bar? :

No

Enable Mark as Answered Mark for Review and Clear Response :

Yes

Maximum Instruction Time :

0

Is Section Default? :

null

Question Number : 1 Question Id : 630680219924 Question Type : MCQ Option Shuffling : Yes Is Question Mandatory : No Calculator : None Response Time : N.A Think Time : N.A Minimum Instruction Time : 0 Negative Marks Display Text : 0.0 Correct Marks : 1 Wrong Marks : 0

Which of the following footballers recently won the Best FIFA Men's player award?

Options :

1. ✗ Cristiano Ronaldo
2. ✗ Xavi
3. ✓ Lionel Messi
4. ✗ Zlatan Ibrahimovic

Question Number : 1 Question Id : 630680219924 Question Type : MCQ Option Shuffling : Yes Is Question Mandatory : No Calculator : None Response Time : N.A Think Time : N.A Minimum Instruction Time : 0 Negative Marks Display Text : 0.0 Correct Marks : 1 Wrong Marks : 0

ఈ క్రింది ఫుట్ బాల్ క్రీడాకారులలో ఇటీవలి ఉత్తమ FIFA పురుషుల క్రీడాకారుని అవార్డును గెలుచుకున్నవారు ఎవరు?

Options :

1. ✗ క్రిస్టియాన్ రోనాల్డో

2. ✖ జేవీ
3. ✔ లియోనల్ మెస్సి
4. ✖ జ్ఙాటన్ ఇబ్రహిమోవిక్

Question Number : 2 Question Id : 630680219925 Question Type : MCQ Option Shuffling : Yes Is Question Mandatory : No Calculator : None Response Time : N.A Think Time : N.A Minimum Instruction Time : 0 Negative Marks Display Text : 0.0 Correct Marks : 1 Wrong Marks : 0

Which edition of the UN World Geospatial International Congress was organized in Hyderabad, India?

Options :

1. ✖ Fifth
2. ✖ Tenth
3. ✖ Third
4. ✔ Second

Question Number : 2 Question Id : 630680219925 Question Type : MCQ Option Shuffling : Yes Is Question Mandatory : No Calculator : None Response Time : N.A Think Time : N.A Minimum Instruction Time : 0 Negative Marks Display Text : 0.0 Correct Marks : 1 Wrong Marks : 0

UN వరల్డ్ జియోస్పేషియల్ ఇంటర్నేషనల్ కాంగ్రెస్ యొక్క ఏ ఎడిషన్ భారతదేశంలోని హైదరాబాద్లో నిర్వహించబడింది?

Options :

1. ✖ ఐదవ
2. ✖ పదవ
3. ✖ మూడవ
4. ✔ రెండవ

Question Number : 3 Question Id : 630680219926 Question Type : MCQ Option Shuffling : Yes Is Question Mandatory : No Calculator : None Response Time : N.A Think Time : N.A Minimum Instruction Time : 0 Negative Marks Display Text : 0.0 Correct Marks : 1 Wrong Marks : 0

In which country a three-day summit on "Collaboration in Sports and Physical Fitness" that brought together delegates from eight Shanghai Cooperation Organization (SCO) nations held in 2023?

Options :

1. ✔ India
2. ✖ China
3. ✖ Japan
4. ✖ Indonesia

Question Number : 3 Question Id : 630680219926 Question Type : MCQ Option Shuffling : Yes Is Question Mandatory : No Calculator : None Response Time : N.A Think Time : N.A Minimum Instruction Time : 0 Negative Marks Display Text : 0.0 Correct Marks : 1 Wrong Marks : 0

2023లో ఎనిమిది షాంఘై కోఆపరేషన్ ఆర్గనైజేషన్ (SCO) దేశాల నుండి ప్రతినిధులను ఒకచోట చేర్చి "క్రీడలు మరియు శారీరక దృఢత్వంలో సహకారం"పై మూడు రోజుల శిఖరాగ్ర సమావేశం ఏ దేశంలో జరిగింది?

Options :

1. ✔ భారతదేశం
2. ✖ చైనా
3. ✖ జపాన్
4. ✖ ఇండోనేషియా

Question Number : 4 Question Id : 630680219927 Question Type : MCQ Option Shuffling : Yes Is Question Mandatory : No Calculator : None Response Time : N.A Think Time : N.A Minimum Instruction Time : 0 Negative Marks Display Text : 0.0 Correct Marks : 1 Wrong Marks : 0

Which of the following countries will be removed from the United Nation's list of Least Developed Countries (LDCs)?

Options :

1. ✖ Myanmar
2. ✔ Bhutan

3. ✘ Bangladesh
4. ✘ South Sudan

Question Number : 4 Question Id : 630680219927 Question Type : MCQ Option Shuffling : Yes Is Question Mandatory : No Calculator : None Response Time : N.A Think Time : N.A Minimum Instruction Time : 0 Negative Marks Display Text : 0.0 Correct Marks : 1 Wrong Marks : 0

ఈ క్రింది దేశాలలో ఐక్యరాజ్యసమితిలోని అతి తక్కువ అభివృద్ధి చెందిన దేశాల (LDCలు) జాబితా నుండి ఏది తీసివేయబడుతుంది?

Options :

1. ✘ మయన్మార్
2. ✔ భూటాన్
3. ✘ బంగ్లాదేశ్
4. ✘ దక్షిణ సూడాన్

Question Number : 5 Question Id : 630680219928 Question Type : MCQ Option Shuffling : Yes Is Question Mandatory : No Calculator : None Response Time : N.A Think Time : N.A Minimum Instruction Time : 0 Negative Marks Display Text : 0.0 Correct Marks : 1 Wrong Marks : 0

Who among the following was the first female astronaut to circle the moon?

Options :

1. ✔ Cristina Hammock Koch
2. ✘ Megan McArthur
3. ✘ Kayla Barron
4. ✘ Zena Cardman

Question Number : 5 Question Id : 630680219928 Question Type : MCQ Option Shuffling : Yes Is Question Mandatory : No Calculator : None Response Time : N.A Think Time : N.A Minimum Instruction Time : 0 Negative Marks Display Text : 0.0 Correct Marks : 1 Wrong Marks : 0

ఈ క్రింది వారిలో చంద్రుని చుట్టూ చుట్టి వచ్చిన మొదటి మహిళా వ్యోమగామి ఎవరు?

Options :

1. ✔ క్రిస్టినా హమ్మక్ కోచ్
2. ✘ మేగాన్ మెక్ఆర్థర్
3. ✘ కైలా బర్రన్
4. ✘ జెనా కార్డ్మాన్

Question Number : 6 Question Id : 630680219929 Question Type : MCQ Option Shuffling : Yes Is Question Mandatory : No Calculator : None Response Time : N.A Think Time : N.A Minimum Instruction Time : 0 Negative Marks Display Text : 0.0 Correct Marks : 1 Wrong Marks : 0

Which of the following countries will host Asian Cup Football Tournament 2027?

Options :

1. ✘ China
2. ✘ Japan
3. ✔ Saudi Arabia
4. ✘ Qatar

Question Number : 6 Question Id : 630680219929 Question Type : MCQ Option Shuffling : Yes Is Question Mandatory : No Calculator : None Response Time : N.A Think Time : N.A Minimum Instruction Time : 0 Negative Marks Display Text : 0.0 Correct Marks : 1 Wrong Marks : 0

కింది వాటిలో ఏ దేశం ఆసియా కప్ ఫుట్ బాల్ టోర్నమెంట్ 2027 కు ఆతిథ్యం ఇవ్వనుంది?

Options :

1. ✘ చైనా
2. ✘ జపాన్
3. ✔ సౌదీ అరేబియా

4. ✖ ఖతార్

Question Number : 7 Question Id : 630680219930 Question Type : MCQ Option Shuffling : Yes Is Question Mandatory : No Calculator : None Response Time : N.A Think Time : N.A Minimum Instruction Time : 0 Negative Marks Display Text : 0.0 Correct Marks : 1 Wrong Marks : 0

Which of the following states of India celebrated the 3rd edition of the Orange festival in January 2023 (in Rusoma Village)?

Options :

1. ✖ Odisha
2. ✔ Nagaland
3. ✖ Uttar Pradesh
4. ✖ Maharashtra

Question Number : 7 Question Id : 630680219930 Question Type : MCQ Option Shuffling : Yes Is Question Mandatory : No Calculator : None Response Time : N.A Think Time : N.A Minimum Instruction Time : 0 Negative Marks Display Text : 0.0 Correct Marks : 1 Wrong Marks : 0

(రుసోమా గ్రామంలో) ఈ క్రింది వాటిలో జనవరి 2023లో ఆరెంజ్ పండుగ యొక్క 3వ ఎడిషన్‌ను భారతదేశంలోని ఏ రాష్ట్రం జరుపుకుంది?

Options :

1. ✖ ఒడిషా
2. ✔ నాగాలాండ్
3. ✖ ఉత్తర ప్రదేశ్
4. ✖ మహారాష్ట్ర

Question Number : 8 Question Id : 630680219931 Question Type : MCQ Option Shuffling : Yes Is Question Mandatory : No Calculator : None Response Time : N.A Think Time : N.A Minimum Instruction Time : 0 Negative Marks Display Text : 0.0 Correct Marks : 1 Wrong Marks : 0

In how many states will the PM Mitra Parks be established?

Options :

1. ✖ 8
2. ✖ 10
3. ✔ 7
4. ✖ 2

Question Number : 8 Question Id : 630680219931 Question Type : MCQ Option Shuffling : Yes Is Question Mandatory : No Calculator : None Response Time : N.A Think Time : N.A Minimum Instruction Time : 0 Negative Marks Display Text : 0.0 Correct Marks : 1 Wrong Marks : 0

ఎన్ని రాష్ట్రాల్లో పీఎం మిత్ర పార్కులను ఏర్పాటు చేశారు?

Options :

1. ✖ 8
2. ✖ 10
3. ✔ 7
4. ✖ 2

Question Number : 9 Question Id : 630680219932 Question Type : MCQ Option Shuffling : Yes Is Question Mandatory : No Calculator : None Response Time : N.A Think Time : N.A Minimum Instruction Time : 0 Negative Marks Display Text : 0.0 Correct Marks : 1 Wrong Marks : 0

In how many Teacher Educational Institutions (TEIs) has launched the Integrated Teacher Education Programme (ITEP) from the academic session 2023-24 throughout the country?

Options :

1. ✖ 2
2. ✔ 57
3. ✖ 12
4. ✖ 100

Question Number : 9 Question Id : 630680219932 Question Type : MCQ Option Shuffling : Yes Is Question Mandatory : No Calculator : None Response Time : N.A Think Time : N.A Minimum Instruction Time : 0 Negative Marks Display Text : 0.0 Correct Marks : 1 Wrong Marks : 0

2023-24 అకడమిక్ సెషన్ నుండి దేశవ్యాప్తంగా ఎన్ని ఉపాధ్యాయ విద్యా సంస్థలు (TEIలు) ఇంటిగ్రేటెడ్ టీచర్ ఎడ్యుకేషన్ ప్రోగ్రామ్ (ITEP)ని ప్రారంభించాయి?

Options :

1. ✘ 2
2. ✔ 57
3. ✘ 12
4. ✘ 100

Question Number : 10 Question Id : 630680219933 Question Type : MCQ Option Shuffling : Yes Is Question Mandatory : No Calculator : None Response Time : N.A Think Time : N.A Minimum Instruction Time : 0 Negative Marks Display Text : 0.0 Correct Marks : 1 Wrong Marks : 0

In which of the following states of India has the Indian Space Research Organisation (ISRO) conducted a successful Reusable Launch Vehicle Autonomous Landing Mission (RLV LEX) at the Aeronautical Test Range (ATR)?

Options :

1. ✘ Maharashtra
2. ✘ Uttar Pradesh
3. ✘ Tamil Nadu
4. ✔ Karnataka

Question Number : 10 Question Id : 630680219933 Question Type : MCQ Option Shuffling : Yes Is Question Mandatory : No Calculator : None Response Time : N.A Think Time : N.A Minimum Instruction Time : 0 Negative Marks Display Text : 0.0 Correct Marks : 1 Wrong Marks : 0

భారత అంతరిక్ష పరిశోధన సంస్థ (ISRO) ఏరోనాటికల్ రేంజ్ (ATR) వద్ద విజయవంతమైన రీయూజబుల్ లాంచ్ వెహికల్ అటానమస్ ల్యాండింగ్ మిషన్ (RLV LEX)ని భారతదేశంలోని ఈ క్రింది ఏ రాష్ట్రంలో నిర్వహించింది?

Options :

1. ✘ మహారాష్ట్ర
2. ✘ ఉత్తర ప్రదేశ్
3. ✘ తమిళనాడు
4. ✔ కర్ణాటక

Question Number : 11 Question Id : 630680219934 Question Type : MCQ Option Shuffling : Yes Is Question Mandatory : No Calculator : None Response Time : N.A Think Time : N.A Minimum Instruction Time : 0 Negative Marks Display Text : 0.0 Correct Marks : 1 Wrong Marks : 0

Which of the following ministries launched the Nasha Mukta Bharat Abhiyaan (NMBA)?

Options :

1. ✘ Ministry of Information and Broadcasting
2. ✘ Ministry of Education
3. ✔ Ministry of Social Justice & Empowerment
4. ✘ Ministry of Housing and Urban Affairs

Question Number : 11 Question Id : 630680219934 Question Type : MCQ Option Shuffling : Yes Is Question Mandatory : No Calculator : None Response Time : N.A Think Time : N.A Minimum Instruction Time : 0 Negative Marks Display Text : 0.0 Correct Marks : 1 Wrong Marks : 0

ఈ క్రింది వాటిలో ఏ మంత్రిత్వ శాఖ నషా ముక్త భారత్ అభియాన్ (NMBA)ని ప్రారంభించింది?

Options :

1. ✘ సమాచార మరియు ప్రసార మంత్రిత్వ శాఖ
2. ✘ విద్యా మంత్రిత్వ శాఖ
3. ✔ సామాజిక న్యాయం & సాధికారత మంత్రిత్వ శాఖ
4. ✘ గృహ మరియు పట్టణ వ్యవహారాల మంత్రిత్వ శాఖ

Question Number : 12 Question Id : 630680219935 Question Type : MCQ Option Shuffling : Yes Is Question Mandatory : No Calculator : None Response Time : N.A Think Time : N.A Minimum Instruction Time : 0 Negative Marks Display Text : 0.0 Correct Marks : 1 Wrong Marks : 0

In the rural areas of which of the borders of India has the Vibrant Villages Programme launched?

Options :

1. ✓ Northern borders
2. ✗ Southern borders
3. ✗ Eastern borders
4. ✗ Western borders

Question Number : 12 Question Id : 630680219935 Question Type : MCQ Option Shuffling : Yes Is Question Mandatory : No Calculator : None Response Time : N.A Think Time : N.A Minimum Instruction Time : 0 Negative Marks Display Text : 0.0 Correct Marks : 1 Wrong Marks : 0

భారతదేశంలోని ఏ సరిహద్దుల్లోని గ్రామీణ ప్రాంతాల్లో వైబ్రంట్ విలేజెస్ ప్రోగ్రామ్ ప్రారంభించబడింది?

Options :

1. ✓ ఉత్తర సరిహద్దులు
2. ✗ దక్షిణ సరిహద్దులు
3. ✗ తూర్పు సరిహద్దులు
4. ✗ పశ్చిమ సరిహద్దులు

Question Number : 13 Question Id : 630680219936 Question Type : MCQ Option Shuffling : Yes Is Question Mandatory : No Calculator : None Response Time : N.A Think Time : N.A Minimum Instruction Time : 0 Negative Marks Display Text : 0.0 Correct Marks : 1 Wrong Marks : 0

How many states of India are most vulnerable to climate risks as per a report on "Gross Domestic Climate Risk"?

Options :

1. ✗ 20
2. ✓ 9
3. ✗ 2
4. ✗ 19

Question Number : 13 Question Id : 630680219936 Question Type : MCQ Option Shuffling : Yes Is Question Mandatory : No Calculator : None Response Time : N.A Think Time : N.A Minimum Instruction Time : 0 Negative Marks Display Text : 0.0 Correct Marks : 1 Wrong Marks : 0

"గ్రాస్ డొమెస్టిక్ క్లైమేట్ రిస్క్" నివేదిక ప్రకారం భారతదేశంలోని ఎన్ని రాష్ట్రాలు వాతావరణ హానికీ ఎక్కువగా గురవుతున్నాయి?

Options :

1. ✗ 20
2. ✓ 9
3. ✗ 2
4. ✗ 19

Question Number : 14 Question Id : 630680219937 Question Type : MCQ Option Shuffling : Yes Is Question Mandatory : No Calculator : None Response Time : N.A Think Time : N.A Minimum Instruction Time : 0 Negative Marks Display Text : 0.0 Correct Marks : 1 Wrong Marks : 0

Read the following statements about the impact of Science and Technology in daily life:

- A. Science and technology have facilitated human life and made us feel comfortable and enabled us to live in a modern way of life.
- B. With the help of things like microwaves, fans, smartphones, and cars, science and technology have made cooking, sleeping, and communicating and transportation easier and faster.

Identify the CORRECT statement/statements.

Options :

1. ✗ Only A
2. ✗ Only B
3. ✓ Both A and B
4. ✗ Neither A nor B

Question Number : 14 Question Id : 630680219937 Question Type : MCQ Option Shuffling : Yes Is Question Mandatory : No Calculator : None Response Time : N.A Think Time : N.A Minimum Instruction Time : 0 Negative Marks Display Text : 0.0 Correct Marks : 1 Wrong Marks : 0

రోజువారీ జీవితంలో విజ్ఞానం మరియు సాంకేతిక శాస్త్రం యొక్క ప్రభావం గురించిన ఈ క్రింది వాక్యాలను చదవండి:

A. విజ్ఞానం మరియు సాంకేతిక శాస్త్రం మానవ జీవితాన్ని సులభతరం చేశాయి మరియు మనకు సౌకర్యవంతమైన, ఆధునిక జీవన విధానంలో జీవించడానికి వీలు కల్పించాయి.

B. మైక్రోవేవ్లు, ఫ్యాన్లు, స్మార్ట్ఫోన్లు మరియు కార్ల వంటి వాటి సహాయంతో వంట చేయడం, నిద్రపోవడం, సంభాషించుట మరియు రవాణా చేయడంలను విజ్ఞానం మరియు సాంకేతిక శాస్త్రం సులభతరాన్ని ఇంకా వేగవంతం చేసింది.

సరైన వాక్యము/ల ను గుర్తించండి.

Options :

1. * A మాత్రమే
2. * B మాత్రమే
3. ✓ A మరియు B లు రెండూ
4. * A కానీ లేదా B కానీ ఏదీ కాదు

Question Number : 15 Question Id : 630680219938 Question Type : MCQ Option Shuffling : Yes Is Question Mandatory : No Calculator : None Response Time : N.A Think Time : N.A Minimum Instruction Time : 0 Negative Marks Display Text : 0.0 Correct Marks : 1 Wrong Marks : 0

Read the following statements about the impact of Science and Technology on the Environment and Society:

A. Technology misuse and its wrong implementation leads to the occurrence of environmental pollution.

B. Scientists have proposed technology as a medium through which the environment can be sincerely helped if directed positively.

Identify the INCORRECT statement/statements.

Options :

1. * Only A
2. * Only B
3. * Both A and B
4. ✓ Neither A nor B

Question Number : 15 Question Id : 630680219938 Question Type : MCQ Option Shuffling : Yes Is Question Mandatory : No Calculator : None Response Time : N.A Think Time : N.A Minimum Instruction Time : 0 Negative Marks Display Text : 0.0 Correct Marks : 1 Wrong Marks : 0

పర్యావరణం మరియు సమాజంపై విజ్ఞానం మరియు సాంకేతిక శాస్త్రం యొక్క ప్రభావం గురించిన ఈ క్రింది వాక్యాలను చదవండి:

A. సాంకేతికత దుర్వినియోగం మరియు దాన్ని తప్పుగా అమలు చేయడం వంటివి పర్యావరణ కాలుష్యం సంభవించడానికి దారితీస్తుంది.

B. శాస్త్రవేత్తలు సాంకేతికతను ఒక మాధ్యమంగా ప్రతిపాదించారు, దీని ద్వారా సకారాత్మకంగా నిర్దేశిస్తే యదార్థంగా పర్యావరణానికి సహాయం చేయవచ్చు.

సరికాని వాక్యము/ల ను గుర్తించండి.

Options :

1. * A మాత్రమే
2. * B మాత్రమే
3. * A మరియు B లు రెండూ
4. ✓ A కానీ లేదా B కానీ ఏదీ కాదు

Question Number : 16 Question Id : 630680219939 Question Type : MCQ Option Shuffling : Yes Is Question Mandatory : No Calculator : None Response Time : N.A Think Time : N.A Minimum Instruction Time : 0 Negative Marks Display Text : 0.0 Correct Marks : 1 Wrong Marks : 0

Read the following statements about the impact of Science and Technology on the Natural Resources:

A. Resource depletion is another negative impact of technology on the environment.

B. It refers to the consumption of a resource slower than it can be replenished.

Identify the INCORRECT statement/statements.

Options :

1. * Only A
2. ✓ Only B
3. * Both A and B

4. ✖ Neither A nor B

Question Number : 16 Question Id : 630680219939 Question Type : MCQ Option Shuffling : Yes Is Question Mandatory : No Calculator : None Response Time : N.A Think Time : N.A Minimum Instruction Time : 0 Negative Marks Display Text : 0.0 Correct Marks : 1 Wrong Marks : 0

సహజ వనరులపై విజ్ఞానం మరియు సాంకేతిక శాస్త్రం యొక్క ప్రభావం గురించిన ఈ క్రింది వాక్యాలను చదవండి:

- A. వనరుల క్షీణత పర్యావరణంపై సాంకేతికత యొక్క మరొక ప్రతికూల ప్రభావం.
B. ఇది ఒక వనరు యొక్క వినియోగాన్ని తిరిగి నింపగలిగే దాని కంటే నెమ్మదిగా వినియోగాన్ని సూచిస్తుంది.
సరికాని వాక్యము/లు ను గుర్తించండి.

Options :

1. ✖ A మాత్రమే
2. ✔ B మాత్రమే
3. ✖ A మరియు B లు రెండూ
4. ✖ A కానీ లేదా B కానీ ఏదీ కాదు

Question Number : 17 Question Id : 630680219940 Question Type : MCQ Option Shuffling : Yes Is Question Mandatory : No Calculator : None Response Time : N.A Think Time : N.A Minimum Instruction Time : 0 Negative Marks Display Text : 0.0 Correct Marks : 1 Wrong Marks : 0

Which of the following types of organisms DO NOT belong to the kingdom Monera?

Options :

1. ✖ Bacteria
2. ✖ Cyanobacteria
3. ✖ Spirochetes
4. ✔ Sponges

Question Number : 17 Question Id : 630680219940 Question Type : MCQ Option Shuffling : Yes Is Question Mandatory : No Calculator : None Response Time : N.A Think Time : N.A Minimum Instruction Time : 0 Negative Marks Display Text : 0.0 Correct Marks : 1 Wrong Marks : 0

ఈ క్రింది రకాల జీవుల్లో ఏది మోనెరా రాజ్యానికి చెందినది కాదు?

Options :

1. ✖ బాక్టీరియా (Bacteria)
2. ✖ సైనోబాక్టీరియా (Cyanobacteria)
3. ✖ స్పిరోచెట్స్ (Spirochetes)
4. ✔ స్పాంజెస్ (Sponges)

Question Number : 18 Question Id : 630680219941 Question Type : MCQ Option Shuffling : Yes Is Question Mandatory : No Calculator : None Response Time : N.A Think Time : N.A Minimum Instruction Time : 0 Negative Marks Display Text : 0.0 Correct Marks : 1 Wrong Marks : 0

Read the following about Anatomy and Physiology:

- A. Anatomy and physiology is the study of the body's systems and structures and how they interact.
B. Anatomy focuses on the physical arrangement of parts in the body, while physiology studies the inner functioning of cells, tissues, and organs.

Identify the CORRECT statement/statements.

Options :

1. ✖ Only A
2. ✖ Only B
3. ✔ Both A and B
4. ✖ Neither A nor B

Question Number : 18 Question Id : 630680219941 Question Type : MCQ Option Shuffling : Yes Is Question Mandatory : No Calculator : None Response Time : N.A Think Time : N.A Minimum Instruction Time : 0 Negative Marks Display Text : 0.0 Correct Marks : 1 Wrong Marks : 0

శరీర నిర్మాణ శాస్త్రం మరియు శరీర ధర్మ శాస్త్రం గురించి ఈ క్రింది ప్రకటనలను చదవండి:

- A. శరీర నిర్మాణ శాస్త్రం మరియు శరీర ధర్మ శాస్త్రం అనేవి శరీరం యొక్క వ్యవస్థలు మరియు నిర్మాణాలు మరియు అవి ఎలా

పరస్పర ప్రభావం చేస్తాయనే వాటి గురించి అధ్యయనం చేస్తాయి.

B. శరీర నిర్మాణ శాస్త్రం శరీరంలోని భాగాల భౌతిక అమరికపై దృష్టి పెడుతుంది, అయితే శరీర ధర్మ శాస్త్రం కణాలు, కణజాలాలు మరియు అవయవాల అంతర్గత పనితీరును అధ్యయనం చేస్తుంది.

సరైన వాక్యము/ల ను గుర్తించండి.

Options :

1. ✖ A మాత్రమే
2. ✖ B మాత్రమే
3. ✔ A మరియు B లు రెండూ
4. ✖ A కానీ లేదా B కానీ ఏదీ కాదు

Question Number : 19 Question Id : 630680219942 Question Type : MCQ Option Shuffling : Yes Is Question Mandatory : No Calculator : None Response Time : N.A Think Time : N.A Minimum Instruction Time : 0 Negative Marks Display Text : 0.0

Correct Marks : 1 Wrong Marks : 0

Read the following statements about Biochemistry:

A. Biology's discipline of biochemistry focuses on the chemical processes occurring inside living things.

B. Biochemistry is the study of the vital chemical processes that have supported the development of the astonishing diversity of life that exists today on Earth.

C. The "molecules of life" are four subgroups of molecules that make up all life.

Identify the CORRECT statement/statements.

Options :

1. ✖ Only A
2. ✖ Both A and B
3. ✖ Both A and C
4. ✔ A, B and C

Question Number : 19 Question Id : 630680219942 Question Type : MCQ Option Shuffling : Yes Is Question Mandatory : No Calculator : None Response Time : N.A Think Time : N.A Minimum Instruction Time : 0 Negative Marks Display Text : 0.0

Correct Marks : 1 Wrong Marks : 0

జీవరసాయన శాస్త్రం గురించి ఈ క్రింది వాక్యాలను చదవండి:

A. జీవశాస్త్రం యొక్క జీవరసాయన శాస్త్రం జీవుల లోపల జరిగే రసాయన ప్రక్రియలపై దృష్టి పెడుతుంది.

B. జీవరసాయన శాస్త్రం అనేది భూమిపై నేడు ఉన్న ఆశ్చర్యకరమైన జీవ వైవిధ్యం అభివృద్ధికి తోడ్పడిన కీలక రసాయన ప్రక్రియల అధ్యయనం చేస్తుంది.

C. "జీవ అణువులు" అనేవి అన్ని జీవులను ఏర్పరచే అణువుల యొక్క నాలుగు ఉప సమూహాలు.

సరైన వాక్యము/ల ను గుర్తించండి.

Options :

1. ✖ A మాత్రమే
2. ✖ A మరియు B లు రెండూ
3. ✖ A మరియు C లు రెండూ
4. ✔ A, B మరియు C

Question Number : 20 Question Id : 630680219943 Question Type : MCQ Option Shuffling : Yes Is Question Mandatory : No Calculator : None Response Time : N.A Think Time : N.A Minimum Instruction Time : 0 Negative Marks Display Text : 0.0

Correct Marks : 1 Wrong Marks : 0

Which of the following types of Ecology looks at the smallest fundamental levels of life, that is, the cellular level?

Options :

1. ✖ Community Ecology
2. ✖ Behavioural Ecology
3. ✔ Microbial Ecology
4. ✖ Ecosystem Ecology

Question Number : 20 Question Id : 630680219943 Question Type : MCQ Option Shuffling : Yes Is Question Mandatory : No Calculator : None Response Time : N.A Think Time : N.A Minimum Instruction Time : 0 Negative Marks Display Text : 0.0

Correct Marks : 1 Wrong Marks : 0

ఈ క్రింది రకాల జీవవరణ శాస్త్రాలలో ఏది జీవీలోని అతి చిన్న ప్రాథమిక స్థాయిలను, అంటే కణ స్థాయిని చూస్తుంది?

Options :

1. ✖ కమ్యూనిటీ ఎకాలజీ (Community Ecology)
2. ✖ బిహేవియరల్ ఎకాలజీ (Behavioural Ecology)
3. ✔ మైక్రోబియల్ ఎకాలజీ (Microbial Ecology)
4. ✖ ఎకోసిస్టమ్ ఎకాలజీ (Ecosystem Ecology)

Question Number : 21 Question Id : 630680219944 Question Type : MCQ Option Shuffling : Yes Is Question Mandatory : No Calculator : None Response Time : N.A Think Time : N.A Minimum Instruction Time : 0 Negative Marks Display Text : 0.0

Correct Marks : 1 Wrong Marks : 0

Read the following statements about Kitchen chemistry:

- A. Kitchen chemistry involves using everyday items that you can find in your kitchen or local discount store to explore basic chemistry.
- B. Chemical changes occur when the atoms in a substance are rearranged in order to make a new substance.
- C. Physical changes occur without changing the molecular composition of a substance.

Identify the INCORRECT statement/statements.

Options :

1. ✖ Only A
2. ✖ Both A and B
3. ✖ A, B and C
4. ✔ None of the above.

Question Number : 21 Question Id : 630680219944 Question Type : MCQ Option Shuffling : Yes Is Question Mandatory : No Calculator : None Response Time : N.A Think Time : N.A Minimum Instruction Time : 0 Negative Marks Display Text : 0.0

Correct Marks : 1 Wrong Marks : 0

వంటగది రసాయనశాస్త్రం గురించి ఈ క్రింది వాక్యాలను చదవండి:

- A. వంటగది రసాయనశాస్త్రం అనేది ప్రాథమిక రసాయన శాస్త్రాన్ని అన్వేషించడానికి మీ వంటగదిలో లేదా స్థానిక డిస్కంట్ స్టోర్లో మీకు అందుబాటులో వుండే రోజువారీ వస్తువులను ఉపయోగించడం.
- B. ఒక పదార్థంలోని పరమాణువులు కొత్త పదార్థాన్ని తయారు చేయడానికి తిరిగి అమర్చబడినప్పుడు రసాయన మార్పులు సంభవిస్తాయి.
- C. ఒక పదార్థం యొక్క అణు సంఘటనమును మార్చకుండా భౌతిక మార్పులు సంభవిస్తాయి. సరికాని వాక్యము/లు ను గుర్తించండి.

Options :

1. ✖ A మాత్రమే
2. ✖ A మరియు B లు రెండూ
3. ✖ A, B మరియు C
4. ✔ పైవేవీ కావు.

Question Number : 22 Question Id : 630680219945 Question Type : MCQ Option Shuffling : Yes Is Question Mandatory : No Calculator : None Response Time : N.A Think Time : N.A Minimum Instruction Time : 0 Negative Marks Display Text : 0.0

Correct Marks : 1 Wrong Marks : 0

Read the following statements about the Prevention and Mitigation strategies in Disaster Management:

- A. Efforts at mitigation and prevention are intended to lessen the potential harm and suffering that catastrophes may bring about.
- B. Actions that can worsen a disaster's effects are particularly referred to as mitigation.

Identify the INCORRECT statement/statements.

Options :

1. ✖ Only A
2. ✔ Only B
3. ✖ Both A and B
4. ✖ Neither A nor B

Question Number : 22 Question Id : 630680219945 Question Type : MCQ Option Shuffling : Yes Is Question Mandatory : No Calculator : None Response Time : N.A Think Time : N.A Minimum Instruction Time : 0 Negative Marks Display Text : 0.0

Correct Marks : 1 Wrong Marks : 0

విపత్తు నిర్వహణలో నివారణ మరియు ఉపశమన వ్యూహాల గురించి ఈ క్రింది వాక్యాలను చదవండి:

- A. ఉపశమన మరియు నివారణ యత్నాలు విపత్తులు కలిగించే సంభావ్య హాని మరియు బాధలను తగ్గించడానికి ఉద్దేశించబడ్డాయి.

B. విపత్తు యొక్క ప్రభావాలను మరింత దిగజార్చగల చర్యలను ప్రత్యేకంగా దుర్బల చర్యలుగా సూచిస్తారు. సరికాని వాక్యము/ల ను గుర్తించండి.

Options :

1. ✘ A మాత్రమే
2. ✔ B మాత్రమే
3. ✘ A మరియు B లు రెండూ
4. ✘ A కానీ లేదా B కానీ ఏదీ కాదు

Question Number : 23 Question Id : 630680219946 Question Type : MCQ Option Shuffling : Yes Is Question Mandatory : No Calculator : None Response Time : N.A Think Time : N.A Minimum Instruction Time : 0 Negative Marks Display Text : 0.0 Correct Marks : 1 Wrong Marks : 0

Read the following statements about the application of remote sensing in disaster management:

- A. GIS is utilised at the disaster preventive stage to manage the massive amounts of data needed and for hazard assessment.
- B. In the aftermath of a disaster, GIS combined with GPS is very helpful for search and rescue efforts in places that have been severely damaged and where it is challenging to get oriented.

Identify the INCORRECT statement/statements.

Options :

1. ✘ Only A
2. ✘ Only B
3. ✘ Both A and B
4. ✔ Neither A nor B

Question Number : 23 Question Id : 630680219946 Question Type : MCQ Option Shuffling : Yes Is Question Mandatory : No Calculator : None Response Time : N.A Think Time : N.A Minimum Instruction Time : 0 Negative Marks Display Text : 0.0 Correct Marks : 1 Wrong Marks : 0

విపత్తు నిర్వహణలో రిమోట్ సెన్సింగ్ అప్లికేషన్ గురించి ఈ క్రింది వాక్యాలను చదవండి:

- A. భారీ మొత్తంలో అవసరమైన సమాచారమును నిర్వహించడానికి మరియు ప్రమాద అంచనా కోసం విపత్తు నివారణ దశలో GIS ఉపయోగించబడుతుంది.
- B. విపత్తు తర్వాత, తీవ్రంగా దెబ్బతిన్న ప్రదేశాలలో మరియు సవాలుగా ఉన్న ప్రదేశాలలో శోధన మరియు రక్షణ ప్రయత్నాలకు GPS తో కలిపి GIS చాలా సహాయకారిగా ఉంటుంది. సరికాని వాక్యము/ల ను గుర్తించండి.

Options :

1. ✘ A మాత్రమే
2. ✘ B మాత్రమే
3. ✘ A మరియు B లు రెండూ
4. ✔ A కానీ లేదా B కానీ ఏదీ కాదు

Question Number : 24 Question Id : 630680219947 Question Type : MCQ Option Shuffling : Yes Is Question Mandatory : No Calculator : None Response Time : N.A Think Time : N.A Minimum Instruction Time : 0 Negative Marks Display Text : 0.0 Correct Marks : 1 Wrong Marks : 0

Which of the following is NOT a major primary air pollutant?

Options :

1. ✘ Nitrogen Oxides
2. ✔ Silver oxide
3. ✘ Carbon monoxide
4. ✘ Sulphur oxides

Question Number : 24 Question Id : 630680219947 Question Type : MCQ Option Shuffling : Yes Is Question Mandatory : No Calculator : None Response Time : N.A Think Time : N.A Minimum Instruction Time : 0 Negative Marks Display Text : 0.0 Correct Marks : 1 Wrong Marks : 0

ఈ క్రింది వాటిలో ప్రధాన ప్రాథమిక వాయు కాలుష్య కారకం కానిది ఏది?

Options :

1. ✘ నైట్రోజన్ ఆక్సైడ్లు
2. ✔ సిల్వర్ ఆక్సైడ్

3. ✖ కార్బన్ మోనాక్సైడ్
4. ✖ సల్ఫర్ ఆక్సైడ్లు

Question Number : 25 Question Id : 630680219948 Question Type : MCQ Option Shuffling : Yes Is Question Mandatory : No Calculator : None Response Time : N.A Think Time : N.A Minimum Instruction Time : 0 Negative Marks Display Text : 0.0 Correct Marks : 1 Wrong Marks : 0

What percentage of ocean pollution originates on land?

Options :

1. ✖ 30%
2. ✖ 5%
3. ✔ 80%
4. ✖ 0.5%

Question Number : 25 Question Id : 630680219948 Question Type : MCQ Option Shuffling : Yes Is Question Mandatory : No Calculator : None Response Time : N.A Think Time : N.A Minimum Instruction Time : 0 Negative Marks Display Text : 0.0 Correct Marks : 1 Wrong Marks : 0

సముద్ర కాలుష్యంలో ఎంత శాతం భూమిపై ఉత్పత్తివుతుంది?

Options :

1. ✖ 30%
2. ✖ 5%
3. ✔ 80%
4. ✖ 0.5%

Question Number : 26 Question Id : 630680219949 Question Type : MCQ Option Shuffling : Yes Is Question Mandatory : No Calculator : None Response Time : N.A Think Time : N.A Minimum Instruction Time : 0 Negative Marks Display Text : 0.0 Correct Marks : 1 Wrong Marks : 0

Which of the following gases is NOT a greenhouse gas?

Options :

1. ✖ Carbon dioxide
2. ✔ Carbon monoxide
3. ✖ Methane
4. ✖ Nitrous oxide

Question Number : 26 Question Id : 630680219949 Question Type : MCQ Option Shuffling : Yes Is Question Mandatory : No Calculator : None Response Time : N.A Think Time : N.A Minimum Instruction Time : 0 Negative Marks Display Text : 0.0 Correct Marks : 1 Wrong Marks : 0

ఈ క్రింది వాయువులలో గ్రీన్ హౌస్ వాయువు కానిది ఏది?

Options :

1. ✖ కార్బన్ డయాక్సైడ్
2. ✔ కార్బన్ మోనాక్సైడ్
3. ✖ మీథేన్
4. ✖ నైట్రస్ ఆక్సైడ్

Question Number : 27 Question Id : 630680219950 Question Type : MCQ Option Shuffling : Yes Is Question Mandatory : No Calculator : None Response Time : N.A Think Time : N.A Minimum Instruction Time : 0 Negative Marks Display Text : 0.0 Correct Marks : 1 Wrong Marks : 0

Which of the following is NOT an ozone depleting substance?

Options :

1. ✖ Chlorofluorocarbons
2. ✖ Carbon tetrachloride
3. ✖ Methyl chloroform
4. ✔ Methyl iodide

Question Number : 27 Question Id : 630680219950 Question Type : MCQ Option Shuffling : Yes Is Question Mandatory : No Calculator : None Response Time : N.A Think Time : N.A Minimum Instruction Time : 0 Negative Marks Display Text : 0.0 Correct Marks : 1 Wrong Marks : 0

ఈ క్రింది వాటిలో ఏది ఓజోన్ క్షీణత పదార్థం కాదు?

Options :

1. ✖ క్లోరోఫ్లోరో కార్బన్లు
2. ✖ కార్బన్ టెట్రాక్లోరైడ్
3. ✖ మిథైల్ క్లోరోఫామ్
4. ✔ మిథైల్ అయోడైడ్

Question Number : 28 Question Id : 630680219951 Question Type : MCQ Option Shuffling : Yes Is Question Mandatory : No Calculator : None Response Time : N.A Think Time : N.A Minimum Instruction Time : 0 Negative Marks Display Text : 0.0 Correct Marks : 1 Wrong Marks : 0

Read the following statements about Deforestation:

- A. The deliberate clearance of forested terrain is known as deforestation.
- B. To make room for agriculture, animal grazing, and to obtain wood for building, manufacture, and fuel, forests have been cleared.
- C. Around the world, deforestation has significantly changed the terrain.

Identify the CORRECT statement/statements.

Options :

1. ✖ Both A and B
2. ✖ Both A and C
3. ✖ Only C
4. ✔ A, B and C

Question Number : 28 Question Id : 630680219951 Question Type : MCQ Option Shuffling : Yes Is Question Mandatory : No Calculator : None Response Time : N.A Think Time : N.A Minimum Instruction Time : 0 Negative Marks Display Text : 0.0 Correct Marks : 1 Wrong Marks : 0

అటవీ నిర్మూలన గురించి ఈ క్రింది వాక్యాలను చదవండి:

- A. అటవీ భూభాగాన్ని ఉద్దేశపూర్వకంగా తొలగించడాన్ని అటవీ నిర్మూలన అంటారు.
- B. వ్యవసాయం, జంతువుల మేత, నిర్మాణం, ఉత్పత్తి మరియు ఇంధనం కోసం కలపను పొందేందుకు, అడవులు నరికి వేయబడ్డాయి.
- C. ప్రపంచవ్యాప్తంగా, అటవీ నిర్మూలన భూభాగాన్ని గణనీయంగా మార్చింది. సరైన వాక్యములను గుర్తించండి.

Options :

1. ✖ A మరియు B లు రెండూ
2. ✖ A మరియు C లు రెండూ
3. ✖ C మాత్రమే
4. ✔ A, B మరియు C

Question Number : 29 Question Id : 630680219952 Question Type : MCQ Option Shuffling : Yes Is Question Mandatory : No Calculator : None Response Time : N.A Think Time : N.A Minimum Instruction Time : 0 Negative Marks Display Text : 0.0 Correct Marks : 1 Wrong Marks : 0

Match the following agrochemicals with their uses:

1. Pesticides	A. to kill weeds and herbs
2. Herbicides	B. to kill pests
3. Algacides	C. to kill rodents
4. Rodenticides	D. to kill algae

Options :

1. ✔ 1-B, 2-A, 3-D, 4-C
2. ✖ 1-A, 2-B, 3-C, 4-D
3. ✖ 1-C, 2-B, 3-A, 4-D
4. ✖ 1-A, 2-D, 3-B, 4-C

Question Number : 29 Question Id : 630680219952 Question Type : MCQ Option Shuffling : Yes Is Question Mandatory : No Calculator : None Response Time : N.A Think Time : N.A Minimum Instruction Time : 0 Negative Marks Display Text : 0.0

Correct Marks : 1 Wrong Marks : 0

ఈ క్రింది వ్యవసాయ రసాయనాలను వాటి ఉపయోగాలతో జతపరచండి:

1. పురుగు మందులు	A. కలుపు మరియు ఇతర పనికి రాని మొక్కలను చంపడానికి
2. కలుపు సంహారకాలు	B. తెగుళ్లను చంపడానికి
3. శైవల సంహారకాలు	C. చిట్టెలుకలను చంపడానికి
4. చిట్టెలుకల సంహారకాలు	D. శైవలాలను చంపడానికి

Options :

1. ✓ 1-B, 2-A, 3-D, 4-C
2. ✗ 1-A, 2-B, 3-C, 4-D
3. ✗ 1-C, 2-B, 3-A, 4-D
4. ✗ 1-A, 2-D, 3-B, 4-C

Question Number : 30 Question Id : 630680219953 Question Type : MCQ Option Shuffling : Yes Is Question Mandatory : No Calculator : None Response Time : N.A Think Time : N.A Minimum Instruction Time : 0 Negative Marks Display Text : 0.0

Correct Marks : 1 Wrong Marks : 0

Read the following statements about the ozone depletion in stratosphere:

- A. The stratosphere, the second major layer of the atmosphere, sits above the troposphere, which is its lowest layer.
- B. Ozone concentrations in the stratosphere naturally change in reaction to changes in the weather, the amount of energy the Sun releases, as well as to large volcanic eruptions.

Identify the CORRECT statement/statements.

Options :

1. ✗ Only A
2. ✗ Only B
3. ✓ Both A and B
4. ✗ Neither A nor B

Question Number : 30 Question Id : 630680219953 Question Type : MCQ Option Shuffling : Yes Is Question Mandatory : No Calculator : None Response Time : N.A Think Time : N.A Minimum Instruction Time : 0 Negative Marks Display Text : 0.0

Correct Marks : 1 Wrong Marks : 0

స్ట్రాటో ఆవరణలో ఓజోన్ క్షీణత గురించి ఈ క్రింది వాక్యాలను చదవండి:

- A. స్ట్రాటో ఆవరణం, వాతావరణం యొక్క రెండవ ప్రధాన పొర, ఇది దాని దిగువ పొరైన, ట్రోపోస్ఫియర్ పైన ఉంది.
- B. స్ట్రాటో ఆవరణంలోని ఓజోన్ సాంద్రతలు సహజంగా వాతావరణంలో మార్పులు, సూర్యుడు విడుదల చేసే శక్తి పరిమాణం, అలాగే పెద్ద అగ్నిపర్వత విస్ఫోటనాలకు ప్రతిచర్యగా మారుతాయి.

సరైన వాక్యము/లు ను గుర్తించండి.

Options :

1. ✗ A మాత్రమే
2. ✗ B మాత్రమే
3. ✓ A మరియు B లు రెండూ
4. ✗ A కానీ లేదా B కానీ ఏదీ కాదు

Question Number : 31 Question Id : 630680219954 Question Type : MCQ Option Shuffling : Yes Is Question Mandatory : No Calculator : None Response Time : N.A Think Time : N.A Minimum Instruction Time : 0 Negative Marks Display Text : 0.0

Correct Marks : 1 Wrong Marks : 0

Choose the CORRECT pair of seasons along with the months in which they occur in India:

- A. Hot weather season: March to May
- B. Retreating monsoon season: December to February
- C. Cold weather season: October to November

Options :

1. ✓ Only A
2. ✗ Both A and C
3. ✗ Only C
4. ✗ A, B and C

Question Number : 31 Question Id : 630680219954 Question Type : MCQ Option Shuffling : Yes Is Question Mandatory : No Calculator : None Response Time : N.A Think Time : N.A Minimum Instruction Time : 0 Negative Marks Display Text : 0.0 Correct Marks : 1 Wrong Marks : 0

భారతదేశంలో ఋతువులు అవి వచ్చే నెలలతో గల సరైన జతను ఎంచుకోండి:

- A. వేడి వాతావరణ కాలం: మార్చి నుండి మే వరకు
- B. తిరోగమన రుతుపవన కాలం: డిసెంబర్ నుండి ఫిబ్రవరి వరకు
- C. చల్లని వాతావరణ కాలం: అక్టోబర్ నుండి నవంబర్ వరకు

Options :

1. ✓ A మాత్రమే
2. ✗ A మరియు C లు రెండూ
3. ✗ C మాత్రమే
4. ✗ A, B మరియు C

Question Number : 32 Question Id : 630680219955 Question Type : MCQ Option Shuffling : Yes Is Question Mandatory : No Calculator : None Response Time : N.A Think Time : N.A Minimum Instruction Time : 0 Negative Marks Display Text : 0.0 Correct Marks : 1 Wrong Marks : 0

Match the following natural resources with their products/services:

1. Trees	A. Fuel
2. Cotton	B. Paper
3. Coal	C. Clothing
4. Diamonds	D. Jewellery

Options :

1. ✗ 1-A, 2-B, 3-C, 4-D
2. ✓ 1-B, 2-C, 3-A, 4-D
3. ✗ 1-C, 2-B, 3-A, 4-D
4. ✗ 1-B, 2-A, 3-C, 4-D

Question Number : 32 Question Id : 630680219955 Question Type : MCQ Option Shuffling : Yes Is Question Mandatory : No Calculator : None Response Time : N.A Think Time : N.A Minimum Instruction Time : 0 Negative Marks Display Text : 0.0 Correct Marks : 1 Wrong Marks : 0

ఈ క్రింది సహజ వనరులను వాటి ఉత్పత్తులు/సేవలతో జతపరచండి.

1. చెట్లు	A. ఇంధనం
2. పత్తి	B. కాగితం
3. బొగ్గు	C. దుస్తులు
4. వజ్రాలు	D. ఆభరణాలు

Options :

1. ✗ 1-A, 2-B, 3-C, 4-D
2. ✓ 1-B, 2-C, 3-A, 4-D
3. ✗ 1-C, 2-B, 3-A, 4-D
4. ✗ 1-B, 2-A, 3-C, 4-D

Question Number : 33 Question Id : 630680219956 Question Type : MCQ Option Shuffling : Yes Is Question Mandatory : No Calculator : None Response Time : N.A Think Time : N.A Minimum Instruction Time : 0 Negative Marks Display Text : 0.0

Correct Marks : 1 Wrong Marks : 0

Arrange the following mountain peaks of the Himalayas in increasing order of their altitudes:

1. Mt. Everest
2. Kanchenjunga
3. Makalu
4. Dhaulagiri

Options :

1. ✓ 4<3<2<1
2. ✗ 3<2<4<1
3. ✗ 3<1<2<4
4. ✗ 1<2<3<4

Question Number : 33 Question Id : 630680219956 Question Type : MCQ Option Shuffling : Yes Is Question Mandatory : No Calculator : None Response Time : N.A Think Time : N.A Minimum Instruction Time : 0 Negative Marks Display Text : 0.0

Correct Marks : 1 Wrong Marks : 0

క్రింది హిమాలయ పర్వత శిఖరాలను వాటి ఎత్తుల ప్రకారం ఆరోహణ క్రమంలో అమర్చండి:

1. మౌంట్ ఎవరెస్ట్
2. కాంచనజంగా
3. మకాలు
4. ధౌలగిరి

Options :

1. ✓ 4<3<2<1
2. ✗ 3<2<4<1
3. ✗ 3<1<2<4
4. ✗ 1<2<3<4

Question Number : 34 Question Id : 630680219957 Question Type : MCQ Option Shuffling : Yes Is Question Mandatory : No Calculator : None Response Time : N.A Think Time : N.A Minimum Instruction Time : 0 Negative Marks Display Text : 0.0

Correct Marks : 1 Wrong Marks : 0

Match the rivers along with their tributaries:

1. Ganga	A. Ravi
2. Indus	B. Son
3. Yamuna	C. Bori
4. Tapti	D. Ken

Options :

1. ✗ 1-A, 2-B, 3-C, 4-D
2. ✓ 1-B, 2-A, 3-D, 4-C
3. ✗ 1-C, 2-D, 3-B, 4-A
4. ✗ 1-D, 2-B, 3-A, 4-C

Question Number : 34 Question Id : 630680219957 Question Type : MCQ Option Shuffling : Yes Is Question Mandatory : No Calculator : None Response Time : N.A Think Time : N.A Minimum Instruction Time : 0 Negative Marks Display Text : 0.0

Correct Marks : 1 Wrong Marks : 0

నదులతో పాటు వాటి ఉపనదులను జతపరచండి:

1. గంగ	A. రావి
2. సింధు	B. సోన్
3. యమునా	C. బోరి
4. తపతి	D. కెన్

Options :

1. ✗ 1-A, 2-B, 3-C, 4-D

2. ✓ 1-B, 2-A, 3-D, 4-C
3. ✗ 1-C, 2-D, 3-B, 4-A
4. ✗ 1-D, 2-B, 3-A, 4-C

Question Number : 35 Question Id : 630680219958 Question Type : MCQ Option Shuffling : Yes Is Question Mandatory : No Calculator : None Response Time : N.A Think Time : N.A Minimum Instruction Time : 0 Negative Marks Display Text : 0.0

Correct Marks : 1 Wrong Marks : 0

Arrange the following states in the increasing percentage of literacy rates in India, as per the 2011 Census:

1. Kerala
2. Mizoram
3. Tripura
4. Lakshadweep

Options :

1. ✗ 3<2<1<4
2. ✗ 1<2<3<4
3. ✗ 2<4<1<3
4. ✓ 3<2<4<1

Question Number : 35 Question Id : 630680219958 Question Type : MCQ Option Shuffling : Yes Is Question Mandatory : No Calculator : None Response Time : N.A Think Time : N.A Minimum Instruction Time : 0 Negative Marks Display Text : 0.0

Correct Marks : 1 Wrong Marks : 0

2011 జనాభా లెక్కల ప్రకారం భారతదేశంలో పెరుగుతున్న అక్షరాస్యతా శాతం ప్రకారం ఈ క్రింది రాష్ట్రాలను అమర్చండి:

1. కేరళ
2. మిజోరం
3. త్రిపుర
4. లక్షద్వీప్

Options :

1. ✗ 3<2<1<4
2. ✗ 1<2<3<4
3. ✗ 2<4<1<3
4. ✓ 3<2<4<1

Question Number : 36 Question Id : 630680219959 Question Type : MCQ Option Shuffling : Yes Is Question Mandatory : No Calculator : None Response Time : N.A Think Time : N.A Minimum Instruction Time : 0 Negative Marks Display Text : 0.0

Correct Marks : 1 Wrong Marks : 0

Identify the CORRECT pair/pairs of the percentages below poverty line in 2011-2012, as per NITI AAYOG:

- A. Rural areas: 25.7%
- B. Urban areas: 13.7%

Options :

1. ✓ Both A and B
2. ✗ Only B
3. ✗ Only A
4. ✗ Neither A nor B

Question Number : 36 Question Id : 630680219959 Question Type : MCQ Option Shuffling : Yes Is Question Mandatory : No Calculator : None Response Time : N.A Think Time : N.A Minimum Instruction Time : 0 Negative Marks Display Text : 0.0

Correct Marks : 1 Wrong Marks : 0

నీతి అయోగ్ ప్రకారం, 2011-2012లో దారిద్ర్య రేఖకు దిగువన ఉన్న శాతాల్లోని సరైన జత/జతలను గుర్తించండి:

- A. గ్రామీణ ప్రాంతాలు: 25.7%
- B. పట్టణ ప్రాంతాలు: 13.7%

Options :

1. ✓ A మరియు B లు రెండూ
2. ✗ B మాత్రమే
3. ✗ A మాత్రమే
4. ✗ A కానీ లేదా B కానీ ఏదీ కాదు

Question Number : 37 Question Id : 630680219960 Question Type : MCQ Option Shuffling : Yes Is Question Mandatory : No Calculator : None Response Time : N.A Think Time : N.A Minimum Instruction Time : 0 Negative Marks Display Text : 0.0 Correct Marks : 1 Wrong Marks : 0

Arrange the different religions of India in chronological order from highest to lowest in terms of population:

1. Muslim
2. Jain
3. Christian
4. Hindu

Options :

1. ✘ 1, 2, 3, 4
2. ✔ 4, 1, 3, 2
3. ✘ 2, 1, 3, 4
4. ✘ 3, 1, 2, 4

Question Number : 37 Question Id : 630680219960 Question Type : MCQ Option Shuffling : Yes Is Question Mandatory : No Calculator : None Response Time : N.A Think Time : N.A Minimum Instruction Time : 0 Negative Marks Display Text : 0.0 Correct Marks : 1 Wrong Marks : 0

భారతదేశంలోని వివిధ మతాలను జనాభా పరంగా అత్యధికం నుండి అత్యల్పం వరకు కాలక్రమానుసారంగా అమర్చండి:

1. ముస్లిం
2. జైన
3. క్రైస్తవ
4. హిందూ

Options :

1. ✘ 1, 2, 3, 4
2. ✔ 4, 1, 3, 2
3. ✘ 2, 1, 3, 4
4. ✘ 3, 1, 2, 4

Question Number : 38 Question Id : 630680219961 Question Type : MCQ Option Shuffling : Yes Is Question Mandatory : No Calculator : None Response Time : N.A Think Time : N.A Minimum Instruction Time : 0 Negative Marks Display Text : 0.0 Correct Marks : 1 Wrong Marks : 0

Read the following statements about Unemployment in India:

- A. India's population suffers from poor health and nutrition, which lowers people's ability to work and leads to unemployment.
 - B. The expansion and productive capacity of various sectors are constrained by a lack of investment and infrastructure development, which results in a poor creation of employment possibilities throughout the economy.
- Identify the INCORRECT statement/statements.

Options :

1. ✘ Only A
2. ✘ Only B
3. ✔ Neither A nor B
4. ✘ Both A and B

Question Number : 38 Question Id : 630680219961 Question Type : MCQ Option Shuffling : Yes Is Question Mandatory : No Calculator : None Response Time : N.A Think Time : N.A Minimum Instruction Time : 0 Negative Marks Display Text : 0.0 Correct Marks : 1 Wrong Marks : 0

భారతదేశంలో నిరుద్యోగం గురించి ఈ క్రింది వాక్యాలను చదవండి:

- A. భారతదేశ జనాభా అత్యల్ప ఆరోగ్య మరియు పోషకాహారంతో బాధపడుతుంది, ఇది ప్రజల పని సామర్థ్యాన్ని తగ్గించి, నిరుద్యోగానికి దారితీస్తుంది.
- B. వివిధ రంగాల విస్తరణ మరియు ఉత్పాదక సామర్థ్యం అనేవి పెట్టుబడి మరియు మౌలికసదుపాయాల అభివృద్ధి లేకపోవడం వల్ల నిర్బంధించబడింది, దీని ఫలితంగా ఆర్థిక వ్యవస్థలో ఉపాధి అవకాశాలు తక్కువగా ఉంటాయి. సరికాని వాక్యము/ల ను గుర్తించండి.

Options :

1. ✘ A మాత్రమే
2. ✘ B మాత్రమే

3. ✓ A కానీ లేదా B కానీ ఏదీ కాదు

4. ✗ A మరియు B లు రెండూ

Question Number : 39 Question Id : 630680219962 Question Type : MCQ Option Shuffling : Yes Is Question Mandatory : No Calculator : None Response Time : N.A Think Time : N.A Minimum Instruction Time : 0 Negative Marks Display Text : 0.0

Correct Marks : 1 Wrong Marks : 0

Identify the CORRECT pair/pairs of types of crops along with the months in which they are grown:

A. Kharif Crops: July-October

B. Rabi Crops: March- June

C. Zaid Crops: October- February

Options :

1. ✓ Only A

2. ✗ Only C

3. ✗ Both A and B

4. ✗ A, B and C

Question Number : 39 Question Id : 630680219962 Question Type : MCQ Option Shuffling : Yes Is Question Mandatory : No Calculator : None Response Time : N.A Think Time : N.A Minimum Instruction Time : 0 Negative Marks Display Text : 0.0

Correct Marks : 1 Wrong Marks : 0

పంటలను అవి పండించే నెలలతో గల సరైన జత/జతలను గుర్తించండి:

A. ఖరీఫ్ పంటలు: జూలై-అక్టోబర్

B. రబీ పంటలు: మార్చి-జూన్

C. జైడ్ పంటలు: అక్టోబర్-ఫిబ్రవరి

Options :

1. ✓ A మాత్రమే

2. ✗ C మాత్రమే

3. ✗ A మరియు B లు రెండూ

4. ✗ A, B మరియు C

Question Number : 40 Question Id : 630680219963 Question Type : MCQ Option Shuffling : Yes Is Question Mandatory : No Calculator : None Response Time : N.A Think Time : N.A Minimum Instruction Time : 0 Negative Marks Display Text : 0.0

Correct Marks : 1 Wrong Marks : 0

What is the rank of India as a producer and consumer of electricity worldwide?

Options :

1. ✗ First

2. ✗ Second

3. ✓ Third

4. ✗ Fourth

Question Number : 40 Question Id : 630680219963 Question Type : MCQ Option Shuffling : Yes Is Question Mandatory : No Calculator : None Response Time : N.A Think Time : N.A Minimum Instruction Time : 0 Negative Marks Display Text : 0.0

Correct Marks : 1 Wrong Marks : 0

ప్రపంచవ్యాప్తంగా విద్యుత్ ఉత్పత్తి మరియు వినియోగంలో భారతదేశ ర్యాంక్ ఎంత?

Options :

1. ✗ మొదటి

2. ✗ రెండవ

3. ✓ మూడవ

4. ✗ నాల్గవ

Question Number : 41 Question Id : 630680219964 Question Type : MCQ Option Shuffling : Yes Is Question Mandatory : No Calculator : None Response Time : N.A Think Time : N.A Minimum Instruction Time : 0 Negative Marks Display Text : 0.0

Correct Marks : 1 Wrong Marks : 0

Read the following statements about Railways in India:

A. Between Bombay (now Mumbai) and Thane over a distance of 34 km, the first rail railway line in India began operating for public

traffic in 1853. It was nationalised in 1950.

B. Darjeeling, Himalayan Railways, Nilgiri Mountain Railways, Chhatrapati Shivaji Terminus, and Kalka-Shimla Railways are among the railways that UNESCO has recognised.

C. The longest run in terms of duration and mileage is the 4,273 km Vivek Express, which runs from Dibrugarh to Kanyakumari.

Identify the CORRECT statement/statements.

Options :

1. ✘ Only A
2. ✘ Both A and C
3. ✘ Only C
4. ✔ A, B and C

Question Number : 41 Question Id : 630680219964 Question Type : MCQ Option Shuffling : Yes Is Question Mandatory : No Calculator : None Response Time : N.A Think Time : N.A Minimum Instruction Time : 0 Negative Marks Display Text : 0.0

Correct Marks : 1 Wrong Marks : 0

భారతదేశంలో రైల్వేల గురించి ఈ క్రింది వాక్యాలను చదవండి:

A. భారతదేశంలో మొదటి రైలు యొక్క రైల్వే మార్గం 1853లో బొంబాయి (ప్రస్తుత ముంబై) మరియు రాణే మధ్య 34 km దూరం, ప్రజల రాకపోకల కోసం పనిచేయడం ప్రారంభించింది. ఇది 1950లో జాతీయం చేయబడింది.

B. డార్జిలింగ్, హిమాలయన్ రైల్వేలు, నీలగిరి పర్వత రైల్వేలు, ఛత్రపతి శివాజీ టెర్మినస్ మరియు కల్కా-సిమ్లా రైల్వేలు యునెస్కో గుర్తించిన రైల్వేలలో కలవు.

C. కాలవ్యవధి మరియు మైలేజీ పరంగా ఎక్కువ దూరం ప్రయాణించేది 4,273 km వివేక్ ఎక్స్ప్రెస్, ఇది దిబ్రూఘర్ నుండి కన్యాకుమారి వరకు నడుస్తుంది.

సరైన వాక్యము/లు ను గుర్తించండి.

Options :

1. ✘ A మాత్రమే
2. ✘ A మరియు C లు రెండూ
3. ✘ C మాత్రమే
4. ✔ A, B మరియు C

Question Number : 42 Question Id : 630680219965 Question Type : MCQ Option Shuffling : Yes Is Question Mandatory : No Calculator : None Response Time : N.A Think Time : N.A Minimum Instruction Time : 0 Negative Marks Display Text : 0.0

Correct Marks : 1 Wrong Marks : 0

Which one of the following is a flagship scheme of all health initiatives of the State Government of Telangana with a mission to provide quality healthcare to the poor?

Options :

1. ✔ Aarogyasri
2. ✘ Swasthasri
3. ✘ Nirogta
4. ✘ Tandurusti

Question Number : 42 Question Id : 630680219965 Question Type : MCQ Option Shuffling : Yes Is Question Mandatory : No Calculator : None Response Time : N.A Think Time : N.A Minimum Instruction Time : 0 Negative Marks Display Text : 0.0

Correct Marks : 1 Wrong Marks : 0

పేదలకు నాణ్యమైన వైద్యం అందించాలనే లక్ష్యంతో తెలంగాణ రాష్ట్ర ప్రభుత్వం చేపట్టిన అన్ని ఆరోగ్య కార్యక్రమాలలో ఈ క్రింది వాటిలో ఏది ప్రధానమైన పథకం?

Options :

1. ✔ ఆరోగ్యశ్రీ
2. ✘ స్వస్థశ్రీ
3. ✘ నిరోగ్తా
4. ✘ తందురుస్తీ

Question Number : 43 Question Id : 630680219966 Question Type : MCQ Option Shuffling : Yes Is Question Mandatory : No Calculator : None Response Time : N.A Think Time : N.A Minimum Instruction Time : 0 Negative Marks Display Text : 0.0

Correct Marks : 1 Wrong Marks : 0

Read the following statements about the fundamental duties:

A. They serve as a reminder to the citizens that while enjoying their rights, they should also be conscious of duties they owe to their

country, their society and to their fellow citizens.

B. They serve as a warning against the anti-national and antisocial activities like burning the national flag, destroying public property and so on.

C. They serve as a source of inspiration for the citizens and promote a sense of discipline and commitment among them.

Identify the CORRECT statement/statements.

Options :

1. ✖ Only A
2. ✖ Only C
3. ✔ A, B and C
4. ✖ None of the above.

Question Number : 43 Question Id : 630680219966 Question Type : MCQ Option Shuffling : Yes Is Question Mandatory : No Calculator : None Response Time : N.A Think Time : N.A Minimum Instruction Time : 0 Negative Marks Display Text : 0.0

Correct Marks : 1 Wrong Marks : 0

ప్రాథమిక విధుల గురించి ఈ క్రింది వాక్యాలను చదవండి:

A. పౌరులకు వారి హక్కులను అనుభవిస్తూనే, వారు తమ దేశానికి, సమాజానికి మరియు తోటి పౌరులకు గల విధుల పట్ల కూడా స్పృహ కలిగి ఉండాలని అవి గుర్తుచేస్తాయి.

B. జాతీయ జెండాను కాల్పడం, ప్రజా ఆస్తులను ధ్వంసం చేయడం మొదలైన దేశ విద్రోహ మరియు అసాంఘిక కార్యకలాపాలకు వ్యతిరేకంగా ఇవి హెచ్చరికగా పనిచేస్తాయి.

C. అవి పౌరులకు స్ఫూర్తి జనకంగా పనిచేస్తాయి మరియు వారిలో క్రమశిక్షణ మరియు నిబద్ధతను పెంపొందిస్తాయి. సరైన వాక్యము/ల ను గుర్తించండి.

Options :

1. ✖ A మాత్రమే
2. ✖ C మాత్రమే
3. ✔ A, B మరియు C
4. ✖ పైవేవీ కావు.

Question Number : 44 Question Id : 630680219967 Question Type : MCQ Option Shuffling : Yes Is Question Mandatory : No Calculator : None Response Time : N.A Think Time : N.A Minimum Instruction Time : 0 Negative Marks Display Text : 0.0

Correct Marks : 1 Wrong Marks : 0

Into how many categories are the fundamental rights of the Indian Constitution divided?

Options :

1. ✖ Three
2. ✖ Ten
3. ✔ Six
4. ✖ Twelve

Question Number : 44 Question Id : 630680219967 Question Type : MCQ Option Shuffling : Yes Is Question Mandatory : No Calculator : None Response Time : N.A Think Time : N.A Minimum Instruction Time : 0 Negative Marks Display Text : 0.0

Correct Marks : 1 Wrong Marks : 0

భారత రాజ్యాంగంలోని ప్రాథమిక హక్కులను ఎన్ని వర్గాలుగా విభజించారు?

Options :

1. ✖ మూడు
2. ✖ పది
3. ✔ ఆరు
4. ✖ పన్నెండు

Question Number : 45 Question Id : 630680219968 Question Type : MCQ Option Shuffling : Yes Is Question Mandatory : No Calculator : None Response Time : N.A Think Time : N.A Minimum Instruction Time : 0 Negative Marks Display Text : 0.0

Correct Marks : 1 Wrong Marks : 0

In which part of the Indian Constitution is Citizenship incorporated?

Options :

1. ✖ Part I
2. ✔ Part II

3. ✖ Part III

4. ✖ Part IV

Question Number : 45 Question Id : 630680219968 Question Type : MCQ Option Shuffling : Yes Is Question Mandatory : No Calculator : None Response Time : N.A Think Time : N.A Minimum Instruction Time : 0 Negative Marks Display Text : 0.0

Correct Marks : 1 Wrong Marks : 0

భారత రాజ్యాంగంలోని ఏ విభాగంలో పౌరసత్వం పొందుపరచబడింది?

Options :

1. ✖ విభాగం I

2. ✔ విభాగం II

3. ✖ విభాగం III

4. ✖ విభాగం IV

Question Number : 46 Question Id : 630680219969 Question Type : MCQ Option Shuffling : Yes Is Question Mandatory : No Calculator : None Response Time : N.A Think Time : N.A Minimum Instruction Time : 0 Negative Marks Display Text : 0.0

Correct Marks : 1 Wrong Marks : 0

Arrange the types of courts in the order of their increasing power:

1. Supreme Court

2. District Court

3. High Court

Options :

1. ✔ 2<3<1

2. ✖ 1<2<3

3. ✖ 1<3<2

4. ✖ 2<1<3

Question Number : 46 Question Id : 630680219969 Question Type : MCQ Option Shuffling : Yes Is Question Mandatory : No Calculator : None Response Time : N.A Think Time : N.A Minimum Instruction Time : 0 Negative Marks Display Text : 0.0

Correct Marks : 1 Wrong Marks : 0

కోర్టుల రకాలను వాటి పెరుగుతున్న అధికార క్రమంలో అమర్చండి:

1. సుప్రీంకోర్టు

2. జిల్లా కోర్టు

3. హైకోర్టు

Options :

1. ✔ 2<3<1

2. ✖ 1<2<3

3. ✖ 1<3<2

4. ✖ 2<1<3

Question Number : 47 Question Id : 630680219970 Question Type : MCQ Option Shuffling : Yes Is Question Mandatory : No Calculator : None Response Time : N.A Think Time : N.A Minimum Instruction Time : 0 Negative Marks Display Text : 0.0

Correct Marks : 1 Wrong Marks : 0

Identify the CORRECT pair/pairs about the houses of the Parliament:

A. Lok Sabha: House of People

B. Rajya Sabha: Council of States

Options :

1. ✖ Only A

2. ✖ Only B

3. ✔ Both A and B

4. ✖ Neither A nor B

Question Number : 47 Question Id : 630680219970 Question Type : MCQ Option Shuffling : Yes Is Question Mandatory : No Calculator : None Response Time : N.A Think Time : N.A Minimum Instruction Time : 0 Negative Marks Display Text : 0.0

Correct Marks : 1 Wrong Marks : 0

పార్లమెంటు సభల గురించి సరైన జత/జతలను గుర్తించండి:

- A. లోక్ సభ: చట్టసభ
B. రాజ్యసభ: కౌన్సిల్ ఆఫ్ స్టేట్స్

Options :

1. ✖ A మాత్రమే
2. ✖ B మాత్రమే
3. ✔ A మరియు B లు రెండూ
4. ✖ A కానీ లేదా B కానీ ఏదీ కాదు

Question Number : 48 Question Id : 630680219971 Question Type : MCQ Option Shuffling : Yes Is Question Mandatory : No Calculator : None Response Time : N.A Think Time : N.A Minimum Instruction Time : 0 Negative Marks Display Text : 0.0 Correct Marks : 1 Wrong Marks : 0

Arrange the following state executives in chronological order from highest power to the least:

1. Governor
2. Council of Ministers
3. Chief Minister

Options :

1. ✔ 1, 3, 2
2. ✖ 1, 2, 3
3. ✖ 2, 3, 1
4. ✖ 3, 1, 2

Question Number : 48 Question Id : 630680219971 Question Type : MCQ Option Shuffling : Yes Is Question Mandatory : No Calculator : None Response Time : N.A Think Time : N.A Minimum Instruction Time : 0 Negative Marks Display Text : 0.0 Correct Marks : 1 Wrong Marks : 0

ఈ క్రింది రాష్ట్ర కార్యనిర్వహణాధికారులను అత్యున్నత అధికారం నుండి తక్కువ వరకు కాలక్రమానుసారంగా అమర్చండి:

1. గవర్నర్
2. మంత్రి మండలి
3. ముఖ్యమంత్రి

Options :

1. ✔ 1, 3, 2
2. ✖ 1, 2, 3
3. ✖ 2, 3, 1
4. ✖ 3, 1, 2

Question Number : 49 Question Id : 630680219972 Question Type : MCQ Option Shuffling : Yes Is Question Mandatory : No Calculator : None Response Time : N.A Think Time : N.A Minimum Instruction Time : 0 Negative Marks Display Text : 0.0 Correct Marks : 1 Wrong Marks : 0

Identify the CORRECT pair/pairs of states with the number of houses they possess:

- A. Bihar: Two houses
B. Assam: Two houses
C. Uttar Pradesh: Two houses

Options :

1. ✖ Only A
2. ✔ Both A and C
3. ✖ A, B and C
4. ✖ None of the above.

Question Number : 49 Question Id : 630680219972 Question Type : MCQ Option Shuffling : Yes Is Question Mandatory : No Calculator : None Response Time : N.A Think Time : N.A Minimum Instruction Time : 0 Negative Marks Display Text : 0.0 Correct Marks : 1 Wrong Marks : 0

రాష్ట్రాలు అవి కలిగి ఉన్న సభల సంఖ్యతో గల సరైన జత/ జతలను గుర్తించండి:

- A. బీహార్: రెండు సభలు
B. అస్సాం: రెండు సభలు
C. ఉత్తరప్రదేశ్: రెండు సభలు

Options :

1. ✘ A మాత్రమే
2. ✔ A మరియు C లు రెండూ
3. ✘ A, B మరియు C
4. ✘ పైవేవీ కావు

Question Number : 50 Question Id : 630680219973 Question Type : MCQ Option Shuffling : Yes Is Question Mandatory : No
 Calculator : None Response Time : N.A Think Time : N.A Minimum Instruction Time : 0 Negative Marks Display Text : 0.0
 Correct Marks : 1 Wrong Marks : 0

Match the following urban governments with their functions:

1. Municipal Corporation	A. It is established for administration of smaller towns and cities
2. Municipality	B. It is created for the administration of big cities
3. Notified Area Committee	C. It is setup for the administration of a small town
4. Town Area Committee	D. It is created for fast-developing areas that have not yet achieved the numbers to become a municipality

Options :

1. ✘ 1-A, 2-B, 3-C, 4-D
2. ✔ 1-B, 2-A, 3-D, 4-C
3. ✘ 1-C, 2-B, 3-A, 4-D
4. ✘ 1-B, 2-A, 3-C, 4-D

Question Number : 50 Question Id : 630680219973 Question Type : MCQ Option Shuffling : Yes Is Question Mandatory : No
 Calculator : None Response Time : N.A Think Time : N.A Minimum Instruction Time : 0 Negative Marks Display Text : 0.0
 Correct Marks : 1 Wrong Marks : 0

ఈ క్రింది పట్టణ ప్రభుత్వాలను వాటి విధులతో జతపరచండి.

1. మున్సిపల్ కార్పొరేషన్	A. ఇది చిన్న పట్టణాలు మరియు నగరాల పరిపాలన కోసం ఏర్పాటు చేయబడింది
2. మున్సిపాలిటీ	B. ఇది పెద్ద నగరాల పరిపాలన కోసం ఏర్పాటు చేయబడింది
3. నోటిఫైడ్ ఏరియా కమిటీ	C. ఇది ఒక చిన్న పట్టణం యొక్క పరిపాలన కోసం ఏర్పాటు చేయబడింది
4. టౌన్ ఏరియా కమిటీ	D. ఇది మున్సిపాలిటీగా మారడానికి అవసరమైన సంఖ్యలను సాధించని, వేగంగా అభివృద్ధి చెందుతున్న ప్రాంతాల కోసం ఏర్పాటు చేయబడింది

Options :

1. ✘ 1-A, 2-B, 3-C, 4-D
2. ✔ 1-B, 2-A, 3-D, 4-C
3. ✘ 1-C, 2-B, 3-A, 4-D
4. ✘ 1-B, 2-A, 3-C, 4-D

Question Number : 51 Question Id : 630680219974 Question Type : MCQ Option Shuffling : Yes Is Question Mandatory : No
 Calculator : None Response Time : N.A Think Time : N.A Minimum Instruction Time : 0 Negative Marks Display Text : 0.0
 Correct Marks : 1 Wrong Marks : 0

Arrange the following urban local governments in chronological order in terms of their functioning from larger area to smaller areas:

1. Municipal Corporation
2. Notified Area Committee
3. Municipality
4. Town Area Committee

Options :

1. ✔ 1, 3, 2, 4
2. ✘ 1, 2, 3, 4
3. ✘ 3, 2, 1, 4
4. ✘ 4, 3, 2, 1

Question Number : 51 Question Id : 630680219974 Question Type : MCQ Option Shuffling : Yes Is Question Mandatory : No Calculator : None Response Time : N.A Think Time : N.A Minimum Instruction Time : 0 Negative Marks Display Text : 0.0 Correct Marks : 1 Wrong Marks : 0

ఈ క్రింది పట్టణ స్థానిక ప్రభుత్వాలను అత్యధిక విస్తీర్ణం నుండి అత్యల్ప విస్తీర్ణం వరకు వాటి పనితీరు పరంగా కాలక్రమానుసారంగా అమర్చండి:

1. మున్సిపల్ కార్పొరేషన్
2. నోటిఫైడ్ ఏరియా కమిటీ
3. మున్సిపాలిటీ
4. టౌన్ ఏరియా కమిటీ

Options :

1. ✓ 1, 3, 2, 4
2. ✗ 1, 2, 3, 4
3. ✗ 3, 2, 1, 4
4. ✗ 4, 3, 2, 1

Question Number : 52 Question Id : 630680219975 Question Type : MCQ Option Shuffling : Yes Is Question Mandatory : No Calculator : None Response Time : N.A Think Time : N.A Minimum Instruction Time : 0 Negative Marks Display Text : 0.0 Correct Marks : 1 Wrong Marks : 0

Arrange the following types of governing authorities in terms of their power from highest to lowest:

1. Central Government
2. Zila Parishad
3. State Government

Options :

1. ✗ 1>2>3
2. ✓ 1>3>2
3. ✗ 3>2>1
4. ✗ 2>1>3

Question Number : 52 Question Id : 630680219975 Question Type : MCQ Option Shuffling : Yes Is Question Mandatory : No Calculator : None Response Time : N.A Think Time : N.A Minimum Instruction Time : 0 Negative Marks Display Text : 0.0 Correct Marks : 1 Wrong Marks : 0

ఈ క్రింది పాలనా యంత్రాంగం వాటి అధికారం పరంగా అత్యధికం నుండి అత్యల్పానికి అమర్చండి:

1. కేంద్ర ప్రభుత్వం
2. జిల్లా పరిషత్
3. రాష్ట్ర ప్రభుత్వం

Options :

1. ✗ 1>2>3
2. ✓ 1>3>2
3. ✗ 3>2>1
4. ✗ 2>1>3

Question Number : 53 Question Id : 630680219976 Question Type : MCQ Option Shuffling : Yes Is Question Mandatory : No Calculator : None Response Time : N.A Think Time : N.A Minimum Instruction Time : 0 Negative Marks Display Text : 0.0 Correct Marks : 1 Wrong Marks : 0

Match the following Acts with their year of enactment:

1. Indian Universities Act	A. 1913
2. Wardha Scheme	B. 1904
3. Government resolution on education policy	C. 1937

Options :

1. ✓ 1-B, 2-C, 3-A
2. ✗ 1-A, 2-B, 3-C
3. ✗ 1-C, 2-B, 3-A

4. ✖ 1-A, 2-C, 3-B

Question Number : 53 Question Id : 630680219976 Question Type : MCQ Option Shuffling : Yes Is Question Mandatory : No
 Calculator : None Response Time : N.A Think Time : N.A Minimum Instruction Time : 0 Negative Marks Display Text : 0.0
 Correct Marks : 1 Wrong Marks : 0

ఈ క్రింది చట్టాలను అవి అమలు చేసిన సంవత్సరంతో జతపరచండి-

1. భారతీయ విశ్వవిద్యాలయాల చట్టం	A. 1913
2. వార్ధా పథకం	B. 1904
3. విద్యా విధానంపై ప్రభుత్వ తీర్మానం	C. 1937

Options :

- ✓ 1-B, 2-C, 3-A
- ✖ 1-A, 2-B, 3-C
- ✖ 1-C, 2-B, 3-A
- ✖ 1-A, 2-C, 3-B

Question Number : 54 Question Id : 630680219977 Question Type : MCQ Option Shuffling : Yes Is Question Mandatory : No
 Calculator : None Response Time : N.A Think Time : N.A Minimum Instruction Time : 0 Negative Marks Display Text : 0.0
 Correct Marks : 1 Wrong Marks : 0

Identify the INCORRECT pair/pairs of events and their year of enactment:

- Resolution of 'Poorna Swaraj' passed: 1929
- Gandhi-Irwin Pact: 1932
- Government of India Act passed: 1935

Options :

- ✖ Only A
- ✖ Both A and B
- ✓ Only B
- ✖ A, B and C

Question Number : 54 Question Id : 630680219977 Question Type : MCQ Option Shuffling : Yes Is Question Mandatory : No
 Calculator : None Response Time : N.A Think Time : N.A Minimum Instruction Time : 0 Negative Marks Display Text : 0.0
 Correct Marks : 1 Wrong Marks : 0

సంఘటన మరియు అది అమల్లోకి వచ్చిన సంవత్సరాలలో సరికాని జత/జతలను గుర్తించండి:

- 'పూర్ణ స్వరాజ్' తీర్మానం ఆమోదించబడింది: 1929
- గాంధీ-ఇర్విన్ ఒప్పందం: 1932
- భారత ప్రభుత్వ చట్టం ఆమోదించబడింది: 1935

Options :

- ✖ A మాత్రమే
- ✖ A మరియు B లు రెండూ
- ✓ B మాత్రమే
- ✖ A, B మరియు C

Question Number : 55 Question Id : 630680219978 Question Type : MCQ Option Shuffling : Yes Is Question Mandatory : No
 Calculator : None Response Time : N.A Think Time : N.A Minimum Instruction Time : 0 Negative Marks Display Text : 0.0
 Correct Marks : 1 Wrong Marks : 0

Which of the following leaders was the founder of the organisation Gyan Prasarak Mandali?

Options :

- ✖ Gopal Krishna Gokhale
- ✓ Dadabhai Naoroji
- ✖ Lala Lajpat Rai

4. ✖ Swami Dayanand Saraswati

Question Number : 55 Question Id : 630680219978 Question Type : MCQ Option Shuffling : Yes Is Question Mandatory : No
 Calculator : None Response Time : N.A Think Time : N.A Minimum Instruction Time : 0 Negative Marks Display Text : 0.0
 Correct Marks : 1 Wrong Marks : 0

ఈ క్రింది వారిలో ఎవరు జ్ఞాన్ ప్రసారక్ మండలి సంస్థను స్థాపించారు?

Options :

1. ✖ గోపాల్ కృష్ణ గోఖలే
2. ✔ దాదాభాయి నౌరోజీ
3. ✖ లాలా లజపతిరాయ్
4. ✖ స్వామి దయానంద్ సరస్వతి

Question Number : 56 Question Id : 630680219979 Question Type : MCQ Option Shuffling : Yes Is Question Mandatory : No
 Calculator : None Response Time : N.A Think Time : N.A Minimum Instruction Time : 0 Negative Marks Display Text : 0.0
 Correct Marks : 1 Wrong Marks : 0

Which freedom fighter was popularly known as "Iron Lady"?

Options :

1. ✔ Durgabai Deshmukh
2. ✖ Aruna Asaf Ali
3. ✖ Kalpana Dull
4. ✖ Jyotiba Phule

Question Number : 56 Question Id : 630680219979 Question Type : MCQ Option Shuffling : Yes Is Question Mandatory : No
 Calculator : None Response Time : N.A Think Time : N.A Minimum Instruction Time : 0 Negative Marks Display Text : 0.0
 Correct Marks : 1 Wrong Marks : 0

"ఉక్కు మహిళ"గా ప్రసిద్ధి చెందిన స్వాతంత్ర్య సమరయోధురాలు ఎవరు?

Options :

1. ✔ దుర్గాబాయి దేశ్ముఖ్
2. ✖ అరుణా అసఫ్ అలీ
3. ✖ కల్పన డల్
4. ✖ జ్యోతిబా ఫులే

Question Number : 57 Question Id : 630680219980 Question Type : MCQ Option Shuffling : Yes Is Question Mandatory : No
 Calculator : None Response Time : N.A Think Time : N.A Minimum Instruction Time : 0 Negative Marks Display Text : 0.0
 Correct Marks : 1 Wrong Marks : 0

Arrange the socio religious movements in chronological order:

1. Brahmo Samaj
2. Prarthana Samaj
3. Satyashodhak Samaj

Options :

1. ✔ 1, 2, 3
2. ✖ 1, 3, 2
3. ✖ 2, 3, 1
4. ✖ 3, 2, 1

Question Number : 57 Question Id : 630680219980 Question Type : MCQ Option Shuffling : Yes Is Question Mandatory : No
 Calculator : None Response Time : N.A Think Time : N.A Minimum Instruction Time : 0 Negative Marks Display Text : 0.0
 Correct Marks : 1 Wrong Marks : 0

సామాజిక మతపరమైన ఉద్యమాలను కాలక్రమానుసారంగా అమర్చండి:

1. బ్రహ్మ సమాజం
2. ప్రార్థన సమాజం
3. సత్యశోధక సమాజం

Options :

1. ✓ 1, 2, 3
2. ✗ 1, 3, 2
3. ✗ 2, 3, 1
4. ✗ 3, 2, 1

Question Number : 58 Question Id : 630680219981 Question Type : MCQ Option Shuffling : Yes Is Question Mandatory : No Calculator : None Response Time : N.A Think Time : N.A Minimum Instruction Time : 0 Negative Marks Display Text : 0.0 Correct Marks : 1 Wrong Marks : 0

Who was the founder of Servants of India Society?

Options :

1. ✗ Dadabhai Naoroji
2. ✓ Gopal Krishna Gokhale
3. ✗ Swami Dayanand Saraswati
4. ✗ Lala Lajpat Rai

Question Number : 58 Question Id : 630680219981 Question Type : MCQ Option Shuffling : Yes Is Question Mandatory : No Calculator : None Response Time : N.A Think Time : N.A Minimum Instruction Time : 0 Negative Marks Display Text : 0.0 Correct Marks : 1 Wrong Marks : 0

సర్వోపేయ్ ఆఫ్ ఇండియా సొసైటీ వ్యవస్థాపకుడు ఎవరు?

Options :

1. ✗ దాదాభాయి నౌరోజీ
2. ✓ గోపాల్ కృష్ణ గోఖలే
3. ✗ స్వామి దయానంద సరస్వతి
4. ✗ లాలా లజపతిరాయ్

Question Number : 59 Question Id : 630680219982 Question Type : MCQ Option Shuffling : Yes Is Question Mandatory : No Calculator : None Response Time : N.A Think Time : N.A Minimum Instruction Time : 0 Negative Marks Display Text : 0.0 Correct Marks : 1 Wrong Marks : 0

Who among the following was one of the founders of the Theosophical Society?

Options :

1. ✗ Gopal Krishna Gokhale
2. ✗ Dadabhai Naoroji
3. ✓ Madame H. P. Blavatsky
4. ✗ Lala Lajpat Rai

Question Number : 59 Question Id : 630680219982 Question Type : MCQ Option Shuffling : Yes Is Question Mandatory : No Calculator : None Response Time : N.A Think Time : N.A Minimum Instruction Time : 0 Negative Marks Display Text : 0.0 Correct Marks : 1 Wrong Marks : 0

ఈ క్రింది వారిలో ఎవరు థియోసాఫికల్ సొసైటీ వ్యవస్థాపకుల్లో ఒకరు?

Options :

1. ✗ గోపాల్ కృష్ణ గోఖలే
2. ✗ దాదాభాయి నౌరోజీ
3. ✓ మేడమ్ H. P. బ్లావాట్స్కీ
4. ✗ లాలా లజపత్ రాయ్

Question Number : 60 Question Id : 630680219983 Question Type : MCQ Option Shuffling : Yes Is Question Mandatory : No Calculator : None Response Time : N.A Think Time : N.A Minimum Instruction Time : 0 Negative Marks Display Text : 0.0 Correct Marks : 1 Wrong Marks : 0

Which of the following is NOT an objective of the Fiscal Policy?

Options :

1. ✗ To promote economic growth
2. ✓ To increase income and wealth inequalities
3. ✗ To provide employment opportunities

4. ✖ To correct balance of payments deficit

Question Number : 60 Question Id : 630680219983 Question Type : MCQ Option Shuffling : Yes Is Question Mandatory : No
 Calculator : None Response Time : N.A Think Time : N.A Minimum Instruction Time : 0 Negative Marks Display Text : 0.0
 Correct Marks : 1 Wrong Marks : 0

కింది వాటిలో ఏది ఆర్థిక విధానం యొక్క లక్ష్యం కాదు?

Options :

1. ✖ ఆర్థిక వృద్ధిని ప్రోత్సహించుట
2. ✔ ఆదాయం మరియు సంపద అసమానతలను పెంచుట
3. ✖ ఉపాధి అవకాశాలు కల్పించుట
4. ✖ చెల్లింపుల బ్యాలెన్స్ లోటును సరిచేయుట

Question Number : 61 Question Id : 630680219984 Question Type : MCQ Option Shuffling : Yes Is Question Mandatory : No
 Calculator : None Response Time : N.A Think Time : N.A Minimum Instruction Time : 0 Negative Marks Display Text : 0.0
 Correct Marks : 1 Wrong Marks : 0

Arrange the following Government Schemes in the chronological order of their enforcement:

1. Jan Dhan Yojna
2. Atal Pension Yojna
3. Gold Monetization Scheme

Options :

1. ✖ 3, 2, 1
2. ✖ 2, 1, 3
3. ✔ 1, 2, 3
4. ✖ 1, 3, 2

Question Number : 61 Question Id : 630680219984 Question Type : MCQ Option Shuffling : Yes Is Question Mandatory : No
 Calculator : None Response Time : N.A Think Time : N.A Minimum Instruction Time : 0 Negative Marks Display Text : 0.0
 Correct Marks : 1 Wrong Marks : 0

ఈ క్రింది ప్రభుత్వ పథకాలను వాటి అమలు ప్రకారం కాలక్రమానుసారంగా అమర్చండి:

1. జన్ ధన్ యోజన
2. అటల్ పెన్షన్ యోజన
3. గోల్డ్ మానిమైజేషన్ స్కీమ్

Options :

1. ✖ 3, 2, 1
2. ✖ 2, 1, 3
3. ✔ 1, 2, 3
4. ✖ 1, 3, 2

Question Number : 62 Question Id : 630680219985 Question Type : MCQ Option Shuffling : Yes Is Question Mandatory : No
 Calculator : None Response Time : N.A Think Time : N.A Minimum Instruction Time : 0 Negative Marks Display Text : 0.0
 Correct Marks : 1 Wrong Marks : 0

In which year did the government of India launch a New Economic Policy, which was based on LPG or Liberalisation?

Options :

1. ✖ 2005
2. ✔ 1991
3. ✖ 1950
4. ✖ 2022

Question Number : 62 Question Id : 630680219985 Question Type : MCQ Option Shuffling : Yes Is Question Mandatory : No
 Calculator : None Response Time : N.A Think Time : N.A Minimum Instruction Time : 0 Negative Marks Display Text : 0.0
 Correct Marks : 1 Wrong Marks : 0

LPG లేదా సరళీకరణ ఆధారంగా భారత ప్రభుత్వం కొత్త ఆర్థిక విధానాన్ని ఏ సంవత్సరంలో ప్రారంభించింది?

Options :

1. ✖ 2005

2. ✓ 1991
3. ✗ 1950
4. ✗ 2022

Question Number : 63 Question Id : 630680219986 Question Type : MCQ Option Shuffling : Yes Is Question Mandatory : No Calculator : None Response Time : N.A Think Time : N.A Minimum Instruction Time : 0 Negative Marks Display Text : 0.0 Correct Marks : 1 Wrong Marks : 0

Which of the following is NOT an advantage of privatisation in the Indian Economy?

Options :

1. ✗ Improves government fiscal health
2. ✗ Generates more wealth leading to overall economic growth
3. ✓ Wasteful spending, borrowings are increased
4. ✗ Attraction to foreign investments

Question Number : 63 Question Id : 630680219986 Question Type : MCQ Option Shuffling : Yes Is Question Mandatory : No Calculator : None Response Time : N.A Think Time : N.A Minimum Instruction Time : 0 Negative Marks Display Text : 0.0 Correct Marks : 1 Wrong Marks : 0

ఈ క్రింది వాటిలో ఏది భారతీయ ఆర్థిక వ్యవస్థలో ప్రైవేటీకరణ యొక్క ప్రయోజనం కాదు?

Options :

1. ✗ ప్రభుత్వ ఆర్థిక ఆరోగ్యాన్ని మెరుగుపరుస్తుంది
2. ✗ మొత్తం ఆర్థిక వృద్ధికి దారితీసే మరింత సంపదను ఉత్పత్తి చేస్తుంది
3. ✓ వృధా ఖర్చులు, అప్పులు పెరుగుతాయి
4. ✗ విదేశీ పెట్టుబడులను ఆకర్షిస్తుంది

Question Number : 64 Question Id : 630680219987 Question Type : MCQ Option Shuffling : Yes Is Question Mandatory : No Calculator : None Response Time : N.A Think Time : N.A Minimum Instruction Time : 0 Negative Marks Display Text : 0.0 Correct Marks : 1 Wrong Marks : 0

In which of the following five year plans Panchayati Raj Institutions were activated?

Options :

1. ✗ First
2. ✗ Second
3. ✓ Third
4. ✗ Fourth

Question Number : 64 Question Id : 630680219987 Question Type : MCQ Option Shuffling : Yes Is Question Mandatory : No Calculator : None Response Time : N.A Think Time : N.A Minimum Instruction Time : 0 Negative Marks Display Text : 0.0 Correct Marks : 1 Wrong Marks : 0

ఈ క్రింది ఏ పంచవర్ష ప్రణాళికలో పంచాయతీ రాజ్ సంస్థలు సక్రియం చేయబడ్డాయి?

Options :

1. ✗ మొదటి
2. ✗ రెండవ
3. ✓ మూడవ
4. ✗ నాల్గవ

Question Number : 65 Question Id : 630680219988 Question Type : MCQ Option Shuffling : Yes Is Question Mandatory : No Calculator : None Response Time : N.A Think Time : N.A Minimum Instruction Time : 0 Negative Marks Display Text : 0.0 Correct Marks : 1 Wrong Marks : 0

The first phase of the green revolution was approximately _____.

Options :

1. ✗ mid 1950s upto mid 1960s
2. ✓ mid 1960s upto mid 1970s
3. ✗ mid 1970s upto mid 1980s

4. ✖ mid 1980s upto mid 1990s

Question Number : 65 Question Id : 630680219988 Question Type : MCQ Option Shuffling : Yes Is Question Mandatory : No
 Calculator : None Response Time : N.A Think Time : N.A Minimum Instruction Time : 0 Negative Marks Display Text : 0.0
 Correct Marks : 1 Wrong Marks : 0

హరిత విప్లవం యొక్క మొదటి దశ సుమారుగా _____.

Options :

1. ✖ 1950ల మధ్య నుండి 1960ల మధ్య వరకు
2. ✔ 1960ల మధ్య నుండి 1970ల మధ్య వరకు
3. ✖ 1970ల మధ్య నుండి 1980ల మధ్య వరకు
4. ✖ 1980ల మధ్య నుండి 1990ల మధ్య వరకు

Question Number : 66 Question Id : 630680219989 Question Type : MCQ Option Shuffling : Yes Is Question Mandatory : No
 Calculator : None Response Time : N.A Think Time : N.A Minimum Instruction Time : 0 Negative Marks Display Text : 0.0
 Correct Marks : 1 Wrong Marks : 0

Which of the following is NOT a benefit of Green Revolution in India?

Options :

1. ✔ Decrease in food grain production
2. ✖ Increase in farmers' earnings
3. ✖ Industry growth
4. ✖ Less dependency on imports

Question Number : 66 Question Id : 630680219989 Question Type : MCQ Option Shuffling : Yes Is Question Mandatory : No
 Calculator : None Response Time : N.A Think Time : N.A Minimum Instruction Time : 0 Negative Marks Display Text : 0.0
 Correct Marks : 1 Wrong Marks : 0

కింది వాటిలో భారతదేశంలో హరిత విప్లవం వల్ల ప్రయోజనం కానిది ఏది?

Options :

1. ✔ ఆహార ధాన్యాల ఉత్పత్తిలో తగ్గుదల
2. ✖ రైతుల ఆదాయాల పెంపు
3. ✖ పరిశ్రమ వృద్ధి
4. ✖ దిగుమతులపై తక్కువ ఆధారపడటం

Question Number : 67 Question Id : 630680219990 Question Type : MCQ Option Shuffling : Yes Is Question Mandatory : No
 Calculator : None Response Time : N.A Think Time : N.A Minimum Instruction Time : 0 Negative Marks Display Text : 0.0
 Correct Marks : 1 Wrong Marks : 0

Who among the following headed the five -member committee formed by Government of India to look into the statehood demand of Telangana in February 2010?

Options :

1. ✖ Justice Vivian Bose
2. ✖ Justice B. Jagannadhadas
3. ✔ Justice Srikrishna
4. ✖ Justice J.L. Kapur

Question Number : 67 Question Id : 630680219990 Question Type : MCQ Option Shuffling : Yes Is Question Mandatory : No
 Calculator : None Response Time : N.A Think Time : N.A Minimum Instruction Time : 0 Negative Marks Display Text : 0.0
 Correct Marks : 1 Wrong Marks : 0

ఫిబ్రవరి 2010 లో తెలంగాణ రాష్ట్ర ఏర్పాటు డిమాండ్‌ను పరిశీలించేందుకు భారత ప్రభుత్వం ఏర్పాటు చేసిన ఐదుగురు సభ్యుల కమిటీకి కింది వారిలో ఎవరు నేతృత్వం వహించారు?

Options :

1. ✖ జస్టిస్ వివియన్ బోస్
2. ✖ జస్టిస్ బి. జగన్నాధదాస్
3. ✔ జస్టిస్ శ్రీకృష్ణ
4. ✖ జస్టిస్ J.L. కపూర్

Question Number : 68 Question Id : 630680219991 Question Type : MCQ Option Shuffling : Yes Is Question Mandatory : No Calculator : None Response Time : N.A Think Time : N.A Minimum Instruction Time : 0 Negative Marks Display Text : 0.0 Correct Marks : 1 Wrong Marks : 0

Arrange the following objectives in order to reduce social exclusion and right issues in India in chronological order:

1. Conceptualize discrimination, exclusion and inclusion based on caste/ethnicity and religion.
2. Develop understanding of the nature and dynamics of discrimination and exclusion
3. Develop an understanding of discrimination at an empirical level.
4. Contextualize and problematizing discrimination, exclusion and inclusion.
5. Formulate policies for protecting the rights of these groups and eradicating the problem of exclusion and discrimination.

Options :

1. ✘ 1, 2, 3, 4, 5
2. ✔ 1, 2, 4, 3, 5
3. ✘ 5, 4, 3, 2, 1
4. ✘ 3, 1, 2, 5, 4

Question Number : 68 Question Id : 630680219991 Question Type : MCQ Option Shuffling : Yes Is Question Mandatory : No Calculator : None Response Time : N.A Think Time : N.A Minimum Instruction Time : 0 Negative Marks Display Text : 0.0 Correct Marks : 1 Wrong Marks : 0

భారతదేశంలో సామాజిక బహిష్కరణ మరియు హక్కుల సమస్యలను కాలక్రమానుసారం తగ్గించే దిశలో ఈ క్రింది లక్ష్యాలను ఏర్పాటు చేయండి:

1. కులం/జాతి మరియు మతం ఆధారంగా వివక్ష, మినహాయింపు మరియు చేరికలను సంభావితం చేయడం.
2. వివక్ష మరియు మినహాయింపు యొక్క స్వభావం మరియు డైనమిక్స్ యొక్క అవగాహనను అభివృద్ధి చేయడం
3. అనుభవాత్మక స్థాయిలో వివక్షపై అవగాహన పెంచడం.
4. వివక్ష, మినహాయింపు మరియు చేరికను సందర్భోచితంగా మరియు సమస్యాత్మకంగా మార్చడం.
5. ఈ సమూహాల హక్కులను పరిరక్షించడానికి మరియు మినహాయింపు మరియు వివక్ష సమస్యను నిర్మూలించడానికి విధానాలను రూపొందించడం.

Options :

1. ✘ 1, 2, 3, 4, 5
2. ✔ 1, 2, 4, 3, 5
3. ✘ 5, 4, 3, 2, 1
4. ✘ 3, 1, 2, 5, 4

Question Number : 69 Question Id : 630680219992 Question Type : MCQ Option Shuffling : Yes Is Question Mandatory : No Calculator : None Response Time : N.A Think Time : N.A Minimum Instruction Time : 0 Negative Marks Display Text : 0.0 Correct Marks : 1 Wrong Marks : 0

Which of the following is NOT a principle that serve as the foundation for laying of the policies towards the tribals?

Options :

1. ✔ Tribal rights on land and forests shall be not respected.
2. ✘ Try to train and build-up a team of their own people to do the work of administration and development.
3. ✘ Do not over-administer these areas or overwhelm them with a multiplicity of schemes.
4. ✘ Encourage in every way their traditional arts and culture.

Question Number : 69 Question Id : 630680219992 Question Type : MCQ Option Shuffling : Yes Is Question Mandatory : No Calculator : None Response Time : N.A Think Time : N.A Minimum Instruction Time : 0 Negative Marks Display Text : 0.0 Correct Marks : 1 Wrong Marks : 0

ఈ క్రింది వాటిలో ఏది గిరిజనుల పట్ల విధానాలను రూపొందించడానికి ఆధారంగా ఉపయోగపడే మూలసూత్రం కాదు?

Options :

1. ✔ భూమి మరియు అడవులపై గిరిజనుల హక్కులు ఆదరించబడవు.
2. ✘ పరిపాలన మరియు అభివృద్ధి చేయడానికి వారి స్వంత వ్యక్తుల బృందానికి శిక్షణ ఇవ్వడానికి మరియు నిర్మించడానికి ప్రయత్నం.
3. ✘ ఈ ప్రాంతాలను ఎక్కువగా నిర్వహించవద్దు లేదా అనేక పథకాలతో వాటిని అధిగమించవద్దు.
4. ✘ వారి సంప్రదాయ కళలు మరియు సంస్కృతిని అన్ని విధాలుగా ప్రోత్సహించడం.

Question Number : 70 Question Id : 630680219993 Question Type : MCQ Option Shuffling : Yes Is Question Mandatory : No Calculator : None Response Time : N.A Think Time : N.A Minimum Instruction Time : 0 Negative Marks Display Text : 0.0

Correct Marks : 1 Wrong Marks : 0

What percentage range of the total differently abled persons constitutes of Women in India as per Census 2011?

Options :

1. ✘ 10-20
2. ✘ 1-10
3. ✔ 40-50
4. ✘ 90-100

Question Number : 70 Question Id : 630680219993 Question Type : MCQ Option Shuffling : Yes Is Question Mandatory : No Calculator : None Response Time : N.A Think Time : N.A Minimum Instruction Time : 0 Negative Marks Display Text : 0.0

Correct Marks : 1 Wrong Marks : 0

2011 జనాభా లెక్కల ప్రకారం, భారతదేశంలో మొత్తం విభిన్న సామర్థ్యం గల వ్యక్తులలో (దివ్యాంగులలో) ఎంత శాతం మహిళలు ఉన్నారు?

Options :

1. ✘ 10-20
2. ✘ 1-10
3. ✔ 40-50
4. ✘ 90-100

Question Number : 71 Question Id : 630680219994 Question Type : MCQ Option Shuffling : Yes Is Question Mandatory : No Calculator : None Response Time : N.A Think Time : N.A Minimum Instruction Time : 0 Negative Marks Display Text : 0.0

Correct Marks : 1 Wrong Marks : 0

Telangana is the Only State in entire Southern India with vast deposits of _____.

Options :

1. ✔ Coal
2. ✘ Crude Oil
3. ✘ Lithium
4. ✘ Hematite

Question Number : 71 Question Id : 630680219994 Question Type : MCQ Option Shuffling : Yes Is Question Mandatory : No Calculator : None Response Time : N.A Think Time : N.A Minimum Instruction Time : 0 Negative Marks Display Text : 0.0

Correct Marks : 1 Wrong Marks : 0

దక్షిణ భారతదేశం మొత్తంలో విస్తారమైన _____ నిక్షేపములను కలిగి ఉన్న ఏకైక రాష్ట్రం తెలంగాణ.

Options :

1. ✔ బొగ్గు
2. ✘ ముడి చమురు
3. ✘ లిథియం
4. ✘ హెమటైట్

Question Number : 72 Question Id : 630680219995 Question Type : MCQ Option Shuffling : Yes Is Question Mandatory : No Calculator : None Response Time : N.A Think Time : N.A Minimum Instruction Time : 0 Negative Marks Display Text : 0.0

Correct Marks : 1 Wrong Marks : 0

What is the literacy rate of Telangana as on February 2023?

Options :

1. ✘ 50.23%
2. ✘ 57.86%
3. ✔ 66.54%
4. ✘ 70.12%

Question Number : 72 Question Id : 630680219995 Question Type : MCQ Option Shuffling : Yes Is Question Mandatory : No Calculator : None Response Time : N.A Think Time : N.A Minimum Instruction Time : 0 Negative Marks Display Text : 0.0

Correct Marks : 1 Wrong Marks : 0

ఫిబ్రవరి 2023 నాటికి తెలంగాణ అక్షరాస్యత రేటు ఎంత?

Options :

1. ✘ 50.23%
2. ✘ 57.86%
3. ✔ 66.54%
4. ✘ 70.12%

Question Number : 73 Question Id : 630680219996 Question Type : MCQ Option Shuffling : Yes Is Question Mandatory : No Calculator : None Response Time : N.A Think Time : N.A Minimum Instruction Time : 0 Negative Marks Display Text : 0.0

Correct Marks : 1 Wrong Marks : 0

Which one of the following statement/statements is/are CORRECT?

- A. Telangana has 2 main rivers Godavari and Krishna.
- B. Both the rivers flow from East to West.

Options :

1. ✔ Only A is correct
2. ✘ Only B is correct
3. ✘ Both A and B are correct
4. ✘ Neither A nor B are correct

Question Number : 73 Question Id : 630680219996 Question Type : MCQ Option Shuffling : Yes Is Question Mandatory : No Calculator : None Response Time : N.A Think Time : N.A Minimum Instruction Time : 0 Negative Marks Display Text : 0.0

Correct Marks : 1 Wrong Marks : 0

కింది వాక్యము/లలో ఏది/వి సరైనది/వి?

- A. తెలంగాణలో 2 ప్రధాన నదులు గోదావరి మరియు కృష్ణా.
- B. రెండు నదులూ తూర్పు నుండి పడమరకు ప్రవహిస్తాయి.

Options :

1. ✔ A మాత్రమే సరైనది
2. ✘ B మాత్రమే సరైనది
3. ✘ A మరియు B లు రెండూ సరైనవి
4. ✘ A కానీ లేదా B కానీ ఏదీ సరైనది కాదు

Question Number : 74 Question Id : 630680219997 Question Type : MCQ Option Shuffling : Yes Is Question Mandatory : No Calculator : None Response Time : N.A Think Time : N.A Minimum Instruction Time : 0 Negative Marks Display Text : 0.0

Correct Marks : 1 Wrong Marks : 0

Which one of the following statement/statements is/are TRUE about the Forest vegetation of Telangana State?

- A. The Geographical area of Telangana State has 33% of notified forest area as on March 2023.
- B. Dry Teak Forest and Southern Dry Mixed Deciduous Forest are two major types of forests that Telangana has.
- C. Amrabad Tiger Reserve and the Kawal Tiger Reserve are notified as two Tiger reserves in the state.
- D. Ranga Reddy has the lowest of 758.87 Km² notified forest area in the State.

Options :

1. ✘ Only A and B
2. ✘ Only A and D
3. ✘ Only A
4. ✔ Only B, C and D

Question Number : 74 Question Id : 630680219997 Question Type : MCQ Option Shuffling : Yes Is Question Mandatory : No Calculator : None Response Time : N.A Think Time : N.A Minimum Instruction Time : 0 Negative Marks Display Text : 0.0

Correct Marks : 1 Wrong Marks : 0

తెలంగాణ రాష్ట్రంలోని అటవీ వృక్షసంపద గురించిన కింది వాక్యము/లలో ఏది/వి నిజం?

- A. మార్చి 2023 నాటికి తెలంగాణ రాష్ట్ర భౌగోళిక ప్రాంతంలో 33% ప్రకటిత అటవీ ప్రాంతం గుర్తించబడింది.
- B. తెలంగాణలో రెండు ప్రధాన రకాల అడవులు ఉన్నాయి, అవి పొడి తేకు అడవి మరియు దక్షిణ పొడి మిశ్రమ ఆకురాల్చు అడవి.

- C. అమాబాద్ టైగర్ రిజర్వ్ మరియు కవాల్ టైగర్ రిజర్వ్ అనునవి రాష్ట్రంలోని రెండు టైగర్ రిజర్వ్లుగా గుర్తించబడ్డాయి.
D. రాష్ట్రంలో 758.87 Km² గుర్తించబడిన అతి తక్కువ అటవీ ప్రాంతాన్ని కలిగి ఉన్నది రంగా రెడ్డి.

Options :

1. ✖ A మరియు B లు మాత్రమే
2. ✖ A మరియు D లు మాత్రమే
3. ✖ A మాత్రమే
4. ✔ B, C మరియు D లు మాత్రమే

Question Number : 75 Question Id : 630680219998 Question Type : MCQ Option Shuffling : Yes Is Question Mandatory : No Calculator : None Response Time : N.A Think Time : N.A Minimum Instruction Time : 0 Negative Marks Display Text : 0.0 Correct Marks : 1 Wrong Marks : 0

In 2020-21, Telangana was the _____ highest contributor to the country's GDP at both current prices and constant prices.

Options :

1. ✖ Third
2. ✖ Fourth
3. ✔ Sixth
4. ✖ Ninth

Question Number : 75 Question Id : 630680219998 Question Type : MCQ Option Shuffling : Yes Is Question Mandatory : No Calculator : None Response Time : N.A Think Time : N.A Minimum Instruction Time : 0 Negative Marks Display Text : 0.0 Correct Marks : 1 Wrong Marks : 0

2020-21లో, ప్రస్తుత ధరలు మరియు స్థిరమైన ధరలు రెండింటిలోనూ దేశం యొక్క GDPకి తెలంగాణ _____ అత్యధిక వాటాను అందించింది.

Options :

1. ✖ మూడవ
2. ✖ నాలుగవ
3. ✔ ఆరవ
4. ✖ తొమ్మిదవ

Question Number : 76 Question Id : 630680219999 Question Type : MCQ Option Shuffling : Yes Is Question Mandatory : No Calculator : None Response Time : N.A Think Time : N.A Minimum Instruction Time : 0 Negative Marks Display Text : 0.0 Correct Marks : 1 Wrong Marks : 0

As per agricultural action plan of Telangana 2016-2017 about 55.49% of state's population in Telangana is dependent on _____ for their livelihoods.

Options :

1. ✖ manufacturing and allied sectors
2. ✖ information technology enabled services
3. ✔ agriculture and allied sectors
4. ✖ transport and allied sectors

Question Number : 76 Question Id : 630680219999 Question Type : MCQ Option Shuffling : Yes Is Question Mandatory : No Calculator : None Response Time : N.A Think Time : N.A Minimum Instruction Time : 0 Negative Marks Display Text : 0.0 Correct Marks : 1 Wrong Marks : 0

2016-2017 తెలంగాణ వ్యవసాయ కార్యచరణ ప్రణాళిక ప్రకారం తెలంగాణ రాష్ట్ర జనాభాలో 55.49% మంది తమ జీవనోపాధి కొరకు _____ పై ఆధారపడి ఉన్నారు.

Options :

1. ✖ ఉత్పత్తి మరియు అనుబంధ రంగాలు
2. ✖ సమాచార సాంకేతికత క్రియాశీల సేవలు
3. ✔ వ్యవసాయం మరియు అనుబంధ రంగాలు
4. ✖ రవాణా మరియు అనుబంధ రంగాలు

Question Number : 77 Question Id : 630680220000 Question Type : MCQ Option Shuffling : Yes Is Question Mandatory : No Calculator : None Response Time : N.A Think Time : N.A Minimum Instruction Time : 0 Negative Marks Display Text : 0.0

Correct Marks : 1 Wrong Marks : 0

Which one of the following festival of Telangana means 'Mother Goddess come Alive', and is celebrated towards the end of monsoon and heralds the abundance that nature has to offer?

Options :

1. ✘ Adoor Gajamela
2. ✘ Attukal Pongala
3. ✔ Bathukamma
4. ✘ Vishu

Question Number : 77 Question Id : 630680220000 Question Type : MCQ Option Shuffling : Yes Is Question Mandatory : No Calculator : None Response Time : N.A Think Time : N.A Minimum Instruction Time : 0 Negative Marks Display Text : 0.0

Correct Marks : 1 Wrong Marks : 0

తెలంగాణలోని ఈ క్రింది పండుగలలో 'తల్లి దేవత సజీవంగా వచ్చింది' అను అర్థం గల మరియు రుతుపవనాల ముగింపు సమయంలో జరుపుకొనే మరియు ప్రకృతి అందించే సంపదను తెలియజేసే పండుగ ఏది?

Options :

1. ✘ అదూర్ గజమేళ
2. ✘ అట్టుకల్ పొంగళ
3. ✔ బతుకమ్మ
4. ✘ విషు

Question Number : 78 Question Id : 630680220001 Question Type : MCQ Option Shuffling : Yes Is Question Mandatory : No Calculator : None Response Time : N.A Think Time : N.A Minimum Instruction Time : 0 Negative Marks Display Text : 0.0

Correct Marks : 1 Wrong Marks : 0

Which Goddess is worshipped in Bonalu a Hindu Festival, celebrated during the Telugu month of Ashadam?

Options :

1. ✘ Goddess Saraswati
2. ✘ Goddess Lakshmi
3. ✘ Goddess Durga
4. ✔ Goddess Mahakali

Question Number : 78 Question Id : 630680220001 Question Type : MCQ Option Shuffling : Yes Is Question Mandatory : No Calculator : None Response Time : N.A Think Time : N.A Minimum Instruction Time : 0 Negative Marks Display Text : 0.0

Correct Marks : 1 Wrong Marks : 0

తెలుగు నెల ఆషాఢమాసంలో జరుపుకునే బోనాలు అను హిందూ పండుగలో ఏ దేవతను పూజిస్తారు?

Options :

1. ✘ సరస్వతీ దేవి
2. ✘ లక్ష్మీదేవి
3. ✘ దుర్గాదేవి
4. ✔ మహాకాళి దేవత

Question Number : 79 Question Id : 630680220002 Question Type : MCQ Option Shuffling : Yes Is Question Mandatory : No Calculator : None Response Time : N.A Think Time : N.A Minimum Instruction Time : 0 Negative Marks Display Text : 0.0

Correct Marks : 1 Wrong Marks : 0

The origin of the Nirmal craft of Telangana is traced back to the _____.

Options :

1. ✘ Chola Era
2. ✘ Chalukya Era
3. ✘ Pala Era
4. ✔ Kakatiya Era

Question Number : 79 Question Id : 630680220002 Question Type : MCQ Option Shuffling : Yes Is Question Mandatory : No Calculator : None Response Time : N.A Think Time : N.A Minimum Instruction Time : 0 Negative Marks Display Text : 0.0

Correct Marks : 1 Wrong Marks : 0

తెలంగాణలోని నిర్మల్ హస్త కళల యొక్క మూలం _____ నాటిది.

Options :

1. ✖ చోళ శకం
2. ✖ చాళుక్యుల శకం
3. ✖ పాల శకం
4. ✔ కాకతీయ శకం

Question Number : 80 Question Id : 630680220003 Question Type : MCQ Option Shuffling : Yes Is Question Mandatory : No Calculator : None Response Time : N.A Think Time : N.A Minimum Instruction Time : 0 Negative Marks Display Text : 0.0 Correct Marks : 1 Wrong Marks : 0

Which day is celebrated as 'Telangana Language Day' each year?

Options :

1. ✖ 15th August
2. ✔ 9th September
3. ✖ 14th October
4. ✖ 10th November

Question Number : 80 Question Id : 630680220003 Question Type : MCQ Option Shuffling : Yes Is Question Mandatory : No Calculator : None Response Time : N.A Think Time : N.A Minimum Instruction Time : 0 Negative Marks Display Text : 0.0 Correct Marks : 1 Wrong Marks : 0

ప్రతి సంవత్సరం 'తెలంగాణ భాషా దినోత్సవం'గా ఏ రోజును జరుపుకుంటారు?

Options :

1. ✖ ఆగస్టు 15
2. ✔ సెప్టెంబరు 9
3. ✖ అక్టోబరు 14
4. ✖ నవంబరు 10

Question Number : 81 Question Id : 630680220004 Question Type : MCQ Option Shuffling : Yes Is Question Mandatory : No Calculator : None Response Time : N.A Think Time : N.A Minimum Instruction Time : 0 Negative Marks Display Text : 0.0 Correct Marks : 1 Wrong Marks : 0

Which one of the following statement/statements is /are CORRECT about heritage sites of Telangana?

- A. Golconda Fort was originally known as Mankal and built on a hilltop in the year 1143.
- B. Khammam fort was constructed in the 950s AD by the glorious Kakatiya rulers Later Velama and Musunuri Nayak kings were also involved in its construction.

Options :

1. ✖ Only A is correct
2. ✔ Both A and B are Correct
3. ✖ Neither A nor B are correct
4. ✖ Only B is correct

Question Number : 81 Question Id : 630680220004 Question Type : MCQ Option Shuffling : Yes Is Question Mandatory : No Calculator : None Response Time : N.A Think Time : N.A Minimum Instruction Time : 0 Negative Marks Display Text : 0.0 Correct Marks : 1 Wrong Marks : 0

తెలంగాణ వారసత్వ సంపద ప్రదేశాలకు సంబంధించి ఈ కింది వాక్యము/లలో ఏది/వి సరైనది/వి?

- A. గోల్కొండ కోటకు అసలు పేరు మంకాల్ మరియు దానిని 1143లో ఒక కొండపైన నిర్మించారు.
- B. ఖమ్మం కోట 950 AD లో కాకతీయ పాలకులచే నిర్మించబడింది, ఆ తరువాత వెలమ మరియు ముసునూరి నాయక్ అను ప్రసిద్ధ రాజులు కూడా దీని నిర్మాణంలో పాల్గొన్నారు.

Options :

1. ✖ A మాత్రమే సరైనది
2. ✔ A మరియు B లు రెండూ సరైనవి
3. ✖ A కానీ లేదా B కానీ ఏదీ సరైనది కాదు
4. ✖ B మాత్రమే సరైనది

Question Number : 82 Question Id : 630680220005 Question Type : MCQ Option Shuffling : Yes Is Question Mandatory : No Calculator : None Response Time : N.A Think Time : N.A Minimum Instruction Time : 0 Negative Marks Display Text : 0.0

Correct Marks : 1 Wrong Marks : 0

which one of the following pair/pairs is /are TRUE about state symbols of Telangana?

- A. The State Bird - Varaiyaadu (Common Emerald Dove).
- B. The State Animal - Jinka (Deer).
- C. The State Tree - Jammi Chettu (Prosopis Cineraria).
- D. The State Flower - Kopou Phool (Foxtail Orchid).

Options :

- 1. ✘ Only And B
- 2. ✔ Only B and C
- 3. ✘ Only C and D
- 4. ✘ Only A and D

Question Number : 82 Question Id : 630680220005 Question Type : MCQ Option Shuffling : Yes Is Question Mandatory : No Calculator : None Response Time : N.A Think Time : N.A Minimum Instruction Time : 0 Negative Marks Display Text : 0.0

Correct Marks : 1 Wrong Marks : 0

తెలంగాణ రాష్ట్ర చిహ్నాల గురించిన కింది జత/జతలలో ఏది/వి నిజం?

- A. రాష్ట్ర పక్షి - వరైయాడు (సాధారణ మరకత పావురం).
- B. రాష్ట్ర జంతువు - జింకా (డీర్).
- C. రాష్ట్ర చెట్టు - జమ్మి చెట్టు (ప్రోసోపిస్ సినెరియా).
- D. రాష్ట్ర పుష్పం - కోపా ఫూల్ (ఫాక్స్ టైల్ ఆర్కిడ్).

Options :

- 1. ✘ A మరియు B లు మాత్రమే
- 2. ✔ B మరియు C లు మాత్రమే
- 3. ✘ C మరియు D లు మాత్రమే
- 4. ✘ A మరియు D లు మాత్రమే

Question Number : 83 Question Id : 630680220006 Question Type : MCQ Option Shuffling : Yes Is Question Mandatory : No Calculator : None Response Time : N.A Think Time : N.A Minimum Instruction Time : 0 Negative Marks Display Text : 0.0

Correct Marks : 1 Wrong Marks : 0

Match the Heritage sites in List I to the location in List II:

Sl No.	List I-Heritage	Sl No.	List II-Location
A.	Chowmahalla Palace	i	Yadadri Bhuvanagiri
B.	Bhuvanagiri Fort	ii	Karimnagar
C.	Elgandla Fort	iii	Warrangal
D.	Ramappa Temple	iv	Hyderabad

Options :

- 1. ✘ A-i, B-iv, C-ii, D-iii
- 2. ✘ A-iii, B-i, C-ii, D-iv
- 3. ✔ A-iv, B-i, C-ii, D-iii
- 4. ✘ A-iv, B-ii, C-i, D-iii

Question Number : 83 Question Id : 630680220006 Question Type : MCQ Option Shuffling : Yes Is Question Mandatory : No Calculator : None Response Time : N.A Think Time : N.A Minimum Instruction Time : 0 Negative Marks Display Text : 0.0

Correct Marks : 1 Wrong Marks : 0

జాబితా I లోని సంస్కృతిక ప్రదేశాలను జాబితా II లోని ప్రదేశంతో జతపరచండి.

వ. సంఖ్య.	జాబితా I-సంస్కృతిక ప్రదేశాలు	వ. సంఖ్య.	జాబితా II-ప్రదేశం
A.	చౌమహల్లా ప్యాలెస్	i	యాదాద్రి శువనగిరి
B.	శువనగిరి కోట	ii	కరీంనగర్
C.	ఎలగండల్ కోట	iii	వరంగల్
D.	రామప్ప దేవాలయం	iv	హైదరాబాదు

Options :

1. ✘ A-i, B-iv, C-ii, D-iii
2. ✘ A-iii, B-i, C-ii, D-iv
3. ✔ A-iv, B-i, C-ii, D-iii
4. ✘ A-iv, B-ii, C-i, D-iii

Question Number : 84 Question Id : 630680220007 Question Type : MCQ Option Shuffling : Yes Is Question Mandatory : No Calculator : None Response Time : N.A Think Time : N.A Minimum Instruction Time : 0 Negative Marks Display Text : 0.0 Correct Marks : 1 Wrong Marks : 0

Identify the CORRECT Pair of literary work and author from Telangana:

Options :

1. ✔ Sivayogasaramu - Kolanu Ganapatideva
2. ✘ Nrittaratnavali - Gona Budha Reddy
3. ✘ Nitisastramukthavali - Vidyanaadha
4. ✘ Prataparudriyam - Baddena

Question Number : 84 Question Id : 630680220007 Question Type : MCQ Option Shuffling : Yes Is Question Mandatory : No Calculator : None Response Time : N.A Think Time : N.A Minimum Instruction Time : 0 Negative Marks Display Text : 0.0 Correct Marks : 1 Wrong Marks : 0

తెలంగాణ నుండి సాహిత్య రచన మరియు రచయిత యొక్క సరైన జతను గుర్తించండి:

Options :

1. ✔ శివయోగసారము - కొలను గణపతిదేవుడు
2. ✘ నృతరత్నావళి - గోన బుద్ధా రెడ్డి
3. ✘ నీతిశాస్త్ర ముక్తావళి - విద్యానాధుడు
4. ✘ ప్రతాపరుద్రీయం - బద్దెన

Question Number : 85 Question Id : 630680220008 Question Type : MCQ Option Shuffling : Yes Is Question Mandatory : No Calculator : None Response Time : N.A Think Time : N.A Minimum Instruction Time : 0 Negative Marks Display Text : 0.0 Correct Marks : 1 Wrong Marks : 0

Arrange the following festivals in chronological order of their celebration from January to December in a year.

- A. Batukamma
- B. Bonalu
- C. Sankranti
- D. Ugadi

Options :

1. ✔ C-D-B-A
2. ✘ A-B-C-D
3. ✘ D-C-B-A
4. ✘ B-A-C-D

Question Number : 85 Question Id : 630680220008 Question Type : MCQ Option Shuffling : Yes Is Question Mandatory : No Calculator : None Response Time : N.A Think Time : N.A Minimum Instruction Time : 0 Negative Marks Display Text : 0.0 Correct Marks : 1 Wrong Marks : 0

సంవత్సరంలో జనవరి నుండి డిసెంబర్ వరకు పండుగలను జరుపుకునే కాలక్రమానుసారం వాటిని అమర్చండి:

- A. బతుకమ్మ
B. బోనాలు
C. సంక్రాంతి
D. ఊగాది

Options :

1. ✓ C-D-B-A
2. ✗ A-B-C-D
3. ✗ D-C-B-A
4. ✗ B-A-C-D

Question Number : 86 Question Id : 630680220009 Question Type : MCQ Option Shuffling : Yes Is Question Mandatory : No Calculator : None Response Time : N.A Think Time : N.A Minimum Instruction Time : 0 Negative Marks Display Text : 0.0

Correct Marks : 1 Wrong Marks : 0

In which year was 'Mana ooru - Mana badi' programme aimed at all round development and creation of effective infrastructure in schools across the State by setting up digital classrooms launched in Telangana?

Options :

1. ✗ 2019
2. ✗ 2020
3. ✗ 2021
4. ✓ 2022

Question Number : 86 Question Id : 630680220009 Question Type : MCQ Option Shuffling : Yes Is Question Mandatory : No Calculator : None Response Time : N.A Think Time : N.A Minimum Instruction Time : 0 Negative Marks Display Text : 0.0

Correct Marks : 1 Wrong Marks : 0

తెలంగాణలో డిజిటల్ క్లాస్ రూమ్లను ఏర్పాటు చేయడం ద్వారా రాష్ట్రవ్యాప్తంగా గల పాఠశాలల్లో సర్వతోముఖాభివృద్ధి మరియు సమర్థవంతమైన మౌలిక సదుపాయాలను కల్పించాలని ఏ సంవత్సరంలో 'మన ఊరు - మన బడి' అను కార్యక్రమం లక్ష్యంగా పెట్టుకుంది?

Options :

1. ✗ 2019
2. ✗ 2020
3. ✗ 2021
4. ✓ 2022

Question Number : 87 Question Id : 630680220010 Question Type : MCQ Option Shuffling : Yes Is Question Mandatory : No Calculator : None Response Time : N.A Think Time : N.A Minimum Instruction Time : 0 Negative Marks Display Text : 0.0

Correct Marks : 1 Wrong Marks : 0

Which one of the following statement /statements is/are CORRECT about 'Mission Kakatiya' of Telangana Government?

- A. A flagship programme of the government aimed at restoring around 46,000 tanks in five years.
B. Mission Kakatiya is aimed at reducing the power consumption by farm sector, getting higher yields, and rejuvenating rural economy on a whole

Options :

1. ✗ Only A is correct
2. ✓ Both A and B is correct
3. ✗ Only B is correct
4. ✗ Neither A nor B is correct

Question Number : 87 Question Id : 630680220010 Question Type : MCQ Option Shuffling : Yes Is Question Mandatory : No Calculator : None Response Time : N.A Think Time : N.A Minimum Instruction Time : 0 Negative Marks Display Text : 0.0

Correct Marks : 1 Wrong Marks : 0

తెలంగాణ ప్రభుత్వం యొక్క 'మిషన్ కాకతీయ' గురించిన ఈ కింది వాక్యము/లలో ఏది/వి సరైనది/వి?

- A. ఐదేళ్లలో దాదాపు 46,000 ట్యాంకులను పునరుద్ధరించాలని ప్రభుత్వం యొక్క ఒక ప్రధాన కార్యక్రమం లక్ష్యంగా పెట్టుకుంది.
B. వ్యవసాయ రంగం ద్వారా విద్యుత్ వినియోగాన్ని తగ్గించడం, అధిక పంటలను పండించడం మరియు మొత్తానికి గ్రామీణ ఆర్థిక వ్యవస్థను పునరుద్ధరించడం మిషన్ కాకతీయ యొక్క లక్ష్యం.

Options :

1. ✘ A మాత్రమే సరైనది
2. ✔ A మరియు B లు రెండూ సరైనవి
3. ✘ B మాత్రమే సరైనది
4. ✘ A కానీ లేదా B కానీ ఏదీ సరైనది కాదు

Question Number : 88 Question Id : 630680220011 Question Type : MCQ Option Shuffling : Yes Is Question Mandatory : No Calculator : None Response Time : N.A Think Time : N.A Minimum Instruction Time : 0 Negative Marks Display Text : 0.0

Correct Marks : 1 Wrong Marks : 0

Which one of the following statement/statements is/are TRUE with respect to Telangana in 2021?

- A. Telangana ranked second overall in Niti Aayog's India Innovation Index 2021.
- B. It topped the performers' category.
- C. Higher education enrollments (per lakh population) in the State increased from 9.7 to 15.7.
- D. ICT labs in schools grew from 17 percent to 35 percent.

Options :

1. ✘ Only A and B
2. ✘ Only B and C
3. ✘ Only C
4. ✔ All A, B, C and D

Question Number : 88 Question Id : 630680220011 Question Type : MCQ Option Shuffling : Yes Is Question Mandatory : No Calculator : None Response Time : N.A Think Time : N.A Minimum Instruction Time : 0 Negative Marks Display Text : 0.0

Correct Marks : 1 Wrong Marks : 0

2021లో తెలంగాణకు సంబంధించి కింది వాక్యము/లలో ఏది/వి నిజం ?

- A. నీతి ఆయోగ్ ఇండియా ఇన్నోవేషన్ ఇండెక్స్ 2021లో తెలంగాణ రెండవ స్థానంలో నిలిచింది.
- B. ఇది ప్రదర్శకుల విభాగంలో అగ్రస్థానంలో నిలిచింది.
- C. రాష్ట్రంలో ఉన్నత విద్య నమోదులు (ప్రతి లక్ష జనాభాకు) 9.7 నుండి 15.7కి పెరిగాయి.
- D. పాఠశాలల్లో ICT ప్రయోగశాలలు 17 శాతం నుంచి 35 శాతానికి పెరిగాయి.

Options :

1. ✘ A మరియు B లు మాత్రమే
2. ✘ B మరియు C లు మాత్రమే
3. ✘ C మాత్రమే
4. ✔ A,B,C మరియు D లు అన్నీ

Question Number : 89 Question Id : 630680220012 Question Type : MCQ Option Shuffling : Yes Is Question Mandatory : No Calculator : None Response Time : N.A Think Time : N.A Minimum Instruction Time : 0 Negative Marks Display Text : 0.0

Correct Marks : 1 Wrong Marks : 0

Arrange the following schemes of Telangana Government in chronological order (i.e., from first to last) of their launch date:

- A. Arogya Lakshmi
- B. Kalyana Lakshmi/ Shaadi Mubarak
- C. TASK
- D. Rythu Bandhu

Options :

1. ✘ B-D-C-A
2. ✘ D-C-B-A
3. ✘ A-B-C-D
4. ✔ B-A-C-D

Question Number : 89 Question Id : 630680220012 Question Type : MCQ Option Shuffling : Yes Is Question Mandatory : No Calculator : None Response Time : N.A Think Time : N.A Minimum Instruction Time : 0 Negative Marks Display Text : 0.0

Correct Marks : 1 Wrong Marks : 0

తెలంగాణ ప్రభుత్వం యొక్క క్రింది పథకాలను వాటి ప్రారంభ తేదీల కాలక్రమానుసారంగా (మొదటి నుండి చివరి వరకు) అమర్చండి:

- A. ఆరోగ్య లక్ష్మి
- B. కల్యాణ లక్ష్మి/ షాదీ ముబారక్

C. TASK

D. రైతు బంధు

Options :

1. ✘ B-D-C-A
2. ✘ D-C-B-A
3. ✘ A-B-C-D
4. ✔ B-A-C-D

Question Number : 90 Question Id : 630680220013 Question Type : MCQ Option Shuffling : Yes Is Question Mandatory : No
 Calculator : None Response Time : N.A Think Time : N.A Minimum Instruction Time : 0 Negative Marks Display Text : 0.0
 Correct Marks : 1 Wrong Marks : 0

Match the Agricultural Schemes in List -I with their Key Features in List -II:

Sl No.	List I-Agricultural scheme	Sl No.	List II-Key features
A.	Rythu Bandhu Scheme (AISS)	i	To conserve natural resources;
B.	Soil Health Card Scheme (SHC)	ii	Strengthen Research-Extension-farmer (REF) Linkages.
C.	Rastriya Krishi Vikas Yojana (RKVY)	iii	Grant @ Rs.5000/
D.	Agriculture Technology Management Agency (ATMA)	iv	To maximize returns to the farmers

Options :

1. ✔ A-iii, B-i, C-iv, D-ii
2. ✘ A-i, B-iii, C-iv, D-ii
3. ✘ A-iii, B-i, C-ii, D-iv
4. ✘ A-iii, B-iv, C-i, D-ii

Question Number : 90 Question Id : 630680220013 Question Type : MCQ Option Shuffling : Yes Is Question Mandatory : No
 Calculator : None Response Time : N.A Think Time : N.A Minimum Instruction Time : 0 Negative Marks Display Text : 0.0
 Correct Marks : 1 Wrong Marks : 0

జాబితా -Iలోని వ్యవసాయ పథకాలను జాబితా -IIలోని వాటి కీలక లక్షణాలతో జతపరచండి.

ప సంఖ్య	జాబితా I-వ్యవసాయ పథకం	ప సంఖ్య	జాబితా II-కీలక లక్షణాలు
A.	రైతు బంధు పథకం (AISS)	i	సహజ వనరులను కాపాడుట
B.	మట్టి ఆరోగ్య కార్డు పథకం (సాయిల్ హెల్త్ కార్డు స్కీమ్ (SHC))	ii	పరిశోధన-విస్తరణ-రైతు (రిసర్చ్-ఎక్స్టెన్షన్-ఫార్మర్) (REF) అనుసంధానాలను బలోపేతం చేయడం.
C.	రాష్ట్రీయ కృషి వికాస యోజన (RKVY)	iii	@రూ 5000/ కి మంజూరు చేయడం.
D.	వ్యవసాయ సాంకేతిక నిర్వహణ సంస్థ (అగ్రికల్చర్ టెక్నాలజీ మేనేజ్మెంట్ ఏజెన్సీ - ATMA)	iv	రైతులకు రాబడులను గరిష్టంగా పెంచడం.

Options :

1. ✔ A-iii, B-i, C-iv, D-ii
2. ✘ A-i, B-iii, C-iv, D-ii
3. ✘ A-iii, B-i, C-ii, D-iv
4. ✘ A-iii, B-iv, C-i, D-ii

Question Number : 91 Question Id : 630680220014 Question Type : MCQ Option Shuffling : Yes Is Question Mandatory : No
 Calculator : None Response Time : N.A Think Time : N.A Minimum Instruction Time : 0 Negative Marks Display Text : 0.0

Correct Marks : 1 Wrong Marks : 0

Identify the CORRECT pair of infrastructure projects at Telangana:

Options :

1. ✓ The Solar Power Plant Telangana I - Mahbubnagar
2. ✗ Telangana Super Thermal Power Project - Adilabad
3. ✗ Singur Hydropower Project - Hanumakonda
4. ✗ Yadadri Ultra Mega Thermal Power Project - Jagtial

Question Number : 91 Question Id : 630680220014 Question Type : MCQ Option Shuffling : Yes Is Question Mandatory : No Calculator : None Response Time : N.A Think Time : N.A Minimum Instruction Time : 0 Negative Marks Display Text : 0.0

Correct Marks : 1 Wrong Marks : 0

తెలంగాణలోని మౌలిక సదుపాయాల ప్రాజెక్టుల సరైన జతను గుర్తించండి:

Options :

1. ✓ సోలార్ పవర్ ప్లాంట్ తెలంగాణ I - మహబూబ్ నగర్
2. ✗ తెలంగాణ సూపర్ థర్మల్ పవర్ ప్రాజెక్ట్ - ఆదిలాబాద్
3. ✗ సింగూర్ హైడ్రోపవర్ ప్రాజెక్టు - హనుమకొండ
4. ✗ యాదాద్రి అల్ట్రా మెగా థర్మల్ పవర్ ప్రాజెక్ట్ - జగిత్యాల

Question Number : 92 Question Id : 630680220015 Question Type : MCQ Option Shuffling : Yes Is Question Mandatory : No Calculator : None Response Time : N.A Think Time : N.A Minimum Instruction Time : 0 Negative Marks Display Text : 0.0

Correct Marks : 1 Wrong Marks : 0

Telangana has been ranked sixth in the country in the Sustainable Development Goals (SDG) Index India for the year 2020-2021. Rank the indicator in which the state got highest to lowest score:

- A. Clean water and sanitation
- B. Affordable and clean Energy
- C. Gender Equality
- D. Life on Land

Options :

1. ✗ C-A-B-D
2. ✓ B-A-D-C
3. ✗ A-B-C-D
4. ✗ D-A-B-C

Question Number : 92 Question Id : 630680220015 Question Type : MCQ Option Shuffling : Yes Is Question Mandatory : No Calculator : None Response Time : N.A Think Time : N.A Minimum Instruction Time : 0 Negative Marks Display Text : 0.0

Correct Marks : 1 Wrong Marks : 0

2020-2021 సంవత్సరానికి మన దేశ సస్టెయినబుల్ డెవలప్ మెంట్ గోల్స్ (SDG) ఇండెక్స్ ఇండియాలో తెలంగాణ ఆరవ స్థానంను పొందింది. రాష్ట్రానికి అత్యధిక స్కోరు నుండి అతి తక్కువ స్కోరు వచ్చిన సూచిక ప్రకారం ర్యాంక్ చేయండి:

- A. స్వచ్ఛమైన నీరు మరియు పారిశుధ్యం.
- B. సరసమైన మరియు స్వచ్ఛమైన శక్తి
- C. లింగ సమానత్వం
- D. నేలపై జీవనం

Options :

1. ✗ C-A-B-D
2. ✓ B-A-D-C
3. ✗ A-B-C-D
4. ✗ D-A-B-C

Question Number : 93 Question Id : 630680220016 Question Type : MCQ Option Shuffling : Yes Is Question Mandatory : No Calculator : None Response Time : N.A Think Time : N.A Minimum Instruction Time : 0 Negative Marks Display Text : 0.0

Correct Marks : 1 Wrong Marks : 0

Which disease is the Telangana government's pioneering initiative 'KCR Nutrition Kits' aimed at reducing?

Options :

1. ✗ Heart Disease

2. ✓ Anemia
3. ✗ Type 2 Diabetes
4. ✗ Obesity

Question Number : 93 Question Id : 630680220016 Question Type : MCQ Option Shuffling : Yes Is Question Mandatory : No Calculator : None Response Time : N.A Think Time : N.A Minimum Instruction Time : 0 Negative Marks Display Text : 0.0 Correct Marks : 1 Wrong Marks : 0

ఏ వ్యాధిని తగ్గించాలనే లక్ష్యంతో తెలంగాణ ప్రభుత్వం 'KCR న్యూట్రీషన్ కిట్స్' ను ప్రారంభించింది?

Options :

1. ✗ గుండె వ్యాధి
2. ✓ రక్తహీనత
3. ✗ టైప్ 2 మధుమేహం
4. ✗ ఊబకాయం

Question Number : 94 Question Id : 630680220017 Question Type : MCQ Option Shuffling : Yes Is Question Mandatory : No Calculator : None Response Time : N.A Think Time : N.A Minimum Instruction Time : 0 Negative Marks Display Text : 0.0 Correct Marks : 1 Wrong Marks : 0

On 17 September 1948, the Indian government conducted a military operation called Operation _____ to bring Hyderabad state into the Indian Union.

Options :

1. ✗ Steeplechase
2. ✗ Vijay
3. ✓ Polo
4. ✗ Woodrose

Question Number : 94 Question Id : 630680220017 Question Type : MCQ Option Shuffling : Yes Is Question Mandatory : No Calculator : None Response Time : N.A Think Time : N.A Minimum Instruction Time : 0 Negative Marks Display Text : 0.0 Correct Marks : 1 Wrong Marks : 0

హైదరాబాదు సంస్థానాన్ని భారత సమాఖ్యలోకి తీసుకురావడానికి భారత ప్రభుత్వం ఆపరేషన్ _____ అనే సైనిక చర్యను 1948 సెప్టెంబరు 17న నిర్వహించింది.

Options :

1. ✗ స్టీపుల్చేజ్
2. ✗ విజయ్
3. ✓ పోలో
4. ✗ ఉడ్రోస్

Question Number : 95 Question Id : 630680220018 Question Type : MCQ Option Shuffling : Yes Is Question Mandatory : No Calculator : None Response Time : N.A Think Time : N.A Minimum Instruction Time : 0 Negative Marks Display Text : 0.0 Correct Marks : 1 Wrong Marks : 0

Who among the following founded the Telangana Praja Samithi (TPS) political party in 1969 to spearhead the statehood movement?

Options :

1. ✗ Sri Ponnamb Prabhakar
2. ✓ Sri M. Chenna Reddy
3. ✗ Sri Porika Naik Balaram
4. ✗ Sri Nerella Anjaneyulu

Question Number : 95 Question Id : 630680220018 Question Type : MCQ Option Shuffling : Yes Is Question Mandatory : No Calculator : None Response Time : N.A Think Time : N.A Minimum Instruction Time : 0 Negative Marks Display Text : 0.0 Correct Marks : 1 Wrong Marks : 0

1969లో రాష్ట్ర సాధన ఉద్యమానికి నాయకత్వం వహించేందుకు కింది వారిలో తెలంగాణ ప్రజా సమితి (TPS) రాజకీయ పార్టీని ఎవరు స్థాపించారు?

Options :

1. ✗ శ్రీ పొన్నం ప్రభాకర్

2. ✓ శ్రీ ఎం. చెన్నా రెడ్డి
3. ✗ శ్రీ పోరిక నాయక్ బలరాం
4. ✗ శ్రీ నేరెళ్ల ఆంజనేయులు

Question Number : 96 Question Id : 630680220019 Question Type : MCQ Option Shuffling : Yes Is Question Mandatory : No Calculator : None Response Time : N.A Think Time : N.A Minimum Instruction Time : 0 Negative Marks Display Text : 0.0 Correct Marks : 1 Wrong Marks : 0

When was the Telangana statehood bill passed in both houses of Parliament?

Options :

1. ✗ January 2014
2. ✓ February 2014
3. ✗ May 2014
4. ✗ June 2014

Question Number : 96 Question Id : 630680220019 Question Type : MCQ Option Shuffling : Yes Is Question Mandatory : No Calculator : None Response Time : N.A Think Time : N.A Minimum Instruction Time : 0 Negative Marks Display Text : 0.0 Correct Marks : 1 Wrong Marks : 0

తెలంగాణ రాష్ట్ర బిల్లు పార్లమెంటు రెండు సభలలో ఎప్పుడు ఆమోదించబడింది?

Options :

1. ✗ జనవరి 2014
2. ✓ ఫిబ్రవరి 2014
3. ✗ మే 2014
4. ✗ జూన్ 2014

Question Number : 97 Question Id : 630680220020 Question Type : MCQ Option Shuffling : Yes Is Question Mandatory : No Calculator : None Response Time : N.A Think Time : N.A Minimum Instruction Time : 0 Negative Marks Display Text : 0.0 Correct Marks : 1 Wrong Marks : 0

Which one of the following statement/statements is/are TRUE about the First Assembly Election of Telangana State?

- A. Telangana Rashtra Samithi emerged victorious by winning 63 of the 119 seats and formed the government.
- B. Sri K Chandrashekar Rao was sworn in as the First Chief Minister of Telangana.

Options :

1. ✗ Only A is true
2. ✗ Only B is true
3. ✓ Both A and B are True
4. ✗ Neither A nor B are True

Question Number : 97 Question Id : 630680220020 Question Type : MCQ Option Shuffling : Yes Is Question Mandatory : No Calculator : None Response Time : N.A Think Time : N.A Minimum Instruction Time : 0 Negative Marks Display Text : 0.0 Correct Marks : 1 Wrong Marks : 0

తెలంగాణ రాష్ట్ర మొదటి అసెంబ్లీ ఎన్నికలకు సంబంధించి కింది వాక్యము/లలో ఏది/వి నిజం?

- A. 119 స్థానాలకు గాను 63 స్థానాల్లో విజయం సాధించి తెలంగాణ రాష్ట్ర సమితి ప్రభుత్వాన్ని ఏర్పాటు చేసింది.
- B. తెలంగాణ తొలి ముఖ్యమంత్రిగా శ్రీ కె చంద్రశేఖర రావు ప్రమాణ స్వీకారం చేశారు.

Options :

1. ✗ A మాత్రమే నిజం
2. ✗ B మాత్రమే నిజం
3. ✓ A మరియు B లు రెండూ నిజమే
4. ✗ A కానీ లేదా B కానీ ఏదీ నిజం కాదు

Question Number : 98 Question Id : 630680220021 Question Type : MCQ Option Shuffling : Yes Is Question Mandatory : No Calculator : None Response Time : N.A Think Time : N.A Minimum Instruction Time : 0 Negative Marks Display Text : 0.0 Correct Marks : 1 Wrong Marks : 0

Which one of the following statement/statements is/are CORRECT about Development of Telangana state after its formation in 2014?

- A. Hyderabad was ranked second among the top 20 global cities in JLL's City Momentum Index (CMI) 2019.
- B. Telangana is one of the eight states in the country that has achieved 100% electrification in households in 2020.

C. In September 2018, the state government launched second Information Communication Technology (ICT) policy.
D. In FY21, the Telangana State Industrial Infrastructure Corporation (TSIIC) developed 10 new industrial parks

Options :

1. ✘ Only A and D
2. ✘ Only B and C
3. ✔ Only A, B and D
4. ✘ Only A, C and D

Question Number : 98 Question Id : 630680220021 Question Type : MCQ Option Shuffling : Yes Is Question Mandatory : No Calculator : None Response Time : N.A Think Time : N.A Minimum Instruction Time : 0 Negative Marks Display Text : 0.0 Correct Marks : 1 Wrong Marks : 0

2014లో తెలంగాణ రాష్ట్రం ఏర్పడిన తర్వాత దాని అభివృద్ధి గురించి కింది వాక్యము/లలో ఏది/వి సరైనది/వి?

- A. JLL యొక్క సిటీ మొమెంటం ఇండెక్స్ (CMI) 2019లో టాప్ 20 ప్రపంచ నగరాల్లో హైదరాబాద్ రెండవ స్థానంలో ఉంది.
- B. 2020లో గృహాలలో 100% విద్యుదీకరణ సాధించిన దేశంలోని ఎనిమిది రాష్ట్రాలలో తెలంగాణ ఒకటి.
- C. సెప్టెంబర్ 2018లో, రాష్ట్ర ప్రభుత్వం రెండవ ఇన్ఫర్మేషన్ కమ్యూనికేషన్ టెక్నాలజీ (ICT) విధానాన్ని ప్రారంభించింది.
- D. FY21లో, తెలంగాణ స్టేట్ ఇండస్ట్రియల్ ఇన్ఫ్రాస్ట్రక్చర్ కార్పొరేషన్ (TSIIC) 10 కొత్త పారిశ్రామిక పార్కులను అభివృద్ధి చేసింది.

Options :

1. ✘ A మరియు D లు మాత్రమే
2. ✘ B మరియు C లు మాత్రమే
3. ✔ A, B మరియు D లు మాత్రమే
4. ✘ A, C మరియు D లు మాత్రమే

Question Number : 99 Question Id : 630680220022 Question Type : MCQ Option Shuffling : Yes Is Question Mandatory : No Calculator : None Response Time : N.A Think Time : N.A Minimum Instruction Time : 0 Negative Marks Display Text : 0.0 Correct Marks : 1 Wrong Marks : 0

Arrange the following districts in chronological order of highest to lowest number of proposed tourist destinations as per Telangana Socio-Economic Outlook 2021:

- A. Hyderabad
- B. Suryapet
- C. Nalgonda
- D. Rangareddy

Options :

1. ✘ A-B-C-D
2. ✔ A-D-C-B
3. ✘ A-C-B-D
4. ✘ D-C-A-B

Question Number : 99 Question Id : 630680220022 Question Type : MCQ Option Shuffling : Yes Is Question Mandatory : No Calculator : None Response Time : N.A Think Time : N.A Minimum Instruction Time : 0 Negative Marks Display Text : 0.0 Correct Marks : 1 Wrong Marks : 0

తెలంగాణ సోషియో-ఎకనామిక్ ఔట్ లుక్ 2021 ప్రకారం అత్యధికం నుండి అత్యల్ప సంఖ్యలో ప్రతిపాదిత పర్యాటక ప్రదేశాలు గల ఈ క్రింది జిల్లాలను కాలక్రమానుసారంగా అమర్చండి:

- A. హైదరాబాద్
- B. సూర్యాపేట
- C. నల్గొండ
- D. రంగారెడ్డి

Options :

1. ✘ A-B-C-D
2. ✔ A-D-C-B
3. ✘ A-C-B-D
4. ✘ D-C-A-B

Question Number : 100 Question Id : 630680220023 Question Type : MCQ Option Shuffling : Yes Is Question Mandatory : No Calculator : None Response Time : N.A Think Time : N.A Minimum Instruction Time : 0 Negative Marks Display Text : 0.0

Correct Marks : 1 Wrong Marks : 0

Match the Policies in Telangana State in List I to the Key Features of these policies in List II:

Sl No.	List I-Policies	Sl No.	List II-Key features
A.	Telangana Excise Policy 2017-2019	i	Create a vibrant E-Waste refurbishing and recycling ecosystem.
B.	E-Waste Management Policy 2017	ii	Standardise the process of collection of certain fees from suppliers and others
C.	Telangana Electric Vehicles Policy 2020-30	iii	To make Telangana a hub for Electric Vehicles & Energy Storage Systems
D.	Telangana State Food Processing and Preservation Policy 2021	iv	Develop capacity for processing major commodities up to international standards.

Options :

1. ✘ A-iii, B-i, C-ii, D-iv
2. ✘ A-ii, B-iii, C-i, D-iv
3. ✘ A-iv, B-i, C-iii, D-ii
4. ✔ A-ii, B-i, C-iii, D-iv

Question Number : 100 Question Id : 630680220023 Question Type : MCQ Option Shuffling : Yes Is Question Mandatory : No Calculator : None Response Time : N.A Think Time : N.A Minimum Instruction Time : 0 Negative Marks Display Text : 0.0 Correct Marks : 1 Wrong Marks : 0

జాబితా I లోని తెలంగాణ రాష్ట్రంలోని పాలసీలను జాబితా II లోని ఈ పాలసీల కీలక లక్షణాలతో జతపరచండి.

వ.సంఖ్య.	జాబితా I-పాలసీలు	వ.సంఖ్య.	జాబితా II-కీలక లక్షణాలు
A.	తెలంగాణ ఎక్సైజ్ పాలసీ 2017-2019	i	శక్తివంతమైన ఇ-వెస్ట్ రీపర్చిసింగ్ మరియు రీసైకిలింగ్ ఎకోసాస్టెమ్ను ధావించడం.
B.	E-వెస్ట్ మేనేజ్మెంట్ పాలసీ 2017	ii	సరఫరాదారులు మరియు ఇతరుల నుండి నిర్దిష్ట రుసుములను వసూలు చేసే ప్రక్రియను ప్రామాణీకరించడం
C.	తెలంగాణ ఎలక్ట్రిక్ వాహనాల పాలసీ 2020-30	iii	ఎలక్ట్రిక్ వాహనాలు & ఇందన నిల్వ వ్యవస్థలకు తెలంగాణను కేంద్రంగా మార్చడం
D.	తెలంగాణ ఫుడ్ ప్రొడ్యూషన్ మరియు ప్రాసెసింగ్ మరియు ప్రాసెసింగ్ పాలసీ 2021	iv	అంతర్జాతీయ ప్రమాణాలకు అనుగుణంగా ప్రధాన వస్తువులను ప్రాసెస్ చేసే సామర్థ్యాన్ని అభివృద్ధి చేయడం

Options :

1. ✘ A-iii, B-i, C-ii, D-iv
2. ✘ A-ii, B-iii, C-i, D-iv
3. ✘ A-iv, B-i, C-iii, D-ii
4. ✔ A-ii, B-i, C-iii, D-iv

Question Number : 101 Question Id : 630680220024 Question Type : MCQ Option Shuffling : Yes Is Question Mandatory : No Calculator : None Response Time : N.A Think Time : N.A Minimum Instruction Time : 0 Negative Marks Display Text : 0.0 Correct Marks : 1 Wrong Marks : 0

Identify the CORRECT pair of information about educational Institution on Telangana and Year of establishment among the given alternative.

Options :

1. ✔ Kaloji Narayan Rao University of Health Sciences-2015
2. ✘ Professor Jayashankar Telangana State Agricultural University (Formerly Acharya N.G Ranga Agricultural University)-2019
3. ✘ Sri Konda Laxman Telangana State Horticultural University-2020
4. ✘ Sri P.V. Narsimha Rao Telangana Veterinary University-2021

Question Number : 101 Question Id : 630680220024 Question Type : MCQ Option Shuffling : Yes Is Question Mandatory : No Calculator : None Response Time : N.A Think Time : N.A Minimum Instruction Time : 0 Negative Marks Display Text : 0.0 Correct Marks : 1 Wrong Marks : 0

ఇవ్వబడిన ప్రత్యామ్నాయాలలో తెలంగాణ యొక్క విద్యా సంస్థలకు సంబంధించిన సమాచారం యొక్క సరైన జతను గుర్తించండి:

Options :

1. ✓ కాళోజీ నారాయణరావు యూనివర్సిటీ ఆఫ్ హెల్త్ సైన్సెస్-2015
2. ✗ ప్రొఫెసర్ జయశంకర్ తెలంగాణ రాష్ట్ర వ్యవసాయ విశ్వవిద్యాలయం (గతంలో ఆచార్య N.G రంగా వ్యవసాయ విశ్వవిద్యాలయం)-2019
3. ✗ శ్రీ కొండా లక్ష్మణ్ తెలంగాణ స్టేట్ హార్టికల్చరల్ యూనివర్సిటీ-2020
4. ✗ శ్రీ పి.వి. నర్సింహారావు తెలంగాణ వెటర్నరీ యూనివర్సిటీ-2021

Question Number : 102 Question Id : 630680220025 Question Type : MCQ Option Shuffling : Yes Is Question Mandatory : No Calculator : None Response Time : N.A Think Time : N.A Minimum Instruction Time : 0 Negative Marks Display Text : 0.0 Correct Marks : 1 Wrong Marks : 0

In which year was The Telangana Districts (Formation) Act was enacted?

Options :

1. ✗ 1969
2. ✗ 1970
3. ✓ 1974
4. ✗ 1979

Question Number : 102 Question Id : 630680220025 Question Type : MCQ Option Shuffling : Yes Is Question Mandatory : No Calculator : None Response Time : N.A Think Time : N.A Minimum Instruction Time : 0 Negative Marks Display Text : 0.0 Correct Marks : 1 Wrong Marks : 0

తెలంగాణ జిల్లాల (ఏర్పాటు) చట్టం ఏ సంవత్సరంలో రూపొందించబడింది?

Options :

1. ✗ 1969
2. ✗ 1970
3. ✓ 1974
4. ✗ 1979

Question Number : 103 Question Id : 630680220026 Question Type : MCQ Option Shuffling : Yes Is Question Mandatory : No Calculator : None Response Time : N.A Think Time : N.A Minimum Instruction Time : 0 Negative Marks Display Text : 0.0 Correct Marks : 1 Wrong Marks : 0

Arrange the following events in chronological order (i.e., from first to last) of their happening:

- A. Burgula Ramakrishna Rao was elected Chief Minister of Hyderabad state.
- B. Central government appointed a civil servant, M K Vellodi Chief Minister of Hyderabad state.
- C. A "Gentlemen's Agreement" was then signed by Bezawada Gopala Reddy and Burgula Ramakrishna Rao to the effect.
- D. Government Order to safeguard the interests of Telangana people in government employment.

Options :

1. ✓ B-A-C-D
2. ✗ A-B-C-D
3. ✗ C-D-B-A
4. ✗ D-B-C-A

Question Number : 103 Question Id : 630680220026 Question Type : MCQ Option Shuffling : Yes Is Question Mandatory : No Calculator : None Response Time : N.A Think Time : N.A Minimum Instruction Time : 0 Negative Marks Display Text : 0.0 Correct Marks : 1 Wrong Marks : 0

ఈ క్రింది సంఘటనలను అవి జరిగిన కాలక్రమానుసారంగా (మొదటి నుండి చివరి వరకు) అమర్చండి:

- A. A. హైదరాబాద్ రాష్ట్ర ముఖ్యమంత్రిగా బూర్గుల రామకృష్ణారావు ఎన్నికయ్యారు.
- B. కేంద్ర ప్రభుత్వం ఒక ప్రజా సేవకుడు, M K వెల్లోడిని హైదరాబాద్ రాష్ట్ర ముఖ్యమంత్రిగా నియమించింది.
- C. బెజవాడ గోపాల రెడ్డి మరియు బూర్గుల రామకృష్ణారావులు "పెద్దమనుషుల ఒప్పందం"పై సంతకం చేశారు.
- D. ప్రభుత్వ ఉద్యోగాలలో తెలంగాణ ప్రజల ప్రయోజనాలను కాపాడాలని ప్రభుత్వ ఉత్తర్వును ఇచ్చింది.

Options :

1. ✓ B-A-C-D
2. ✗ A-B-C-D
3. ✗ C-D-B-A
4. ✗ D-B-C-A

Question Number : 104 Question Id : 630680220027 Question Type : MCQ Option Shuffling : Yes Is Question Mandatory : No Calculator : None Response Time : N.A Think Time : N.A Minimum Instruction Time : 0 Negative Marks Display Text : 0.0 Correct Marks : 1 Wrong Marks : 0

Which one of the following statement/statements is/are CORRECT about events leading to formation of Telangana?

- A. In 1969, an agitation began in Telangana region as people protested the failure to implement the Gentlemen's Agreement and other safeguards properly.
- B. The Government of India came up with eight-point plan in October 1970.
- C. On September 21, 1973, a political settlement was reached with the Centre and a 6-point formula put in place to placate people.

Options :

1. ✗ Only A is correct
2. ✗ Only B is correct
3. ✗ Both A and B is correct
4. ✓ Both A and C is correct

Question Number : 104 Question Id : 630680220027 Question Type : MCQ Option Shuffling : Yes Is Question Mandatory : No Calculator : None Response Time : N.A Think Time : N.A Minimum Instruction Time : 0 Negative Marks Display Text : 0.0 Correct Marks : 1 Wrong Marks : 0

తెలంగాణ ఏర్పాటుకు దారితీసే సంఘటనల గురించి కింది వాక్యము/లలో ఏది/వి సరైనది/వి?

- A. 1969లో, పెద్దమనుషుల ఒప్పందం మరియు ఇతర రక్షణలను సక్రమంగా అమలు చేయడంలో విఫలమైనందుకు ప్రజలు నిరసన వ్యక్తం చేయడంతో తెలంగాణ ప్రాంతంలో ఆందోళన ప్రారంభమైంది.
- B. భారత ప్రభుత్వం అక్టోబర్ 1970లో ఎనిమిది పాయింట్ల ప్రణాళికను రూపొందించింది.
- C. సెప్టెంబరు 21, 1973న, కేంద్రంతో రాజకీయ పరిష్కారం కుదిరింది మరియు ప్రజలను శాంతింపజేయడానికి 6-పాయింట్ల ఫార్ములా అమలులోకి వచ్చింది.

Options :

1. ✗ A మాత్రమే సరైనది
2. ✗ B మాత్రమే సరైనది
3. ✗ A మరియు B లు రెండూ సరైనవి
4. ✓ A మరియు C లు రెండూ సరైనవి

Question Number : 105 Question Id : 630680220028 Question Type : MCQ Option Shuffling : Yes Is Question Mandatory : No Calculator : None Response Time : N.A Think Time : N.A Minimum Instruction Time : 0 Negative Marks Display Text : 0.0 Correct Marks : 1 Wrong Marks : 0

Which one of the following statement/statements is/are CORRECT about traditional art forms of Telangana?

- A. Kakatiya rule led to evolution of dance forms such as Perini Sivatandavam.
- B. 'Dhoom Dham' is one such evolved and composite art form.
- C. A variant of Bharatnatyam, Chindu Bhagavatham is performed widely across Telangana.

Options :

1. ✓ Only A and B is correct
2. ✗ Only B and C is correct
3. ✗ Only C is correct
4. ✗ Only B is correct

Question Number : 105 Question Id : 630680220028 Question Type : MCQ Option Shuffling : Yes Is Question Mandatory : No Calculator : None Response Time : N.A Think Time : N.A Minimum Instruction Time : 0 Negative Marks Display Text : 0.0 Correct Marks : 1 Wrong Marks : 0

తెలంగాణ సంప్రదాయ కళారూపాల గురించి కింది వాక్యము/లలో ఏది/వి సరైనది/వి?

- A. కాకతీయ పాలనలో పేరిణి శివతాండవం వంటి నృత్య రూపాలు పరిణమిస్తాయి.
- B. 'ధూమ్ ధామ్' అనేది అటువంటి అభివృద్ధి చెందిన మరియు మిశ్రమ కళారూపం.
- C. భరతనాట్యం యొక్క రూపాంతరం, చిందు భాగవతం తెలంగాణ అంతటా విస్తృతంగా ప్రదర్శించబడింది.

Options :

1. ✓ A మరియు B లు రెండూ సరైనవి
2. ✗ B మరియు C లు రెండూ సరైనవి
3. ✗ C మాత్రమే సరైనది
4. ✗ B మాత్రమే సరైనది

Question Number : 106 Question Id : 630680220029 Question Type : MCQ Option Shuffling : Yes Is Question Mandatory : No Calculator : None Response Time : N.A Think Time : N.A Minimum Instruction Time : 0 Negative Marks Display Text : 0.0

Correct Marks : 1 Wrong Marks : 0

Identify the CORRECT statement/statements about swachh Auto Tippers Driver cum owner scheme of Telangana Government:

- A. Under this scheme, the Auto Tippers will be branded as 'swachh Auto Tippers' with uniform color coding and branding.
- B. Each such eligible beneficiary identified shall make an 10-20% of upfront cost of the on-road vehicle cost.
- C. Each Swachh Auto Tipper will be allotted an area covering 650-750 households with route numbers identified by the ULB for providing the service.

Options :

1. ✓ A, B and C are Correct
2. ✗ Only A and C are correct
3. ✗ Only A and B are correct
4. ✗ Only B and C are correct

Question Number : 106 Question Id : 630680220029 Question Type : MCQ Option Shuffling : Yes Is Question Mandatory : No Calculator : None Response Time : N.A Think Time : N.A Minimum Instruction Time : 0 Negative Marks Display Text : 0.0

Correct Marks : 1 Wrong Marks : 0

తెలంగాణ ప్రభుత్వ స్వచ్ఛ ఆటో టిప్పర్స్ డ్రైవర్ కమ్ ఓనర్ పథకం గురించి సరైన వాక్యము/లను గుర్తించండి:

- A. ఈ పథకం కింద, ఆటో టిప్పర్లు ఏకరీతి రంగు కోడింగ్ మరియు బ్రాండింగ్ తో 'స్వచ్ఛ ఆటో టిప్పర్స్'గా బ్రాండ్ చేయబడతాయి.
- B. అర్హత కలిగిన ప్రతి లభిదారుడు ఆన్-రోడ్ వెహికల్ ధరలో 10-20% ముందస్తు ధరను చెల్లించాలి.
- C. ప్రతి స్వచ్ఛ ఆటో టిప్పర్ కు దాని సర్వీసును అందించడానికి ULB గుర్తించిన రూట్ నంబర్లతో 650-750 గృహాలను కవర్ చేసే ప్రాంతం కేటాయించబడుతుంది.

Options :

1. ✓ A,B మరియు C లు సరైనవి
2. ✗ A మరియు C లు మాత్రమే సరైనవి
3. ✗ A మరియు B లు మాత్రమే సరైనవి
4. ✗ B మరియు C లు మాత్రమే సరైనవి

Question Number : 107 Question Id : 630680220030 Question Type : MCQ Option Shuffling : Yes Is Question Mandatory : No Calculator : None Response Time : N.A Think Time : N.A Minimum Instruction Time : 0 Negative Marks Display Text : 0.0

Correct Marks : 1 Wrong Marks : 0

In which year did the Government of Telangana launch the "Telangana Haritha Nidhi" a dedicated Green Fund for Telangana State?

Options :

1. ✗ 2019
2. ✗ 2020
3. ✓ 2021
4. ✗ 2022

Question Number : 107 Question Id : 630680220030 Question Type : MCQ Option Shuffling : Yes Is Question Mandatory : No Calculator : None Response Time : N.A Think Time : N.A Minimum Instruction Time : 0 Negative Marks Display Text : 0.0

Correct Marks : 1 Wrong Marks : 0

తెలంగాణ రాష్ట్రం కోసం ప్రత్యేక గ్రీన్ ఫండ్ "తెలంగాణ హరిత నిధి"ని తెలంగాణ ప్రభుత్వం ఏ సంవత్సరంలో ప్రారంభించింది?

Options :

1. ✗ 2019
2. ✗ 2020
3. ✓ 2021
4. ✗ 2022

Question Number : 108 Question Id : 630680220031 Question Type : MCQ Option Shuffling : Yes Is Question Mandatory : No Calculator : None Response Time : N.A Think Time : N.A Minimum Instruction Time : 0 Negative Marks Display Text : 0.0

Correct Marks : 1 Wrong Marks : 0

Government of Telangana had formulated the double bedroom housing scheme in the month of October _____ with a view to provide dignity to the poor.

Options :

1. ✘ 2014
2. ✔ 2015
3. ✘ 2016
4. ✘ 2017

Question Number : 108 Question Id : 630680220031 Question Type : MCQ Option Shuffling : Yes Is Question Mandatory : No Calculator : None Response Time : N.A Think Time : N.A Minimum Instruction Time : 0 Negative Marks Display Text : 0.0

Correct Marks : 1 Wrong Marks : 0

తెలంగాణ ప్రభుత్వం పేదలకు మోదాను అందించాలనే ఉద్దేశ్యంతో అక్టోబర్ నెల _____ లో డబుల్ బెడ్ రూమ్ ఇళ్ల పథకాన్ని రూపొందించింది.

Options :

1. ✘ 2014
2. ✔ 2015
3. ✘ 2016
4. ✘ 2017

Question Number : 109 Question Id : 630680220032 Question Type : MCQ Option Shuffling : Yes Is Question Mandatory : No Calculator : None Response Time : N.A Think Time : N.A Minimum Instruction Time : 0 Negative Marks Display Text : 0.0

Correct Marks : 1 Wrong Marks : 0

In which district of Telangana will you find the Kadam Dam?

Options :

1. ✘ Nizamabad
2. ✔ Adilabad
3. ✘ Jagtial
4. ✘ Kamareddy

Question Number : 109 Question Id : 630680220032 Question Type : MCQ Option Shuffling : Yes Is Question Mandatory : No Calculator : None Response Time : N.A Think Time : N.A Minimum Instruction Time : 0 Negative Marks Display Text : 0.0

Correct Marks : 1 Wrong Marks : 0

తెలంగాణలోని ఏ జిల్లాలో కడెం డ్యామ్ ఉంది?

Options :

1. ✘ నిజామాబాద్
2. ✔ ఆదిలాబాద్
3. ✘ జగిత్యాల
4. ✘ కామారెడ్డి

Question Number : 110 Question Id : 630680220033 Question Type : MCQ Option Shuffling : Yes Is Question Mandatory : No Calculator : None Response Time : N.A Think Time : N.A Minimum Instruction Time : 0 Negative Marks Display Text : 0.0

Correct Marks : 1 Wrong Marks : 0

Which Dynasty did the first ever woman ruler in the subcontinent Rudramadevi who ruled Telangana region belong to?

Options :

1. ✔ Kakatiyas
2. ✘ Satavahana
3. ✘ Asaf Jahi
4. ✘ Bahmani

Question Number : 110 Question Id : 630680220033 Question Type : MCQ Option Shuffling : Yes Is Question Mandatory : No

Calculator : None Response Time : N.A Think Time : N.A Minimum Instruction Time : 0 Negative Marks Display Text : 0.0

Correct Marks : 1 Wrong Marks : 0

ఉపఖండంలో తెలంగాణ ప్రాంతాన్ని పాలించిన మొట్టమొదటి మహిళా పాలకురాలు రుద్రమదేవి ఏ రాజవంశానికి చెందినది?

Options :

1. ✓ కాకతీయ
2. ✗ శాతవాహన
3. ✗ అసఫ్ జాహీ
4. ✗ బహమనీ

Question Number : 111 Question Id : 630680220034 Question Type : MCQ Option Shuffling : Yes Is Question Mandatory : No

Calculator : None Response Time : N.A Think Time : N.A Minimum Instruction Time : 0 Negative Marks Display Text : 0.0

Correct Marks : 1 Wrong Marks : 0

In how many categories did the state of Telangana win National Tourism award given on the occasion of World Tourism Day celebrations held in New Delhi on September 21-2022?

Options :

1. ✗ Two
2. ✗ Three
3. ✓ Four
4. ✗ Five

Question Number : 111 Question Id : 630680220034 Question Type : MCQ Option Shuffling : Yes Is Question Mandatory : No

Calculator : None Response Time : N.A Think Time : N.A Minimum Instruction Time : 0 Negative Marks Display Text : 0.0

Correct Marks : 1 Wrong Marks : 0

సెప్టెంబరు 21-2022న న్యూఢిల్లీలో జరిగిన ప్రపంచ పర్యాటక దినోత్సవ వేడుకల సందర్భంగా తెలంగాణ రాష్ట్రం ఎన్ని విభాగాల్లో జాతీయ పర్యాటక అవార్డును గెలుచుకుంది?

Options :

1. ✗ రెండు
2. ✗ మూడు
3. ✓ నాలుగు
4. ✗ అయిదు

Question Number : 112 Question Id : 630680220035 Question Type : MCQ Option Shuffling : Yes Is Question Mandatory : No

Calculator : None Response Time : N.A Think Time : N.A Minimum Instruction Time : 0 Negative Marks Display Text : 0.0

Correct Marks : 1 Wrong Marks : 0

Six students Aman, Sohini, Ashish, Palak, Kamal and Hina are sitting around a circular table facing the centre. Sohini is sitting second to the right of Palak. Ashish and Hina are not immediate neighbours of Sohini. Palak is third to the right of Aman. Hina is sitting second to the left of Kamal. Which of the following statements are true based on the above conditions?

- A) Sohini is to the immediate right of Kamal.
- B) Hina is to the immediate right of Ashish.
- C) Aman and Palak are neighbours.

Options :

1. ✗ A only
2. ✗ B only
3. ✗ C only
4. ✓ A and B

Question Number : 112 Question Id : 630680220035 Question Type : MCQ Option Shuffling : Yes Is Question Mandatory : No

Calculator : None Response Time : N.A Think Time : N.A Minimum Instruction Time : 0 Negative Marks Display Text : 0.0

Correct Marks : 1 Wrong Marks : 0

అమన్, సోహిని, ఆశిష్, పాలక్, కమల్ మరియు హీనా అనే ఆరుగురు విద్యార్థులు ఒక వృత్తాకార టేబుల్ చుట్టూ కేంద్రానికి ఎదురుగా కూర్చున్నారు. పాలక్ కి కుడివైపున రెండవ స్థానంలో సోహిని కూర్చుంది. ఆశిష్ మరియు హీనాలు, సోహిని కి తక్షణ పొరుగువారు కాదు. అమన్ కి కుడివైపున మూడవ స్థానంలో పాలక్ కూర్చుంది. కమల్ కు ఎడమవైపున రెండో స్థానంలో హీనా కూర్చుంది.

పై షరతుల ఆధారంగా కింది ప్రకటనలలో ఏది నిజం?

- A) సోహిని, కమల్ కు తక్షణ కుడివైపున కూర్చుంది.

- B) హీనా, ఆశిష్కు తక్షణ కుడి వైపున కూర్చుంది.
C) అమన్ మరియు పాలక్ష్ష పొరుగువారు.

Options :

1. ✘ A మాత్రమే
2. ✘ B మాత్రమే
3. ✘ C మాత్రమే
4. ✔ A మరియు B లు

Question Number : 113 Question Id : 630680220036 Question Type : MCQ Option Shuffling : Yes Is Question Mandatory : No Calculator : None Response Time : N.A Think Time : N.A Minimum Instruction Time : 0 Negative Marks Display Text : 0.0 Correct Marks : 1 Wrong Marks : 0

Daksh, Nayan, Umang, Likith and Oman are standing in a row facing north. Nayan is standing to the right of Daksh, who is standing at the one end. Oman is standing to the left of Likith, who is not standing at the end.

Which of the following statements are true based on the above conditions?

- A) Oman is standing to the right of Nayan.
B) Likith is standing to the left of Umang.

Options :

1. ✘ A only
2. ✘ B only
3. ✔ Both A and B
4. ✘ Neither A nor B

Question Number : 113 Question Id : 630680220036 Question Type : MCQ Option Shuffling : Yes Is Question Mandatory : No Calculator : None Response Time : N.A Think Time : N.A Minimum Instruction Time : 0 Negative Marks Display Text : 0.0 Correct Marks : 1 Wrong Marks : 0

దక్ష, నయన్, ఉమంగ్, లికిత్ మరియు ఒమన్ అనే వారు ఒక వరుసలో ఉత్తరాభిముఖంగా నిలబడి ఉన్నారు. ఒక చివరన నిల్చున్న దక్ష కు కుడివైపు నయన్ నిల్చుంది. చివర్లో నిలబడని లికిత్ కి ఎడమవైపు ఒమన్ నిలబడ్డాడు. పై పరతుల ఆధారంగా కింది ప్రకటనలలో ఏది నిజం?

- A) నయన్ కి కుడివైపు ఒమన్ నిలబడ్డాడు.
B) ఉమంగ్ కు ఎడమవైపు లికిత్ నిలబడ్డాడు.

Options :

1. ✘ A మాత్రమే
2. ✘ B మాత్రమే
3. ✔ A మరియు B లు రెండూ
4. ✘ A లేదా B ఏదీ కాదు

Question Number : 114 Question Id : 630680220037 Question Type : MCQ Option Shuffling : Yes Is Question Mandatory : No Calculator : None Response Time : N.A Think Time : N.A Minimum Instruction Time : 0 Negative Marks Display Text : 0.0 Correct Marks : 1 Wrong Marks : 0

Arrange the given words in the sequence in which they occur in the dictionary.

1. Present
2. Promotion
3. Practical
4. Practice
5. Prestige

Options :

1. ✘ 43215
2. ✔ 34152
3. ✘ 34215
4. ✘ 43152

Question Number : 114 Question Id : 630680220037 Question Type : MCQ Option Shuffling : Yes Is Question Mandatory : No Calculator : None Response Time : N.A Think Time : N.A Minimum Instruction Time : 0 Negative Marks Display Text : 0.0 Correct Marks : 1 Wrong Marks : 0

ఇచ్చిన పదాలను నిఘంటువులో అవి వచ్చే క్రమంలో అమర్చండి.

1. Present
2. Promotion
3. Practical
4. Practice
5. Prestige

Options :

1. ✘ 43215
2. ✔ 34152
3. ✘ 34215
4. ✘ 43152

Question Number : 115 Question Id : 630680220038 Question Type : MCQ Option Shuffling : Yes Is Question Mandatory : No Calculator : None Response Time : N.A Think Time : N.A Minimum Instruction Time : 0 Negative Marks Display Text : 0.0 Correct Marks : 1 Wrong Marks : 0

Imran and Reshma are a couple. Imran recalls that their anniversary is after the fifteenth but before the eighteenth of March, but Reshma recalls that their anniversary is after the sixteenth but before the nineteenth. What date in March do they celebrate their anniversary?

Options :

1. ✔ 17th
2. ✘ 18th
3. ✘ 16th
4. ✘ 19th

Question Number : 115 Question Id : 630680220038 Question Type : MCQ Option Shuffling : Yes Is Question Mandatory : No Calculator : None Response Time : N.A Think Time : N.A Minimum Instruction Time : 0 Negative Marks Display Text : 0.0 Correct Marks : 1 Wrong Marks : 0

ఇమాన్, రేష్మ ఒక జంట. తమ వార్షికోత్సవం పదిహేను తర్వాత కానీ మార్చి పద్దెనిమిదో తేదీకి ముందు అని ఇమాన్ గుర్తుచేసుకున్నాడు, అయితే తమ వార్షికోత్సవం పదహారు తర్వాత కానీ మార్చి పందొమ్మిదో తేదీకి ముందు అని రేష్మ గుర్తుచేసుకుంది. వారు తమ వార్షికోత్సవాన్ని మార్చిలో ఏ తేదీన జరుపుకుంటారు?

Options :

1. ✔ 17న
2. ✘ 18న
3. ✘ 16న
4. ✘ 19న

Question Number : 116 Question Id : 630680220039 Question Type : MCQ Option Shuffling : Yes Is Question Mandatory : No Calculator : None Response Time : N.A Think Time : N.A Minimum Instruction Time : 0 Negative Marks Display Text : 0.0 Correct Marks : 1 Wrong Marks : 0

Simran leaves her office at 15 min to six in the evening, reaches her house in 25 min, finishes her snacks in another 10 min and leaves for the market which takes another 30 min. At what time, did she leave her house to reach the market?

Options :

1. ✘ 6:00 PM
2. ✘ 7:00 PM
3. ✔ 6:20 PM
4. ✘ 6:30 PM

Question Number : 116 Question Id : 630680220039 Question Type : MCQ Option Shuffling : Yes Is Question Mandatory : No Calculator : None Response Time : N.A Think Time : N.A Minimum Instruction Time : 0 Negative Marks Display Text : 0.0 Correct Marks : 1 Wrong Marks : 0

సిమ్రాన్ తన ఆఫీసు నుండి సాయంత్రం 15 నిమిషాలు తక్కువ ఆరు గంటలకు బయలుదేరి, 25 నిమిషాలలో తన ఇంటికి చేరుకుంటుంది, మరో 10 నిమిషాలలో తన స్నాక్స్ ముగించి, 30 నిమిషాలు పట్టే మార్కెట్ కి బయలుదేరుతుంది. ఏ సమయంలో, ఆమె తన ఇంటి నుండి మార్కెట్ కి బయలుదేరింది?

Options :

1. ✘ 6:00 PM
2. ✘ 7:00 PM

3. ✓ 6:20 PM

4. ✗ 6:30 PM

Question Number : 117 Question Id : 630680220040 Question Type : MCQ Option Shuffling : Yes Is Question Mandatory : No Calculator : None Response Time : N.A Think Time : N.A Minimum Instruction Time : 0 Negative Marks Display Text : 0.0 Correct Marks : 1 Wrong Marks : 0

Read the given statements and conclusions carefully. Assuming that the information given in the statements is true, even if it appears to be at variance with commonly known facts, decide which of the given conclusions logically follow(s) from the statements.

Statement I: All books are markers.

Statement II: All markers are pens.

Conclusion I: All books are pens.

Conclusion II: All pens are books.

Options :

1. ✓ Only conclusion I follows

2. ✗ Only conclusion II follows

3. ✗ Both conclusion I and II follows

4. ✗ Neither conclusion I nor II follows

Question Number : 117 Question Id : 630680220040 Question Type : MCQ Option Shuffling : Yes Is Question Mandatory : No Calculator : None Response Time : N.A Think Time : N.A Minimum Instruction Time : 0 Negative Marks Display Text : 0.0 Correct Marks : 1 Wrong Marks : 0

ఇచ్చిన ప్రకటనలు మరియు ముగింపులను జాగ్రత్తగా చదవండి. ప్రకటనలలో ఇవ్వబడిన సమాచారం సాధారణంగా తెలిసిన వాస్తవాలతో విభేదిస్తున్నట్లు కనిపించినప్పటికీ, వాస్తవంగా పరిగణించి, ఇచ్చిన తీర్మానాలలో ఏది తార్కికంగా ప్రకటనలను అనుసరిస్తుందో నిర్ణయించండి.

ప్రకటన I: అన్ని పుస్తకాలు మార్కర్లు.

ప్రకటన II: అన్ని మార్కర్లు పెన్నులు.

ముగింపు I: అన్ని పుస్తకాలు పెన్నులు.

ముగింపు II: అన్ని పెన్నులు పుస్తకాలు.

Options :

1. ✓ ముగింపు I మాత్రమే అనుసరిస్తుంది

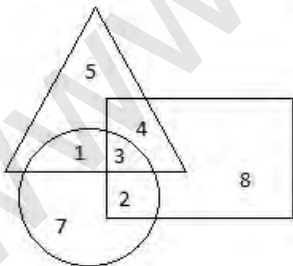
2. ✗ ముగింపు II మాత్రమే అనుసరిస్తుంది

3. ✗ ముగింపులు I మరియు II లు రెండూ అనుసరిస్తాయి

4. ✗ తీర్మానం I కానీ లేదా తీర్మానం II కానీ ఏదీ అనుసరించదు

Question Number : 118 Question Id : 630680220041 Question Type : MCQ Option Shuffling : Yes Is Question Mandatory : No Calculator : None Response Time : N.A Think Time : N.A Minimum Instruction Time : 0 Negative Marks Display Text : 0.0 Correct Marks : 1 Wrong Marks : 0

Find the number common to all three figures.



Options :

1. ✗ 1

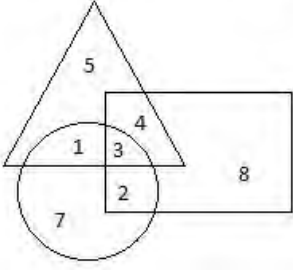
2. ✓ 3

3. ✗ 2

4. ✗ 4

Question Number : 118 Question Id : 630680220041 Question Type : MCQ Option Shuffling : Yes Is Question Mandatory : No Calculator : None Response Time : N.A Think Time : N.A Minimum Instruction Time : 0 Negative Marks Display Text : 0.0 Correct Marks : 1 Wrong Marks : 0

మూడు చిత్రాలకు ఉమ్మడిగా గల అంకెను కనుగొనండి.



Options :

1. ✖ 1
2. ✔ 3
3. ✖ 2
4. ✖ 4

Question Number : 119 Question Id : 630680220042 Question Type : MCQ Option Shuffling : Yes Is Question Mandatory : No Calculator : None Response Time : N.A Think Time : N.A Minimum Instruction Time : 0 Negative Marks Display Text : 0.0 Correct Marks : 1 Wrong Marks : 0

Refer to the alphanumeric series given below and answer the following questions:

M \$ 4 9 H D & R @ 4 # U 1 & P

Find the number of symbols which are immediately preceded by an alphabet and immediately followed by a number when counting from left to right.

Options :

1. ✖ 3
2. ✔ 2
3. ✖ 1
4. ✖ 4

Question Number : 119 Question Id : 630680220042 Question Type : MCQ Option Shuffling : Yes Is Question Mandatory : No Calculator : None Response Time : N.A Think Time : N.A Minimum Instruction Time : 0 Negative Marks Display Text : 0.0 Correct Marks : 1 Wrong Marks : 0

దిగువ ఇవ్వబడిన ఆల్ఫాన్యూమరిక్ (అక్షరసంఖ్య) శ్రేణిని పరిగణించండి మరియు క్రింది ప్రశ్నలకు సమాధానం ఇవ్వండి:

M \$ 4 9 H D & R @ 4 # U 1 & P

ఎడమ నుండి కుడికి లెక్కించేటప్పుడు తక్షణ ముందు ఒక అక్షరం మరియు తక్షణ వెంటనే ఒక సంఖ్య గల చిహ్నాల సంఖ్యను కనుగొనండి.

Options :

1. ✖ 3
2. ✔ 2
3. ✖ 1
4. ✖ 4

Question Number : 120 Question Id : 630680220043 Question Type : MCQ Option Shuffling : Yes Is Question Mandatory : No Calculator : None Response Time : N.A Think Time : N.A Minimum Instruction Time : 0 Negative Marks Display Text : 0.0 Correct Marks : 1 Wrong Marks : 0

Among seven friends Ankit, Binod, Chaman, Darshan, Eshwar, Harshit and Gaurav; Binod is taller than four of his friends. Chaman is taller than Darshan. Ankit is taller than Harshit. Eshwar is only taller than Gaurav, who is the shortest among all his friends. Binod is taller than Ankit. Which of the following statements are true based on the above conditions?

- A) Chaman is not the tallest.
- B) Eshwar is the tallest.
- C) Ankit is taller than Gaurav.

Options :

1. ✘ A only
2. ✘ A and B
3. ✔ C only
4. ✘ B and C

Question Number : 120 Question Id : 630680220043 Question Type : MCQ Option Shuffling : Yes Is Question Mandatory : No Calculator : None Response Time : N.A Think Time : N.A Minimum Instruction Time : 0 Negative Marks Display Text : 0.0

Correct Marks : 1 Wrong Marks : 0

అంకిత్, బినోద్, చమన్, దర్శన్, ఈశ్వర్, హర్షిత్ మరియు గౌరవ్ అనే ఏడుగురు స్నేహితులలో; బినోద్ తన నలుగురు స్నేహితుల కంటే పొడవుగా ఉంటాడు. చమన్, దర్శన్ కంటే పొడవుగా ఉంటాడు. అంకిత్, హర్షిత్ కంటే పొడవుగా ఉంటాడు. తన స్నేహితులందరిలో పొట్టిగా ఉండే గౌరవ్ కంటే మాత్రమే ఈశ్వర్ పొడవుగా ఉంటాడు. అంకిత్ కంటే బినోద్ పొడవుగా ఉంటాడు. పై పరతుల ఆధారంగా కింది ప్రకటనలలో ఏది నిజం?

- A) చమన్ అత్యంత పొడవు కాదు.
- B) ఈశ్వర్ అత్యంత పొడవు.
- C) అంకిత్, గౌరవ్ కంటే పొడవుగా ఉంటాడు.

Options :

1. ✘ A మాత్రమే
2. ✘ A మరియు B లు
3. ✔ C మాత్రమే
4. ✘ B మరియు C లు

Question Number : 121 Question Id : 630680220044 Question Type : MCQ Option Shuffling : Yes Is Question Mandatory : No Calculator : None Response Time : N.A Think Time : N.A Minimum Instruction Time : 0 Negative Marks Display Text : 0.0

Correct Marks : 1 Wrong Marks : 0

Marks of seven students P, Q, R, S, T, U and V in a test were given as follows, P's score was exactly in between T's and U's scores. Q's score was only more than V's score and R's score was immediately more than Q's score. U's score was more than T's score whose score is more than R's score. U did not score the highest.

Which of the following statements are true based on the above conditions?

- A) S scored the highest.
- B) V scored the least.

Options :

1. ✘ A only
2. ✘ B only
3. ✔ Both A and B
4. ✘ Neither A nor B

Question Number : 121 Question Id : 630680220044 Question Type : MCQ Option Shuffling : Yes Is Question Mandatory : No Calculator : None Response Time : N.A Think Time : N.A Minimum Instruction Time : 0 Negative Marks Display Text : 0.0

Correct Marks : 1 Wrong Marks : 0

ఒక పరీక్షలో P, Q, R, S, T, U మరియు V అనే ఏడుగురు విద్యార్థుల మార్కులు ఈ క్రింది విధంగా ఇవ్వబడ్డాయి, P యొక్క స్కోర్ ఖచ్చితంగా T మరియు U స్కోర్ల మధ్య ఉంటుంది. Q యొక్క స్కోర్ V యొక్క స్కోర్ కంటే ఎక్కువ మరియు R యొక్క స్కోర్ Q యొక్క స్కోర్ కంటే తక్కువ. R యొక్క స్కోర్ కంటే ఎక్కువ వున్న T యొక్క స్కోర్ కంటే U యొక్క స్కోర్ ఎక్కువగా ఉంటుంది. U అత్యధిక స్కోర్ చేయలేదు.

పై పరతుల ఆధారంగా కింది ప్రకటనలలో ఏది నిజం?

- A) S అత్యధిక స్కోరు సాధించింది.
- B) V అత్యల్ప స్కోర్ చేసింది.

Options :

1. ✘ A మాత్రమే
2. ✘ B మాత్రమే
3. ✔ A మరియు Bలు రెండూ
4. ✘ A కానీ లేదా B కానీ ఏదీ కాదు

Question Number : 122 Question Id : 630680220045 Question Type : MCQ Option Shuffling : Yes Is Question Mandatory : No Calculator : None Response Time : N.A Think Time : N.A Minimum Instruction Time : 0 Negative Marks Display Text : 0.0

Correct Marks : 1 Wrong Marks : 0

In a certain code language, 'LAVISH' is written as 'MZWHTG' and 'ACTING' is written as 'BBUHOF'.
Based on the given coding, match the following:

A. LAYOUT	1. SHHGUR
B. RIGHTS	2. MZZNVS
C. PICKLE	3. UQPNQR
D. TROOPS	4. QHDJMD

Options :

1. ✓ A-2; B-1; C-4; D-3
2. ✗ A-3; B-1; C-4; D-2
3. ✗ A-1; B-3; C-4; D-2
4. ✗ A-2; B-3; C-1; D-4

Question Number : 122 Question Id : 630680220045 Question Type : MCQ Option Shuffling : Yes Is Question Mandatory : No
Calculator : None Response Time : N.A Think Time : N.A Minimum Instruction Time : 0 Negative Marks Display Text : 0.0
Correct Marks : 1 Wrong Marks : 0

ఒక నిర్దిష్ట కోడ్ భాషలో, 'LAVISH'ని 'MZWHTG' అని మరియు 'ACTING'ని 'BBUHOF' అని వ్రాస్తారు.

ఇచ్చిన కోడింగ్ ఆధారంగా, కింది వాటిని జతపరచండి.

A. LAYOUT	1. SHHGUR
B. RIGHTS	2. MZZNVS
C. PICKLE	3. UQPNQR
D. TROOPS	4. QHDJMD

Options :

1. ✓ A-2; B-1; C-4; D-3
2. ✗ A-3; B-1; C-4; D-2
3. ✗ A-1; B-3; C-4; D-2
4. ✗ A-2; B-3; C-1; D-4

Question Number : 123 Question Id : 630680220046 Question Type : MCQ Option Shuffling : Yes Is Question Mandatory : No
Calculator : None Response Time : N.A Think Time : N.A Minimum Instruction Time : 0 Negative Marks Display Text : 0.0
Correct Marks : 1 Wrong Marks : 0

In a certain code language, 'flu kar tin' means black is good, "kar pro tis" means black and red, and "cap pro flu" means "red is beautiful", then what will be the code of "is"?

Options :

1. ✗ tis
2. ✗ kar
3. ✗ pro
4. ✓ flu

Question Number : 123 Question Id : 630680220046 Question Type : MCQ Option Shuffling : Yes Is Question Mandatory : No
Calculator : None Response Time : N.A Think Time : N.A Minimum Instruction Time : 0 Negative Marks Display Text : 0.0
Correct Marks : 1 Wrong Marks : 0

ఒక నిర్దిష్ట కోడ్ భాషలో, 'flu kar tin' అంటే "black is good" అని, "kar pro tis" అంటే "black and red" అని, మరియు "cap pro flu" అంటే "red is beautiful" అని అర్థం, అప్పుడు "is"కు గల కోడ్ ఏమిటి?

Options :

1. ✗ tis
2. ✗ kar
3. ✗ pro
4. ✓ flu

Question Number : 124 Question Id : 630680220047 Question Type : MCQ Option Shuffling : Yes Is Question Mandatory : No Calculator : None Response Time : N.A Think Time : N.A Minimum Instruction Time : 0 Negative Marks Display Text : 0.0

Correct Marks : 1 Wrong Marks : 0

Ashish walks 5 km toward the South and then walks 3 km to his left. Finally, he turns to his right and walks 8 km. In which direction is he from the starting point?

Options :

1. ✘ South
2. ✘ South-west
3. ✘ East
4. ✔ South-east

Question Number : 124 Question Id : 630680220047 Question Type : MCQ Option Shuffling : Yes Is Question Mandatory : No Calculator : None Response Time : N.A Think Time : N.A Minimum Instruction Time : 0 Negative Marks Display Text : 0.0

Correct Marks : 1 Wrong Marks : 0

అశిష్ దక్షిణం వైపు 5 km నడిచి, ఎడమ వైపు 3 km నడిచాడు. చివరగా, అతను తన కుడి వైపుకు తిరిగి 8 km నడిచాడు. అయిన అతను ప్రారంభ స్థానానికి ఏ దిశలో ఉన్నాడు?

Options :

1. ✘ దక్షిణ
2. ✘ నైరుతి
3. ✘ తూర్పు
4. ✔ ఆగ్నేయం

Question Number : 125 Question Id : 630680220048 Question Type : MCQ Option Shuffling : Yes Is Question Mandatory : No Calculator : None Response Time : N.A Think Time : N.A Minimum Instruction Time : 0 Negative Marks Display Text : 0.0

Correct Marks : 1 Wrong Marks : 0

Select the option that is related to the fifth letter-cluster in the same way as the second letter-cluster is related to the first letter-cluster and the fourth letter-cluster is related to the third letter-cluster.

YXW72 : BAZ29 :: EDC12 : HGF21 :: KJI30 : ?

Options :

1. ✔ NML39
2. ✘ NMO39
3. ✘ MON40
4. ✘ LMN29

Question Number : 125 Question Id : 630680220048 Question Type : MCQ Option Shuffling : Yes Is Question Mandatory : No Calculator : None Response Time : N.A Think Time : N.A Minimum Instruction Time : 0 Negative Marks Display Text : 0.0

Correct Marks : 1 Wrong Marks : 0

రెండవ అక్షర-సమూహం మొదటి అక్షర-సమూహానికి మరియు నాలుగవ అక్షర-సమూహం మూడవ అక్షర-సమూహానికి సంబంధించిన విధంగానే అయిదవ అక్షర-సమూహానికి చెందిన ఎంపికను ఎంచుకోండి.

YXW72 : BAZ29 :: EDC12 : HGF21 :: KJI30 : ?

Options :

1. ✔ NML39
2. ✘ NMO39
3. ✘ MON40
4. ✘ LMN29

Question Number : 126 Question Id : 630680220049 Question Type : MCQ Option Shuffling : Yes Is Question Mandatory : No Calculator : None Response Time : N.A Think Time : N.A Minimum Instruction Time : 0 Negative Marks Display Text : 0.0

Correct Marks : 1 Wrong Marks : 0

Consider the following pairs and choose the pair which matches the given relation.

Country : Capital

- A. Australia: Venice
- B. Pakistan: Islamabad
- C. China: Taiwan
- D. Indonesia: Jakarta

Options :

1. ✘ A only
2. ✔ B and D
3. ✘ A, B and D
4. ✘ B only

Question Number : 126 Question Id : 630680220049 Question Type : MCQ Option Shuffling : Yes Is Question Mandatory : No Calculator : None Response Time : N.A Think Time : N.A Minimum Instruction Time : 0 Negative Marks Display Text : 0.0

Correct Marks : 1 Wrong Marks : 0

ఈ క్రింది జతలను పరిగణించండి మరియు ఇచ్చిన సంబంధానికి సరిపోయే జంటను ఎంచుకోండి.

దేశం: రాజధాని

- A. ఆస్ట్రేలియా: వెనిస్
- B. పాకిస్తాన్: ఇస్లామాబాద్
- C. చైనా: తైవాన్
- D. ఇండోనేషియా: జకార్తా

Options :

1. ✘ A మాత్రమే
2. ✔ B మరియు D లు
3. ✘ A, B మరియు D లు
4. ✘ B మాత్రమే

Question Number : 127 Question Id : 630680220050 Question Type : MCQ Option Shuffling : Yes Is Question Mandatory : No Calculator : None Response Time : N.A Think Time : N.A Minimum Instruction Time : 0 Negative Marks Display Text : 0.0

Correct Marks : 1 Wrong Marks : 0

The question below consists of a question and two statements numbered I and II given below it. You have to decide whether the data provided in the statements are sufficient to answer the question. Read both statements and give the answer.

Question: If m and n are integers, what is the value of n?

Statement I: $4m^2 = 9n^2$

Statement II: m and n both are positive.

Options :

1. ✘ I alone is sufficient while II alone is not sufficient
2. ✘ II alone is sufficient while I alone is not sufficient
3. ✘ Both I and II together are sufficient
4. ✔ Neither I nor II is sufficient

Question Number : 127 Question Id : 630680220050 Question Type : MCQ Option Shuffling : Yes Is Question Mandatory : No Calculator : None Response Time : N.A Think Time : N.A Minimum Instruction Time : 0 Negative Marks Display Text : 0.0

Correct Marks : 1 Wrong Marks : 0

దిగువ ఇవ్వబడిన ప్రశ్న, ఒక ప్రశ్న మరియు దాని క్రింద ఇవ్వబడిన I మరియు II సంఖ్యలతో కూడిన రెండు ప్రకటనలను కలిగి ఉంది. ప్రశ్నకు సమాధానం ఇవ్వడానికి ప్రకటనలలో అందించిన డేటా సరిపోతుందో లేదో మీరు నిర్ణయించాలి. రెండు ప్రకటనలను చదివి సమాధానం ఇవ్వండి.

ప్రశ్న: m మరియు n లు పూర్ణసంఖ్యలు అయితే, n విలువ ఎంత?

ప్రకటన I: $4m^2 = 9n^2$

ప్రకటన II: m మరియు n లు రెండూ ధన సంఖ్యలు.

Options :

1. ✘ I మాత్రమే సరిపోతుంది, అయితే II మాత్రమే సరిపోదు
2. ✘ II మాత్రమే సరిపోతుంది అయితే I మాత్రమే సరిపోదు
3. ✘ I మరియు II లు రెండూ కలిసి సరిపోతాయి
4. ✔ I కానీ లేదా II కానీ ఏదీ సరిపోదు

Question Number : 128 Question Id : 630680220051 Question Type : MCQ Option Shuffling : Yes Is Question Mandatory : No Calculator : None Response Time : N.A Think Time : N.A Minimum Instruction Time : 0 Negative Marks Display Text : 0.0

Correct Marks : 1 Wrong Marks : 0

The question below consists of a question and two statements numbered I and II given below it. You have to decide whether the data

provided in the statements are sufficient to answer the question. Read both statements and give the answer.

Question: How is N related to M?

Statement I: M is the father of O.

Statement II: O is the mother of N.

Options :

1. ✖ I alone is sufficient while II alone is not sufficient
2. ✖ II alone is sufficient while I alone is not sufficient
3. ✖ Both I and II together are sufficient
4. ✔ Neither I nor II is sufficient

Question Number : 128 Question Id : 630680220051 Question Type : MCQ Option Shuffling : Yes Is Question Mandatory : No Calculator : None Response Time : N.A Think Time : N.A Minimum Instruction Time : 0 Negative Marks Display Text : 0.0

Correct Marks : 1 Wrong Marks : 0

దిగువ ఇవ్వబడిన ప్రశ్న, ఒక ప్రశ్న మరియు దాని క్రింద ఇవ్వబడిన I మరియు II సంఖ్యలతో కూడిన రెండు ప్రకటనలను కలిగి ఉంది. ప్రశ్నకు సమాధానం ఇవ్వడానికి ప్రకటనలలో అందించిన డేటా సరిపోతుందో లేదో మీరు నిర్ణయించాలి. రెండు ప్రకటనలను చదివి సమాధానం ఇవ్వండి.

ప్రశ్న: M కి N ఏమవుతుంది?

ప్రకటన I: M అనే వ్యక్తి O యొక్క తండ్రి.

ప్రకటన II: O అనే వ్యక్తి N యొక్క తల్లి.

Options :

1. ✖ I మాత్రమే సరిపోతుంది, అయితే II మాత్రమే సరిపోదు
2. ✖ II మాత్రమే సరిపోతుంది, అయితే I మాత్రమే సరిపోదు
3. ✖ I మరియు II లు రెండూ కలిసి సరిపోతాయి
4. ✔ I లేదా II ఏదీ సరిపోదు

Question Number : 129 Question Id : 630680220052 Question Type : MCQ Option Shuffling : Yes Is Question Mandatory : No Calculator : None Response Time : N.A Think Time : N.A Minimum Instruction Time : 0 Negative Marks Display Text : 0.0

Correct Marks : 1 Wrong Marks : 0

In the question, a statement is given, followed by two conclusions, I and II. You have to consider the statement to be true even if it seems to be at variance from commonly known facts. You have to decide which of the given conclusions, if any, follows from the given statement.

Statement: Akash is the best cricketer in his colony.

Conclusion I: No other cricketer in the colony is as good as Akash.

Conclusion II: Akash plays only cricket.

Options :

1. ✔ Only I follows
2. ✖ Only II follows
3. ✖ Both I and II follows
4. ✖ Neither I nor II follows

Question Number : 129 Question Id : 630680220052 Question Type : MCQ Option Shuffling : Yes Is Question Mandatory : No Calculator : None Response Time : N.A Think Time : N.A Minimum Instruction Time : 0 Negative Marks Display Text : 0.0

Correct Marks : 1 Wrong Marks : 0

ప్రశ్నలో, ఒక ప్రకటన ఇవ్వబడింది, తర్వాత I మరియు II అనే రెండు ముగింపులు కలవు. సాధారణంగా తెలిసిన వాస్తవాలకు భిన్నంగా ఉన్నట్లు అనిపించినా కూడా మీరు ప్రకటన వాస్తవమని పరిగణించాలి. ఇవ్వబడిన ప్రకటనను ఇచ్చిన ముగింపులలో ఏది అనుసరిస్తుందో నిర్ణయించాలి.

ప్రకటన: ఆకాష్ తన కాలనీలోనే అత్యుత్తమ క్రికెటర్.

ముగింపు I: కాలనీలో ఆకాష్ అంత మంచి క్రికెటర్ మరొకడు లేడు.

ముగింపు II: ఆకాష్ క్రికెట్ మాత్రమే ఆడుతాడు.

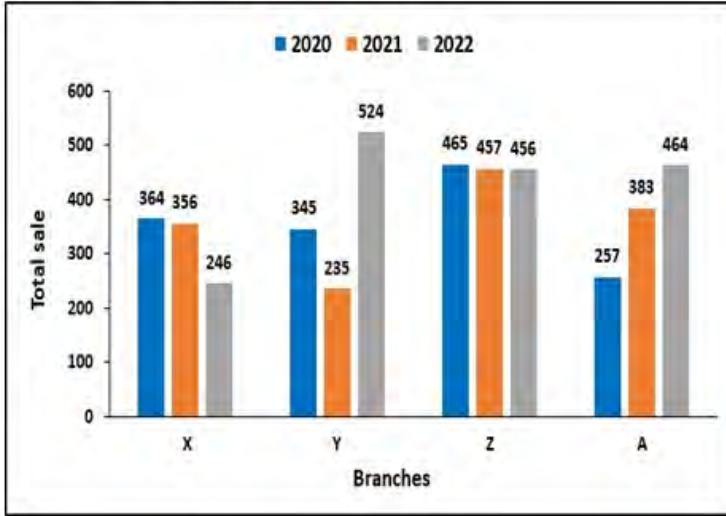
Options :

1. ✔ I మాత్రమే అనుసరిస్తుంది
2. ✖ II మాత్రమే అనుసరిస్తుంది
3. ✖ I మరియు II లు రెండూ అనుసరిస్తాయి
4. ✖ I కానీ లేదా II కానీ ఏదీ అనుసరించదు

Question Number : 130 Question Id : 630680220053 Question Type : MCQ Option Shuffling : Yes Is Question Mandatory : No Calculator : None Response Time : N.A Think Time : N.A Minimum Instruction Time : 0 Negative Marks Display Text : 0.0

Correct Marks : 1 Wrong Marks : 0

The bar graph shows the sale of books from four different branches X, Y, Z and A in three consecutive years. Calculate the total sale of books from branch Z.



Options :

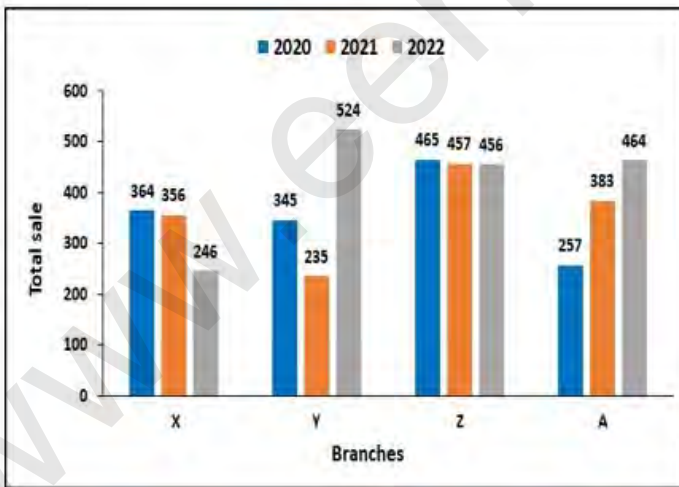
1. ✘ 1783
2. ✘ 1432
3. ✔ 1378
4. ✘ 1322

Question Number : 130 Question Id : 630680220053 Question Type : MCQ Option Shuffling : Yes Is Question Mandatory : No Calculator : None Response Time : N.A Think Time : N.A Minimum Instruction Time : 0 Negative Marks Display Text : 0.0

Correct Marks : 1 Wrong Marks : 0

బార్ గ్రాఫ్ వరుసగా మూడు సంవత్సరాలలో X, Y, Z మరియు A అనే నాలుగు వేర్వేరు శాఖల నుండి పుస్తకాల విక్రయాలను చూపుతుంది. Z శాఖ నుండి పుస్తకాల మొత్తం విక్రయాన్ని లెక్కించండి.

Total sale - మొత్తం అమ్మకాలు, Branches - శాఖలు



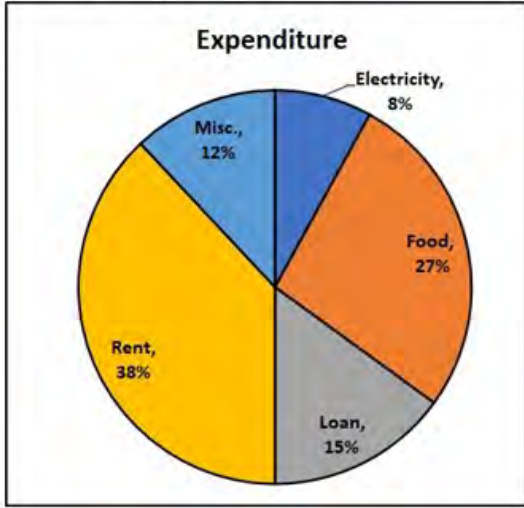
Options :

1. ✘ 1783
2. ✘ 1432
3. ✔ 1378
4. ✘ 1322

Question Number : 131 Question Id : 630680220054 Question Type : MCQ Option Shuffling : Yes Is Question Mandatory : No Calculator : None Response Time : N.A Think Time : N.A Minimum Instruction Time : 0 Negative Marks Display Text : 0.0

Correct Marks : 1 Wrong Marks : 0

The pie chart shows the monthly expense of Mr. Sharma. Find the difference in the expenditure on food and that on loan if his monthly salary is Rs. 25000?



Options :

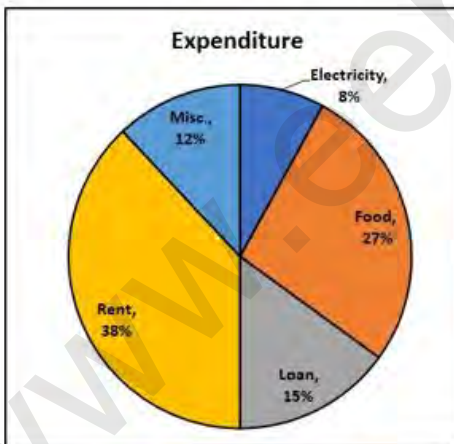
1. ✘ Rs. 5050
2. ✔ Rs. 3000
3. ✘ Rs. 7000
4. ✘ Rs. 1400

Question Number : 131 Question Id : 630680220054 Question Type : MCQ Option Shuffling : Yes Is Question Mandatory : No Calculator : None Response Time : N.A Think Time : N.A Minimum Instruction Time : 0 Negative Marks Display Text : 0.0

Correct Marks : 1 Wrong Marks : 0

'పై చార్ట్' శ్రీ శర్మ యొక్క నెలవారీ ఖర్చును చూపుతుంది. అతని నెలవారీ జీతం రూ. 25000 ఉంటే, ఆహారం మరియు రుణంపై ఖర్చులో గల భేదాన్ని కనుగొనండి?

Expenditure - ఖర్చు, electricity - విద్యుత్, Food - ఆహారం, Loan - లోన్, Rent - అద్దె, Misc- ఇతరత్రా



Options :

1. ✘ రూ. 5050
2. ✔ రూ. 3000
3. ✘ రూ. 7000
4. ✘ రూ. 1400

Question Number : 132 Question Id : 630680220055 Question Type : MCQ Option Shuffling : Yes Is Question Mandatory : No

Calculator : None Response Time : N.A Think Time : N.A Minimum Instruction Time : 0 Negative Marks Display Text : 0.0

Correct Marks : 1 Wrong Marks : 0

Fill in the blank with the most appropriate option.

In one epic battle, Shakti faces _____ invincible asura, Raktabija.

Options :

1. ✘ a
2. ✔ the
3. ✘ one
4. ✘ No word required

Question Number : 132 Question Id : 630680220055 Question Type : MCQ Option Shuffling : Yes Is Question Mandatory : No

Calculator : None Response Time : N.A Think Time : N.A Minimum Instruction Time : 0 Negative Marks Display Text : 0.0

Correct Marks : 1 Wrong Marks : 0

Fill in the blank with the most appropriate option.

In one epic battle, Shakti faces _____ invincible asura, Raktabija.

Options :

1. ✘ a
2. ✔ the
3. ✘ one
4. ✘ No word required

Question Number : 133 Question Id : 630680220056 Question Type : MCQ Option Shuffling : Yes Is Question Mandatory : No

Calculator : None Response Time : N.A Think Time : N.A Minimum Instruction Time : 0 Negative Marks Display Text : 0.0

Correct Marks : 1 Wrong Marks : 0

Fill in the blank with the most appropriate option.

This leads to _____ exhausting life of trying to satisfy them all.

Options :

1. ✘ a
2. ✘ the
3. ✘ one
4. ✔ an

Question Number : 133 Question Id : 630680220056 Question Type : MCQ Option Shuffling : Yes Is Question Mandatory : No

Calculator : None Response Time : N.A Think Time : N.A Minimum Instruction Time : 0 Negative Marks Display Text : 0.0

Correct Marks : 1 Wrong Marks : 0

Fill in the blank with the most appropriate option.

This leads to _____ exhausting life of trying to satisfy them all.

Options :

1. ✘ a
2. ✘ the
3. ✘ one
4. ✔ an

Question Number : 134 Question Id : 630680220057 Question Type : MCQ Option Shuffling : Yes Is Question Mandatory : No

Calculator : None Response Time : N.A Think Time : N.A Minimum Instruction Time : 0 Negative Marks Display Text : 0.0

Correct Marks : 1 Wrong Marks : 0

Fill in the blank with the most appropriate option.

He was shocked and dismayed by the sudden, _____ developments.

Options :

1. ✘ forecasted
2. ✔ unforeseen

- 3. ✘ acknowledged
- 4. ✘ budgeted

Question Number : 134 Question Id : 630680220057 Question Type : MCQ Option Shuffling : Yes Is Question Mandatory : No Calculator : None Response Time : N.A Think Time : N.A Minimum Instruction Time : 0 Negative Marks Display Text : 0.0

Correct Marks : 1 Wrong Marks : 0

Fill in the blank with the most appropriate option.

He was shocked and dismayed by the sudden, _____ developments.

Options :

- 1. ✘ forecasted
- 2. ✔ unforeseen
- 3. ✘ acknowledged
- 4. ✘ budgeted

Question Number : 135 Question Id : 630680220058 Question Type : MCQ Option Shuffling : Yes Is Question Mandatory : No Calculator : None Response Time : N.A Think Time : N.A Minimum Instruction Time : 0 Negative Marks Display Text : 0.0

Correct Marks : 1 Wrong Marks : 0

Fill in the blank with the most appropriate option.

He predicted that India would have to pay dearly for failure to act _____ China becomes stronger.

Options :

- 1. ✔ before
- 2. ✘ amidst
- 3. ✘ against
- 4. ✘ during

Question Number : 135 Question Id : 630680220058 Question Type : MCQ Option Shuffling : Yes Is Question Mandatory : No Calculator : None Response Time : N.A Think Time : N.A Minimum Instruction Time : 0 Negative Marks Display Text : 0.0

Correct Marks : 1 Wrong Marks : 0

Fill in the blank with the most appropriate option.

He predicted that India would have to pay dearly for failure to act _____ China becomes stronger.

Options :

- 1. ✔ before
- 2. ✘ amidst
- 3. ✘ against
- 4. ✘ during

Question Number : 136 Question Id : 630680220059 Question Type : MCQ Option Shuffling : Yes Is Question Mandatory : No Calculator : None Response Time : N.A Think Time : N.A Minimum Instruction Time : 0 Negative Marks Display Text : 0.0

Correct Marks : 1 Wrong Marks : 0

Which of these statements has a grammatical error?

Statement A: India was therefore taken by completely surprise politically, diplomatically and strategically.

Statement B: The two Guna soldiers who have succumbed to their injuries, will be honoured as clan heroes.

Options :

- 1. ✔ Only A
- 2. ✘ Only B
- 3. ✘ Both A and B
- 4. ✘ Neither A nor B

Question Number : 136 Question Id : 630680220059 Question Type : MCQ Option Shuffling : Yes Is Question Mandatory : No Calculator : None Response Time : N.A Think Time : N.A Minimum Instruction Time : 0 Negative Marks Display Text : 0.0

Correct Marks : 1 Wrong Marks : 0

Which of these statements has a grammatical error?

Statement A: India was therefore taken by completely surprise politically, diplomatically and strategically.

Statement B: The two Guna soldiers who have succumbed to their injuries, will be honoured as clan heroes.

Options :

1. ✓ Only A
2. ✗ Only B
3. ✗ Both A and B
4. ✗ Neither A nor B

Question Number : 137 Question Id : 630680220060 Question Type : MCQ Option Shuffling : Yes Is Question Mandatory : No Calculator : None Response Time : N.A Think Time : N.A Minimum Instruction Time : 0 Negative Marks Display Text : 0.0

Correct Marks : 1 Wrong Marks : 0

Which of these statements has a grammatical error?

Statement A: Shiva is unchange awareness while Shakti is his dynamic force who brings creation to life.

Statement B: Not dared even to look at each other, Harry and Ron followed Snape up the steps into the vast.

Options :

1. ✗ Only A
2. ✓ Only B
3. ✗ Both A and B
4. ✗ Neither A nor B

Question Number : 137 Question Id : 630680220060 Question Type : MCQ Option Shuffling : Yes Is Question Mandatory : No Calculator : None Response Time : N.A Think Time : N.A Minimum Instruction Time : 0 Negative Marks Display Text : 0.0

Correct Marks : 1 Wrong Marks : 0

Which of these statements has a grammatical error?

Statement A: Shiva is unchange awareness while Shakti is his dynamic force who brings creation to life.

Statement B: Not dared even to look at each other, Harry and Ron followed Snape up the steps into the vast.

Options :

1. ✗ Only A
2. ✓ Only B
3. ✗ Both A and B
4. ✗ Neither A nor B

Question Number : 138 Question Id : 630680220061 Question Type : MCQ Option Shuffling : Yes Is Question Mandatory : No Calculator : None Response Time : N.A Think Time : N.A Minimum Instruction Time : 0 Negative Marks Display Text : 0.0

Correct Marks : 1 Wrong Marks : 0

Arrange the following in chronological order:

- A. My mother asked me to bring the newspaper from the verandah.
- B. It was a bright sunny morning.
- C. I was mesmerised and I got lost staring at the bird.
- D. I went out and saw a beautiful blue bird.
- E. Fifteen minutes later, mother screamed from inside, as I had forgotten the newspaper.

Options :

1. ✗ DCBEA
2. ✓ BADCE
3. ✗ EACBD
4. ✗ DCAEB

Question Number : 138 Question Id : 630680220061 Question Type : MCQ Option Shuffling : Yes Is Question Mandatory : No Calculator : None Response Time : N.A Think Time : N.A Minimum Instruction Time : 0 Negative Marks Display Text : 0.0

Correct Marks : 1 Wrong Marks : 0

Arrange the following in chronological order:

- A. My mother asked me to bring the newspaper from the verandah.
- B. It was a bright sunny morning.
- C. I was mesmerised and I got lost staring at the bird.
- D. I went out and saw a beautiful blue bird.
- E. Fifteen minutes later, mother screamed from inside, as I had forgotten the newspaper.

Options :

- 1. ✘ DCBEA
- 2. ✔ BADCE
- 3. ✘ EACBD
- 4. ✘ DCAEB

Question Number : 139 Question Id : 630680220062 Question Type : MCQ Option Shuffling : Yes Is Question Mandatory : No Calculator : None Response Time : N.A Think Time : N.A Minimum Instruction Time : 0 Negative Marks Display Text : 0.0

Correct Marks : 1 Wrong Marks : 0

Which of these statements has a grammatical error?

Statement A: I suppose she chosen me because she knew my name.

Statement B: We find that in Hindu mythology Prakriti and Purusha or Shiva and Shakti are always find together.

Options :

- 1. ✘ Only A
- 2. ✘ Only B
- 3. ✔ Both A and B
- 4. ✘ Neither A nor B

Question Number : 139 Question Id : 630680220062 Question Type : MCQ Option Shuffling : Yes Is Question Mandatory : No Calculator : None Response Time : N.A Think Time : N.A Minimum Instruction Time : 0 Negative Marks Display Text : 0.0

Correct Marks : 1 Wrong Marks : 0

Which of these statements has a grammatical error?

Statement A: I suppose she chosen me because she knew my name.

Statement B: We find that in Hindu mythology Prakriti and Purusha or Shiva and Shakti are always find together.

Options :

- 1. ✘ Only A
- 2. ✘ Only B
- 3. ✔ Both A and B
- 4. ✘ Neither A nor B

Question Number : 140 Question Id : 630680220063 Question Type : MCQ Option Shuffling : Yes Is Question Mandatory : No Calculator : None Response Time : N.A Think Time : N.A Minimum Instruction Time : 0 Negative Marks Display Text : 0.0

Correct Marks : 1 Wrong Marks : 0

Which of these statements has a grammatical error?

Statement A: During the accident, he was in the other car, wasn't he?

Statement B: It didn't rain last night, did it?

Options :

- 1. ✘ Only A
- 2. ✘ Only B
- 3. ✘ Both A and B
- 4. ✔ Neither A nor B

Question Number : 140 Question Id : 630680220063 Question Type : MCQ Option Shuffling : Yes Is Question Mandatory : No Calculator : None Response Time : N.A Think Time : N.A Minimum Instruction Time : 0 Negative Marks Display Text : 0.0

Correct Marks : 1 Wrong Marks : 0

Which of these statements has a grammatical error?

Statement A: During the accident, he was in the other car, wasn't he?

Statement B: It didn't rain last night, did it?

Options :

1. ✘ Only A
2. ✘ Only B
3. ✘ Both A and B
4. ✔ Neither A nor B

Question Number : 141 Question Id : 630680220064 Question Type : MCQ Option Shuffling : Yes Is Question Mandatory : No Calculator : None Response Time : N.A Think Time : N.A Minimum Instruction Time : 0 Negative Marks Display Text : 0.0

Correct Marks : 1 Wrong Marks : 0

Fill in the blank with the most appropriate option.

I heard he owns a Ferrari as well, _____?

Options :

1. ✘ is he
2. ✔ doesn't he
3. ✘ has he
4. ✘ isn't he

Question Number : 141 Question Id : 630680220064 Question Type : MCQ Option Shuffling : Yes Is Question Mandatory : No Calculator : None Response Time : N.A Think Time : N.A Minimum Instruction Time : 0 Negative Marks Display Text : 0.0

Correct Marks : 1 Wrong Marks : 0

Fill in the blank with the most appropriate option.

I heard he owns a Ferrari as well, _____?

Options :

1. ✘ is he
2. ✔ doesn't he
3. ✘ has he
4. ✘ isn't he

Question Number : 142 Question Id : 630680220065 Question Type : MCQ Option Shuffling : Yes Is Question Mandatory : No Calculator : None Response Time : N.A Think Time : N.A Minimum Instruction Time : 0 Negative Marks Display Text : 0.0

Correct Marks : 1 Wrong Marks : 0

From the options chose the correct active voice form for the sentence given below.

An informal poll was taken by the student council.

Options :

1. ✘ Poll which was informal was taken by council of students.
2. ✔ The student council took an informal poll.
3. ✘ Council by students took an informal poll.
4. ✘ Informal poll was been taken by students council.

Question Number : 142 Question Id : 630680220065 Question Type : MCQ Option Shuffling : Yes Is Question Mandatory : No Calculator : None Response Time : N.A Think Time : N.A Minimum Instruction Time : 0 Negative Marks Display Text : 0.0

Correct Marks : 1 Wrong Marks : 0

From the options chose the correct active voice form for the sentence given below.

An informal poll was taken by the student council.

Options :

1. ✘ Poll which was informal was taken by council of students.
2. ✔ The student council took an informal poll.
3. ✘ Council by students took an informal poll.
4. ✘ Informal poll was been taken by students council.

Question Number : 143 Question Id : 630680220066 Question Type : MCQ Option Shuffling : Yes Is Question Mandatory : No

Calculator : None Response Time : N.A Think Time : N.A Minimum Instruction Time : 0 Negative Marks Display Text : 0.0

Correct Marks : 1 Wrong Marks : 0

Which of these 4 pairs of idiom and its meaning is the correct match?

Options :

1. ✘ Chill out : To swallow a drink
2. ✘ Drive you crazy : To give correct answer
3. ✘ Dead duck : To be calm
4. ✔ Hit the hay : To sleep

Question Number : 143 Question Id : 630680220066 Question Type : MCQ Option Shuffling : Yes Is Question Mandatory : No Calculator : None Response Time : N.A Think Time : N.A Minimum Instruction Time : 0 Negative Marks Display Text : 0.0

Correct Marks : 1 Wrong Marks : 0

Which of these 4 pairs of idiom and its meaning is the correct match?

Options :

1. ✘ Chill out : To swallow a drink
2. ✘ Drive you crazy : To give correct answer
3. ✘ Dead duck : To be calm
4. ✔ Hit the hay : To sleep

Question Number : 144 Question Id : 630680220067 Question Type : MCQ Option Shuffling : Yes Is Question Mandatory : No Calculator : None Response Time : N.A Think Time : N.A Minimum Instruction Time : 0 Negative Marks Display Text : 0.0

Correct Marks : 1 Wrong Marks : 0

Select the most appropriate meaning of the given idiom.

Great minds think alike

Options :

1. ✔ Smart people usually have same ideas
2. ✘ Everyone has their own ideas
3. ✘ Beginning is hardest
4. ✘ To have similar people around

Question Number : 144 Question Id : 630680220067 Question Type : MCQ Option Shuffling : Yes Is Question Mandatory : No Calculator : None Response Time : N.A Think Time : N.A Minimum Instruction Time : 0 Negative Marks Display Text : 0.0

Correct Marks : 1 Wrong Marks : 0

Select the most appropriate meaning of the given idiom.

Great minds think alike

Options :

1. ✔ Smart people usually have same ideas
2. ✘ Everyone has their own ideas
3. ✘ Beginning is hardest
4. ✘ To have similar people around

Question Number : 145 Question Id : 630680220068 Question Type : MCQ Option Shuffling : Yes Is Question Mandatory : No Calculator : None Response Time : N.A Think Time : N.A Minimum Instruction Time : 0 Negative Marks Display Text : 0.0

Correct Marks : 1 Wrong Marks : 0

Match the following words with their respective antonym.

A. Action	1. Ignorance
B. Resentful	2. Helping
C. Experience	3. Thoughts
D. Words	4. Lethargy

Options :

1. ✘ A-1, B-2, C-4, D-3
2. ✘ A-2, B-3, C-4, D-1
3. ✘ A-3, B-1, C-2, D-4
4. ✔ A-4, B-2, C-1, D-3

Question Number : 145 Question Id : 630680220068 Question Type : MCQ Option Shuffling : Yes Is Question Mandatory : No Calculator : None Response Time : N.A Think Time : N.A Minimum Instruction Time : 0 Negative Marks Display Text : 0.0 Correct Marks : 1 Wrong Marks : 0

Match the following words with their respective antonym.

A. Action	1. Ignorance
B. Resentful	2. Helping
C. Experience	3. Thoughts
D. Words	4. Lethargy

Options :

1. ✘ A-1, B-2, C-4, D-3
2. ✘ A-2, B-3, C-4, D-1
3. ✘ A-3, B-1, C-2, D-4
4. ✔ A-4, B-2, C-1, D-3

Question Number : 146 Question Id : 630680220069 Question Type : MCQ Option Shuffling : Yes Is Question Mandatory : No Calculator : None Response Time : N.A Think Time : N.A Minimum Instruction Time : 0 Negative Marks Display Text : 0.0 Correct Marks : 1 Wrong Marks : 0

Consider the following pairs:

- A. Wimp : Coward
- B. Dreamy : Real
- C. Camouflage : Cloak
- D. Shade : Shadow

Choose the correct pair of synonyms.

Options :

1. ✘ A & C only
2. ✘ A & D only
3. ✔ A, C & D only
4. ✘ A, B, C & D

Question Number : 146 Question Id : 630680220069 Question Type : MCQ Option Shuffling : Yes Is Question Mandatory : No Calculator : None Response Time : N.A Think Time : N.A Minimum Instruction Time : 0 Negative Marks Display Text : 0.0 Correct Marks : 1 Wrong Marks : 0

Consider the following pairs:

- A. Wimp : Coward
- B. Dreamy : Real
- C. Camouflage : Cloak
- D. Shade : Shadow

Choose the correct pair of synonyms.

Options :

1. ✘ A & C only
2. ✘ A & D only
3. ✔ A, C & D only
4. ✘ A, B, C & D

Question Number : 147 Question Id : 630680220070 Question Type : MCQ Option Shuffling : Yes Is Question Mandatory : No Calculator : None Response Time : N.A Think Time : N.A Minimum Instruction Time : 0 Negative Marks Display Text : 0.0

Correct Marks : 1 Wrong Marks : 0

Four words are given, out of which only one word is spelt correct. Choose the correctly spelt word.

Options :

1. ✓ EMBARRASS
2. ✗ FLOURESCENT
3. ✗ GAUGE
4. ✗ HYGEINE

Question Number : 147 Question Id : 630680220070 Question Type : MCQ Option Shuffling : Yes Is Question Mandatory : No Calculator : None Response Time : N.A Think Time : N.A Minimum Instruction Time : 0 Negative Marks Display Text : 0.0

Correct Marks : 1 Wrong Marks : 0

Four words are given, out of which only one word is spelt correct. Choose the correctly spelt word.

Options :

1. ✓ EMBARRASS
2. ✗ FLOURESCENT
3. ✗ GAUGE
4. ✗ HYGEINE

Question Number : 148 Question Id : 630680220071 Question Type : MCQ Option Shuffling : Yes Is Question Mandatory : No Calculator : None Response Time : N.A Think Time : N.A Minimum Instruction Time : 0 Negative Marks Display Text : 0.0

Correct Marks : 1 Wrong Marks : 0

Four words are given, out of which three words are spelt correctly. Choose the incorrectly spelt word.

Options :

1. ✗ AMATEUR
2. ✓ DEFINATELY
3. ✗ COMPARISON
4. ✗ COLLEAGUE

Question Number : 148 Question Id : 630680220071 Question Type : MCQ Option Shuffling : Yes Is Question Mandatory : No Calculator : None Response Time : N.A Think Time : N.A Minimum Instruction Time : 0 Negative Marks Display Text : 0.0

Correct Marks : 1 Wrong Marks : 0

Four words are given, out of which three words are spelt correctly. Choose the incorrectly spelt word.

Options :

1. ✗ AMATEUR
2. ✓ DEFINATELY
3. ✗ COMPARISON
4. ✗ COLLEAGUE

Question Number : 149 Question Id : 630680220072 Question Type : MCQ Option Shuffling : Yes Is Question Mandatory : No Calculator : None Response Time : N.A Think Time : N.A Minimum Instruction Time : 0 Negative Marks Display Text : 0.0

Correct Marks : 1 Wrong Marks : 0

Fill in the blank with the most appropriate option.

With a roar, the fire turned emerald green and _____ higher than Fred.

Options :

1. ✓ rose
2. ✗ rows
3. ✗ arose
4. ✗ raised

Question Number : 149 Question Id : 630680220072 Question Type : MCQ Option Shuffling : Yes Is Question Mandatory : No Calculator : None Response Time : N.A Think Time : N.A Minimum Instruction Time : 0 Negative Marks Display Text : 0.0

Correct Marks : 1 Wrong Marks : 0

Fill in the blank with the most appropriate option.

With a roar, the fire turned emerald green and _____ higher than Fred.

Options :

1. ✓ rose
2. ✗ rows
3. ✗ arose
4. ✗ raised

Question Number : 150 Question Id : 630680220073 Question Type : MCQ Option Shuffling : Yes Is Question Mandatory : No Calculator : None Response Time : N.A Think Time : N.A Minimum Instruction Time : 0 Negative Marks Display Text : 0.0 Correct Marks : 1 Wrong Marks : 0

Fill in the blank with the most appropriate option.

He said that the theatre's back door had _____ opened.

Options :

1. ✗ bean
2. ✗ bee
3. ✗ beam
4. ✓ been

Question Number : 150 Question Id : 630680220073 Question Type : MCQ Option Shuffling : Yes Is Question Mandatory : No Calculator : None Response Time : N.A Think Time : N.A Minimum Instruction Time : 0 Negative Marks Display Text : 0.0 Correct Marks : 1 Wrong Marks : 0

Fill in the blank with the most appropriate option.

He said that the theatre's back door had _____ opened.

Options :

1. ✗ bean
2. ✗ bee
3. ✗ beam
4. ✓ been