

STATE LEVEL POLICE RECRUITMENT BOARD

CONSTABLE

PREVIOUS PAPER - 2008

EXAM HELD ON 27-07-2008

Instructions (1-16): Pick up the correct **Synonyms** for each of the following words:

1. Redress:

1. relief 2. honour 3. regard 4. wish

2. Confess:

1. know 2. tell 3. reject 4. admit

3. Assent:

1. defeat 2. victory
3. consent 4. none of these

4. Recollect:

1. remember 2. gather
3. distribute 4. give

5. Error :

1. mistake 2. mischief
3. wrong 4. end

6. Presume :

1. convey 2. assume 3. anticipate 4. desire

7. Obligation :

1. debt 2. praise
3. compulsion 4. none of these

8. Contentment :

1. dissatisfaction 2. satisfaction
3. grudge 4. fondness

9. Reverence

1. deep respect 2. deep hate
3. relief 4. generosity

10. Excess:

1. super abundance 2. reach
3. confession 4. entry

11. Secure:

1. free 2. safe 3. secret 4. light

12. Valour :

1. ability 2. power 3. courage 4. knowledge

13. Admire :

1. praise 2. accept 3. reject 4. collect

14. Idle :

1. lazy 2. great
3. model 4. exceptional

15. Commence :

1. start 2. call 3. issue 4. expect

16. Ceiling :

1. roof 2. covering
3. desire 4. restriction

Instructions (17-24): In each of the following questions, choose the **alternative which can replace the word printed in bold** without changing the meaning of the sentence.

17. Smallpox is a **contagious** disease.

1. eastern 2. infectious
3. fatal 4. waterborne

18. Shivaji is known for his **valour**.

1. bravery 2. strength
3. administration 4. army

19. Mahatma Gandhi is held in **esteem** throughout the world.

1. reverence 2. praise
3. honour 4. respect

20. Everyone is free to choose his or her **career**.

1. job 2. profession 3. field 4. path

21. He entered into a **vacant** chamber.

1. empty 2. open
3. filled 4. none of these

22. India should have a strong army to **protect** itself against any attack.

1. fight 2. defend 3. save 4. target

23. He was involved in **illegal** acts like smuggling of drugs.

1. negative 2. wicked
3. bad 4. unlawful

24. It is bad to **doze** in the classroom.

1. sleep 2. fight 3. cry 4. laugh

Instructions (25-27): In each of the following questions, an idiomatic expression / a proverb has been given, followed by some alternatives. Choose the one which **expresses the meaning** of the given idiom or proverb:

25. To get rid of:

1. To get hold of 2. To be free from
3. To get ownership of 4. To get a present

26. Chicken hearted fellow:

1. a bold person 2. a timid person
3. a smart person 4. a tall person

27. Wear and tear:

1. loss of shape
2. injury caused by accident
3. injury caused by use 4. a great loss

Instructions (28-32): In each of the following sentences, a word has been printed in **bold**. Out of the given alternatives, choose the one which is closest to the **opposite meaning** of the word in **bold**.

28. Everybody sees a great **boom** in Indian economy.

1. downfall 2. growth
3. slump 4. curve

29. There were some **fresh** vegetables in the kitchen.

1. stale 2. old 3. dirty 4. dry

30. All the cultures of the world need to **unite**.
1. scatter 2. separate
3. part 4. mix
31. Now there is **surplus** of foreign currency in India.
1. extra 2. deficit 3. sufficient 4. shortage
32. The Sensex touched an all-time **high**.
1. down 2. fall 3. growth 4. low

Instructions (33-41): Choose one alternative which is **opposite in meaning** to the given word:

33. **Bold :**
1. weak 2. silent 3. timid 4. inactive
34. **Boom :**
1. slump 2. downfall 3. jump 4. none of these
35. **Pragmatic :**
1. serious 2. spiritual 3. idealistic 4. practical
36. **Rude :**
1. powerful 2. weak
3. polite 4. mannered
37. **Asset :**
1. burden 2. weight
3. property 4. liability
38. **Dawn :**
1. dusk 2. morning 3. noon 4. night
39. **Acquit :**
1. condemn 2. free 3. catch 4. target
40. **Precede :**
1. nearby 2. succeed 3. chase 4. capture
41. **Compulsory :**
1. voluntary 2. free
3. essential 4. none of these

సూచనలు: ఈ కింది వాక్యములలో, సరియైన దానిని ఎంపిక చేయుము.

42. ప్రాచీన భారతదేశంలో వైద్యముపై నిర్దిష్ట పుస్తకమును ఈ కింద పేర్కొన్న వారిలో రచించినది ఎవరు?
1. ఆర్యభట్ట 2. చరకుడు
3. నాగార్జునుడు 4. వరాహమిహిరుడు
43. ముస్లిమ్ దేశాలు మరియు ఇండియాలో నిషేధింపబడిన పుస్తకము యొక్క రచయిత
1. సల్మాన్ రష్దీ 2. జార్జ్ ఆర్వెల్
3. కె. ఆనఫ్ అలీ 4. వీరు ఎవరూ కాదు
44. ఆనంద్ మత్ రచయిత?
1. ఇక్బాల్ 2. బంకించంద్ర ఛటర్జీ
3. కారాశంకర బంధోపాధ్యాయ్ 4. వీరు ఎవరూ కాదు
45. 'ఇండియా విన్స్ ఫ్రీడమ్' వీరి యొక్క స్వీయ చరిత్ర
1. జవహర్లాల్ నెహ్రూ 2. మహాత్మా గాంధీ
3. మౌలానా అబుల్ కలాష్ ఆజాద్ 4. వీరు ఎవరూ కాదు
46. కాంతి ఏ విధమైన తరంగములను స్థాపించును?
1. యాంత్రిక తరంగములు
2. అయస్కాంత తరంగములు
3. విద్యుదయస్కాంత తరంగములు
4. పైన పేర్కొన్నవి ఏవీకావు
47. ఈ కింద పేర్కొనిన పుస్తకములలో గాంధీజీ రచించినది
1. దీస్కవరీ ఆఫ్ ఇండియా 2. మై ఎక్స్పెరిమెంట్స్ విత్ ట్రూత్
3. ఇండియా విన్స్ ఫ్రీడమ్ 4. ఫ్రీడమ్ ఎట్ మిడ్నైట్

48. అయిన్-ఈ-అక్బరీని రచించినది
1. ఫిరదౌసి 2. గాలిబ్
3. అబుల్ ఫజల్ 4. వీరు ఎవరూ కాదు
49. అర్థశాస్త్ర రచయిత ఎవరు?
1. కాళిదాసు 2. కౌటిల్యుడు
3. భవభూతి 4. వీరు ఎవరూ కాదు
50. మీరా బెన్ వీరి యొక్క శిష్యురాలు
1. వినోబాభావే 2. మహాత్మా గాంధీ
3. జయప్రకాష్ నారాయణ్ 4. రాణా ప్రతాప్
51. క్రీడా వస్తువులు ముఖ్యముగా ఇక్కడ తయారు చేయబడును
1. ముంబయి 2. లక్నో 3. జలంధర్ 4. మురాదాబాద్
52. ఈ కింది పేర్కొన్న క్రీడలలో 'సంతోష్ ట్రోఫీ' దేనికి సంబంధించినది?
1. క్రికెట్ 2. హాకీ 3. ఫుట్బాల్ 4. టేబుల్ టెన్నిస్
53. PHC (పి. హెచ్. సి) అనగా
1. పబ్లిక్ హెల్త్ సెంటర్ 2. ప్రైమరీ హెల్త్ సెంటర్
3. పర్ అవర్ కెపాసిటీ 4. పబ్లిక్ హెల్త్ కేర్
54. NREP (ఎన్.ఆర్.ఇ.సి.) అనగా
1. నేషనల్ రీజినల్ ఎంప్లాయిమెంట్ పాలసీ
2. నేషనల్ రూరల్ ఎంప్లాయిమెంట్ ప్రోగ్రామ్
3. నేషనల్ రూరల్ ఎంప్లాయిమెంట్ పాలసీ
4. ఇవి ఏవీ కావు
55. ద్రోణాచార్య చిరుడు దీనికి సంబంధించినది
1. ప్రపంచ కప్ హాకీ కెప్టెన్సీకి 2. క్రీడా శిక్షకులకు
3. ముష్టి యుద్ధ ఛాంపియన్షిప్ 4. ఇవి ఏవీ కావు
56. ఈ కింద పేర్కొన్న క్రీడలలో 'ఆగాఖాన్' కప్ దేనికి సంబంధించినది?
1. బాస్కెట్బాల్ 2. హాకీ
3. టేబుల్ టెన్నిస్ 4. ఫుట్బాల్
57. "ఈడెన్ గార్డెన్స్" స్టేడియమ్ ఇక్కడ ఉన్నది.
1. కోల్కతా 2. ముంబయి 3. చెన్నై 4. బెంగళూరు
58. INTERPOL (ఇంటర్పోల్) అనగా
1. ఇంటర్నేషనల్ క్రైమ్ పోలీస్ కమిషన్
2. ఇంటర్నేషనల్ పొలిటికల్ కాన్ఫరెన్స్
3. ఇంటర్నేషనల్ అసోసియేషన్ ఆఫ్ పోలీస్ ఆఫీసర్స్
4. ఇవి ఏవీ కావు
59. NPC (ఎన్.పి.సి.) అనగా
1. నేషనల్ పొలిటికల్ కాన్ఫరెన్స్ 2. నేషనల్ పొలిటికల్ కౌన్సిల్
3. నేషనల్ ప్రొడక్టివిటీ కమిటీ 4. నేషనల్ ప్రొడక్టివిటీ కౌన్సిల్
60. ప్రపంచములోని అతి పెద్ద కమ్యూనిస్ట్ రాజ్యము
1. చైనా 2. రష్యా 3. క్యూబా 4. ఘనా
61. ఇటీవల ముగిసిన యూరో 2008 ఫుట్బాల్ టోర్నమెంట్ ఫోటీలోని విజేత
1. డెన్మార్క్ 2. ఇటలీ 3. స్పెయిన్ 4. జర్మనీ
62. 2008 ఒలింపిక్స్ ఇక్కడ జరుగునని నిర్దేశించబడినది
1. బీజింగ్ 2. హాంగ్కాంగ్ 3. సియోల్ 4. షాంఘై
63. ఆంధ్రప్రదేశ్లోని జనాభాలో షెడ్యూల్డ్ కులములు మరియు షెడ్యూల్డ్ తరగతుల శాతము (సమీప శాతము)
1. 15% 2. 18% 3. 23% 4. 26%

64. ప్రపంచములోని రెండు పెద్ద ప్రజాస్వామ్యములు
1. ఇండియా మరియు చైనా 2. అమెరికా మరియు బ్రిటన్
3. అమెరికా మరియు రష్యా 4. అమెరికా మరియు ఇండియా
65. మానవ హక్కులవాది మరియు సాంఘికవాది అయిన అస్సా జహంగీర్ ఈ దేశపు పౌరుడు
1. పాకిస్తాన్ 2. ఇరాన్ 3. టర్కీ 4. బంగ్లాదేశ్
66. ఇటీవల ముగిసిన ఐ.పి.ఎల్. 20-20 క్రికెట్ టోర్నమెంట్ విజేత
1. ముంబయి ఇండియన్స్ 2. రాజస్థాన్ రాయల్స్
3. ఢిల్లీ డేర్ డెవిల్స్ 4. దక్కన్ ఛార్జర్స్
67. ఇండియన్ స్కూల్ ఆఫ్ బిజినెస్ ఇక్కడ ఉన్నది
1. అహ్మదాబాద్ 2. కోల్కతా
3. హైదరాబాద్ 4. బెంగళూరు
68. ఆంధ్రప్రదేశ్ లోని పట్టణ జనాభా సమీప శాతము
1. 15% 2. 18% 3. 27% 4. 33%
69. బావుల కాలుష్యమును ఇట్లు నిరోధించవచ్చును
1. వాటికి దగ్గరగా బోర్ వెల్స్ ను నెలకొల్పుట
2. వాటికి దగ్గరగా బోర్ వెల్స్ ను నెలకొల్పకుండా ఉండుట
3. మలమూత్ర విసర్జన గోతుల నుండి 15 నుండి 30 అడుగుల సురక్షిత దూరమును ఉంచుట
4. పైన పేర్కొన్నవి ఏవీ కావు
70. రక్త సంబంధీకుల మధ్య వివాహములు జరుగకుండా చూడవలెను ఎందుకనగా?
1. భార్యాభర్తలకు వ్యాధులు సంక్రమించును
2. దంపతులలో ఒకరికి వికలాంగము సంభవించవచ్చును
3. ఇట్టి వివాహబంధము గల దంపతులకు జనించు పిల్లలు వికలాంగులు కాగలరు
4. పైన పేర్కొన్నవి ఏవీ కావు
71. ITI అనునది దీనిని తెలుపును
1. ఇంఫార్మేషన్ టెక్నాలజీ ఇన్స్టిట్యూట్
2. ఇండస్ట్రియల్ ట్రైనినింగ్ ఇన్స్టిట్యూట్
3. ఇన్ఫర్మేషన్ టెక్నాలజీ ఇన్స్టిట్యూట్
4. ఇవి ఏవీ కావు
72. మలేతెయాను ప్రజలు నియంత్రించగలరు ఎప్పుడైతే
1. మరగబెట్టిన నీటిని త్రాగుట
2. పుష్టికరమైన ఆహారమును తినుట
3. వగిలిన కుండలు, పాత్రలు, విసర్జించిన బైర్లు మొదలైన వానిలో నిలువ నీరు లేకుండా చేయుట
4. పైన పేర్కొన్నవి ఏవీ కావు
73. విరేచనములను ఇట్లు నిరోధించవచ్చు
1. కూరగాయలను భుజించుట
2. పండ్లను భుజించుట
3. సురక్షితమైన, స్వచ్ఛమైన నీటిని త్రాగుట
4. పైన పేర్కొన్నవి ఏవీ కావు
74. మొక్కలు నాటుట చివరికి దీనికి దారితీయును
1. ఆహార ఉత్పత్తిలో పెరుగుదల
2. ఉద్యోగావకాశములలో పెరుగుదల
3. ఎగుమతుల పెరుగుదల
4. ఇవి ఏవీ కావు

75. అనార్థ భూమి రైతులు దీని ద్వారా లాభించవచ్చును
1. భూములను బీడు చేయడం ద్వారా
2. అనార్థ భూమి తోటకళను చేపట్టుట ద్వారా
3. నీటిపారుదల ప్రాజెక్టుల ద్వారా లభించే ప్రయోజనముల కొరకు నిరీక్షించడం ద్వారా
4. పైన పేర్కొన్నవి ఏవీ కావు
76. కింద పేర్కొన్న రాష్ట్రములలో ఏది బొగ్గు ఉత్పత్తిదారు కాదు?
1. పశ్చిమ బెంగాల్ 2. జార్ఖండ్
3. ఆంధ్రప్రదేశ్ 4. కేరళ
77. దక్షిణ మధ్య రైల్వే యొక్క ముఖ్య స్థానము ఇక్కడ ఉన్నది?
1. సికింద్రాబాద్ 2. విశాఖపట్టణం
3. హుబ్లీ 4. ఇవి ఏవీ కావు
78. ఆంధ్రప్రదేశ్ లో ఎన్.ఆర్.ఐ.పి. (NREP) అను ప్రోగ్రామ్ దీనికి ఉద్దేశించబడినది
1. రాష్ట్ర ప్రభుత్వ ఉద్యోగులు
2. ప్రభుత్వరంగ ఉద్యోగులు (పబ్లిక్ సెక్టర్)
3. నిరుద్యోగ గ్రామీణ జనాభా
4. ఇవి ఏవీ కావు
79. "స్వరాజ్యము నా జన్మహక్కు మరియు నేను దానిని పొంది తీరుతాను" దీనిని బహిరంగముగా సమర్థించినది
1. లాలా లజపతిరాయ్ 2. లోకమాన్య తిలక్
3. మహాత్మాగాంధీ 4. సర్దార్ పటేల్
80. ఈ కింది పేర్కొనిన రాష్ట్రములలో దేనితో ఆంధ్రప్రదేశ్ సరిహద్దు కలిగి ఉండలేదు?
1. ఒరిస్సా 2. మధ్యప్రదేశ్ 3. ఛత్తీస్ గఢ్ 4. మహారాష్ట్ర
81. ఈ కింద పేర్కొన్న జిల్లాలలో ఏ జిల్లాలో జిల్లాపరిషత్ లేదు?
1. రంగారెడ్డి 2. హైదరాబాద్
3. కృష్ణా 4. కర్నూల్
82. ఆరక్షణలో (రిజర్వేషన్) మండల్ కమిషన్ దీనితో సంబంధము కలిగి ఉన్నది
1. షెడ్యూల్డ్ కులములు 2. షెడ్యూల్డ్ తరగతులు
3. ఇతర వెనుకబడిన కులాలు 4. ఇవి ఏవీ కావు
83. NH9 (జాతీయ రహదారి నంబర్ 9) విజయవాడ నుండి హైదరాబాద్ మీదుగా వెళ్ళునప్పుడు దీనిని స్పర్శించును
1. బెంగళూరు 2. పూనే
3. నాగ్ పూర్ 4. ఇవి ఏవీ కావు
84. పొదుపు ప్రణాళిక అనునది దీని యొక్క అత్యవశ్యకమైన లక్షణము
1. మిత్రమ ఆర్థిక వ్యవస్థ 2. ద్వంద్వ ఆర్థిక వ్యవస్థ
3. సామ్యవాద ఆర్థిక వ్యవస్థ 4. పెట్టుబడిదారీ ఆర్థిక వ్యవస్థ
85. రుద్రమదేవి దీనికి సంబంధించిన వారు
1. శాతవాహనులు 2. కాకతీయులు
3. కళింగులు 4. విజయనగరులు
86. ప్రశీతనమునకు ఉపయోగపడు వాయువు ఏది?
1. సల్ఫర్ డై ఆక్సైడ్ 2. ఫాస్ఫిన్
3. అమ్మోనియా 4. క్లోరిన్
87. బుద్ధ దేవుడు తన మొదటి ప్రసంగమును ఇక్కడ బోధించెను
1. లుంబినీ 2. సారనాథ్ 3. సాంచి 4. గయ

88. కింది వానిలో ఏది అత్యధిక సాంద్రతను కలిగి ఉన్నది?

1. బంగారము ✓ 2. ఇనుము
3. వెండి 4. ఇత్తడి

89. ఆంధ్రప్రదేశ్ యొక్క మాక్రామ్ మొహిద్దీన్ ఒక ప్రసిద్ధమైన

1. విజ్ఞాని 2. కవి ✓
3. ఇంజనీర్ 4. ఇవి ఏవీ కావు

90. ఐ.పి.యల్. దక్కన్ ఛార్జర్స్ టీమ్ యొక్క కెప్టెన్

1. రోహిత్ శర్మ 2. వి.వి.యస్. లక్ష్మణ్ ✓
3. ఆర్.పి.సింగ్ 4. అడమ్ గిల్క్రిస్ట్

91. సప్రత్ ఫతే అలీఖాన్ ఒక సుప్రసిద్ధమైన

1. విజ్ఞాని 2. రాజకీయవాది ✓
3. గాయకుడు 4. కళాకారుడు

92. కింది పేర్కొన్న వానిలో ఏది అధికమైన పారిశ్రామికీకరణ ఆర్థిక వ్యవస్థను కలిగి ఉన్నది?

1. బంగాదేశ్ 2. ఇండోనేషియా ✓
3. నేపాల్ 4. సింగపూర్

93. కింది వానిలో ఏది లోహము కాదు?

1. అమ్మోనియా ✓ 2. జింక్
3. క్రోమియమ్ 4. సోడియమ్

94. 2008 ఫ్రెంచ్ ఓపెన్ లేడీస్ ఛాంపియన్షిప్ విజేత

1. అనా ఇవనోవిచ్ ✓ 2. జస్టిన్ హెనిన్ హార్డిన్
3. మరియా షరపోవా 4. జెలీనా జంకోవిచ్

95. 2 m, 39 cms పొడవు గల ఒక రాకెట్ను, 6 m, 75 cms పొడవు గల ఒక లాంచ్ పాడ్ శిఖరమున ఉంచినప్పుడు ఆ మొత్తము యూనిట్ (రాకెట్ మరియు లాంచ్ పాడ్) యొక్క పొడవు ఎంత?

1. 8.14 m 2. 9.14 m 3. 9.04 m 4. 8.04 m

96. 12.8ను 0.04 తో విభజించగా వచ్చునది?

1. 3.2 2. 320 3. 32 4. 0.32

97. ఒక కంప్యూటర్ యొక్క ధర రూ. 35,000 అయినప్పుడు, 20% ధర తగ్గింపుతో దాని అమ్మకపు వెల ఎంత?

1. రూ. 42,000 2. రూ. 28,000
3. రూ. 27,000 4. ఇవి ఏవీ కావు

98. సింగూర్, పశ్చిమ బెంగాల్లోని ఆటోమొబైల్ కర్మాగారమును స్థాపించినవారు

1. టాటా మోటార్స్ 2. బజాజ్ ఆటో
3. మహింద్రా & మహింద్రా 4. మారుతి సుజుకి

99. 2012 సమ్మర్ ఒలింపిక్స్ జరుగబోవు స్థలము

1. రియోడీజెనీరో 2. కొత్త ఢిల్లీ
3. లండన్ 4. లాస్ ఏంజెల్స్

100. $1\frac{1}{2}$ ను $\frac{1}{2}$ తో విభజించగా వచ్చునది?

1. 4 2. 3 ✓ 3. 2 4. 5

101. ఒక తరగతిలో బాలురు, బాలికల నిష్పత్తి 5 కు 8. అక్కడ 40 మంది బాలికలు గలరు. కింద పేర్కొన్న వానిలో ఏ అనుపాతము ను ఉపయోగించి బాలుర సంఖ్యను గణించవచ్చును?

1. $5/8 = 40/\text{బాలురు}$ 2. $5/40 = 8/\text{బాలురు}$
3. $8/40 = \text{బాలురు}/5$ 4. $5/8 = \text{బాలురు}/40$

102. 8.5% సంవత్సర వడ్డీ రేటుతో రూ.4,000ను ఒక పొదుపు ఖాతాలో ఉంచినప్పుడు, ఒక సంవత్సరములో ఎంత వడ్డీని సంపాదించగలవు?

1. రూ.300 2. రూ.485 3. రూ.340 4. రూ.430

103. ఒక ఫూలవర్తకుడు గులాబీ పువ్వులను ఒకటి రూ.0.50, పైసలకు కొని వాటిని ఒక పూవును రూ.1.00లకు అమ్మును. మరి ఏ ఇతర ఖర్చులు లేనప్పుడు రూ.300 లాభము సంపాదించవలయునన్న అతడు ఎన్ని గులాబీ పువ్వులను అమ్మవలెను?

1. 100 2. 150 3. 600 4. 300

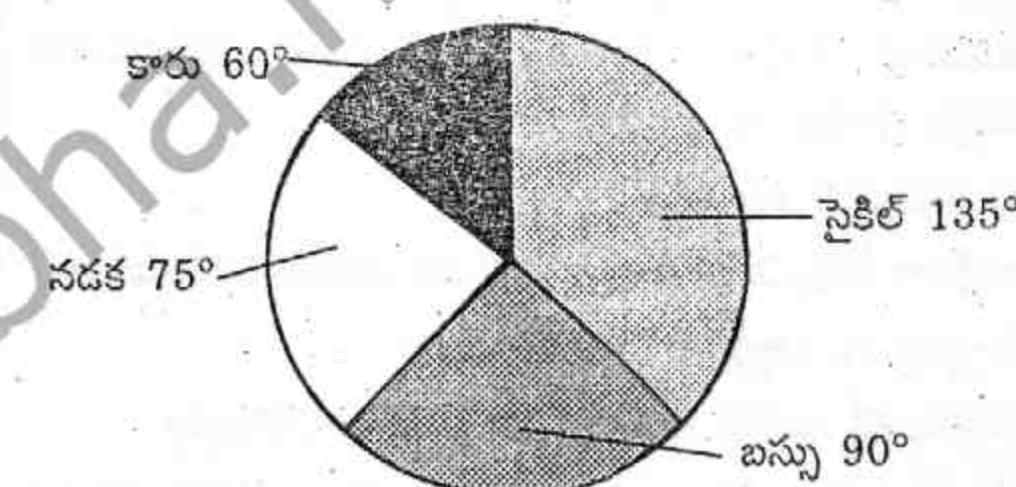
104. ఒక కుటుంబములోని 6 మంది సభ్యుల సరాసరి వయస్సు 25 సంవత్సరములు. ఆ కుటుంబము 45 సంవత్సరములు గల ఒక సభ్యుని మరణము తరువాత ఆ కుటుంబము యొక్క సరాసరి వయస్సు?

1. 20 2. 21 3. 22 4. 23

105. ఒక చదరము యొక్క వైశాల్యము 100. వికర్ణము యొక్క పొడవు సుమారుగా

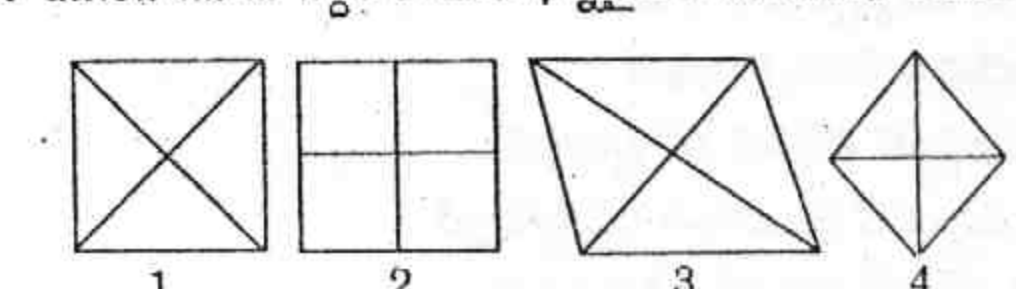
1. 12 2. 13 3. 14 4. 15

106. ఒక పబ్లిక్ స్కూల్కు ఒక నిర్దిష్టమైన కాలనీ నుండి 48 విద్యార్థులు వచ్చిరి. కింద ఇవ్వబడిన వలయ చార్టు (Pie chart) సహాయముతో స్కూలుకు ఎంత మంది విద్యార్థులు నడిచి వెళ్ళినారని కనుగొనుము

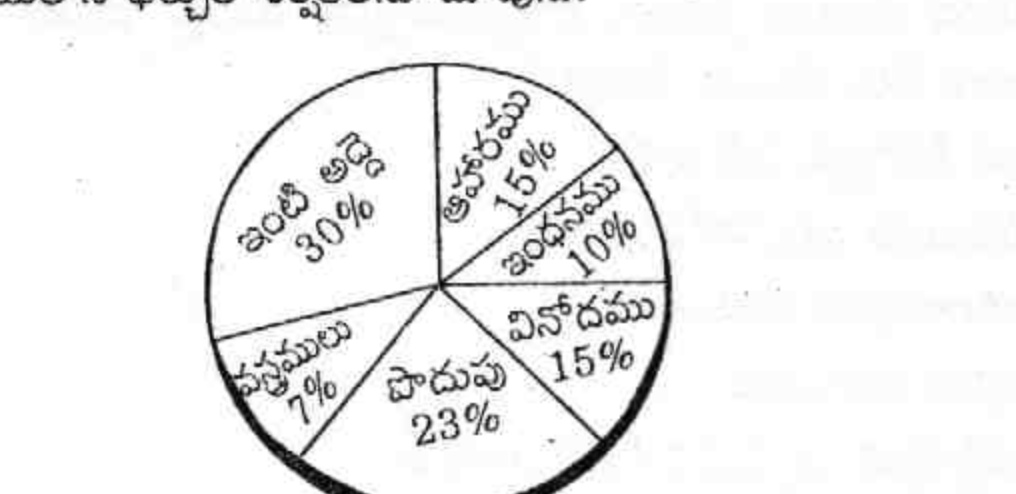


1. 12 2. 10 3. 18 4. 8

107. మిగిలిన మూడు నిర్దేశాల కంటే భిన్నమైన దానిని ఎంపిక చేయుము



నిర్దేశాలు (108-111): ఈ కింద ఇవ్వబడిన ప్రశ్నలకు దిగువ ఇవ్వబడిన వలయ చార్టు (Pie chart) ఆధారముగా సమాధానములు ఇవ్వవలెను. ఈ వలయ చార్టు ఒక వ్యక్తి యొక్క మాసాంతర జీతము ఏ విధముగా పంపిణీ చేయబడినదో చూపించును. ఈ వలయ చార్టు ఒక వ్యక్తి యొక్క నెల జీతములోని ఖర్చుల శీర్షికలను చూపును.



108. ఒక వ్యక్తి యొక్క నెలసరి వేతనము రూ. 6,000, అతడు నెలకు రూ.1,000లకు పైగా ఎన్ని అంశములపై ఖర్చు చేయవలెను?

1. 1 2. 2 3. 3 4. 4

109. అతని సాంవత్సరిక పొదుపు ఎంత ఉండగలదు?

1. రూ. 5,000 2. రూ. 10,000
3. రూ. 15,000 4. రూ. 16,560

110. కింది పేర్కొన్న వానిలో ఏ అంశమునకు అదే వ్యక్తి నెలకు రూ. 1,800 ఖర్చు చేయవలసి ఉండును?

1. పెట్రోల్ 2. ఇంటి అద్దె 3. ఆహారము 4. వస్త్రములు

111. ఇంధనము ఖర్చును సూచించు రంగము వలయ చార్టులోని కేంద్రము వద్ద ఏ కోణము తయారుచేయును?

1. 30° 2. 45° 3. 36° 4. 90°

112. మొన్న గురువారమైనప్పుడు, ఆదివారము ఎప్పుడు వచ్చును?

1. ఈ రోజు 2. ఈరోజు తరువాత రెండు రోజులు
3. రేపు 4. ఎల్లండి

113. ఎనిమిది దాటి అర్థగంట వద్ద గడియారము యొక్క ముళ్ళు ఏ కోణము వద్ద వాలుగా ఉండును?

1. 70° 2. 80° 3. 75° 4. 60°

114. ఒక వరుసలోని పిల్లలలో సునిల్ కుడివైపునుండి 16వ స్థానములో, ఒస్మాన్ ఎడమవైపు నుండి 13వ స్థానములో ఉన్నారు. వారిద్దరూ పరస్పరమూ స్థానములను మార్చినప్పుడు సునిల్ కుడివైపునుండి 25వ స్థానములో ఉన్నాడు. ఆ వరుసలోని బాలురు ఎందరు?

1. 39 2. 37 3. 38 4. 41

115. ఒక చదరము తోట యొక్క వైశాల్యము 576 చదరపు మీటర్లు. ఆ తోట యొక్క చుట్టుకొలత ఎంత?

1. 86 మీటర్లు 2. 96 మీటర్లు
3. 28 మీటర్లు 4. 24 మీటర్లు

116. బ్రహ్మాన్ మిసైల్ ఇక్కడ తయారు చేయబడినది

1. యు.ఎస్.ఎ. 2. చైనా
3. యు.కె. 4. ఇవి ఏవీ కావు

117. కంప్యూటర్ సమాచారమును ఈ విధముగా నిక్షిప్తము చేయును

1. శూన్యము (0) మరియు ఒకట్లు (1)
2. దశాంకములు
3. వర్ణమాలలు
4. ఇవి ఏవీ కావు

118. సక్సల్బరీ ఉద్యమము ఇక్కడ మొదటి ప్రారంభించబడినది

1. ఆంధ్రప్రదేశ్ 2. ఒరిస్సా
3. మధ్యప్రదేశ్ 4. ఇవి ఏవీ కావు

119. ఇటీవల జరిగిన ఒక సంఘటనలో అరుషి అనే చిన్న బాలిక హత్య చేయబడినది. ఆ సంఘటన జరిగిన స్థలము

1. న్యూఢిల్లీ 2. విజయవాడ 3. హైదరాబాద్ 4. ఉత్తరప్రదేశ్

120. ఒక స్వచ్ఛంద పతన వస్తువు భూమిని తాకుటకు తీసికొను సమయమును ఇట్లు పిలిచెదరు

1. పతన సమయం 2. ఆరోహణ సమయం
3. ఆకాశంలో ఎగిరే సమయం 4. ఇవి ఏవీ కావు

121. CPU యొక్క పూర్ణ ఆకృతి

1. సెంట్రల్ ప్రొగ్రామ్ యూనిట్
2. సెంట్రల్ ప్రొసెసింగ్ యూనిట్
3. సెంట్రల్ ప్రింటింగ్ యూనిట్
4. సెంట్రల్ ప్రెసింగ్ యూనిట్

122. విద్యుత్ శక్తిని కాంతి శక్తిగా మార్చు ఉపకరణము

1. డైనమో 2. మోటార్
3. బ్యాటరీ సెల్ 4. ఇవి ఏవీ కావు

123. గురుత్వాకర్షణ సిద్ధాంతము

1. విస్తృత పరిధి గల పదార్థములైన గ్రహములకు మరియు సక్షత్రములు వంటి పదార్థములకు మాత్రమే వర్తించును
2. అన్ని వ్యక్త బలములను పరిగణనలోనికి తీసికొనును
3. సౌర కుటుంబమును మాత్రమే నిగ్రహించును
4. ప్రపంచములో ఏ ప్రదేశమునైనా నిగ్రహించును

124. చంద్రుడు దీని యొక్క ఒక సహజ ఉపగ్రహము

1. సూర్యుడు 2. భూమి
3. శుక్రుడు 4. ఇవి ఏవీ కావు

125. గణన యంత్రము (computer) వీటిని చేయగలదు

1. అంకగణిత ప్రక్రియలు
2. తార్కిక ప్రక్రియలు
3. పెద్ద మొత్తములో వివరములను నిలువ చేయగలదు
4. పైన పేర్కొన్నవన్నీ

126. పరారుణ వికిరణము దీని యొక్క ఆకృతి తప్ప మరేది కాదు

1. ధ్వని శక్తి 2. కాంతి శక్తి
3. ఉష్ణ శక్తి 4. ఇవి ఏవీ కావు

127. ఒక విద్యుత్ ఇనుము విద్యుత్ శక్తిని ఇట్లు మార్చును

1. ఉష్ణ శక్తి 2. కాంతి శక్తి
3. యాంత్రిక శక్తి 4. రసాయనిక శక్తి

128. ఈ కింద పేర్కొన్న రంగములలో టెన్సింగ్ నార్థే దేనిలో ప్రసిద్ధుడు

1. ముష్టి యుద్ధము 2. సైకిల్ మీద పోవుట
3. పర్యవేక్షణము 4. హాకీ

129. 'ఇండియా యొక్క నైటింగేల్' గా పేరొనబడిన వారు

1. విజయలక్ష్మి పండిట్ 2. సరోజినీ నాయుడు
3. సురయా 4. వీరు ఎవరూ కాదు

130. ఎవరెస్ట్ పర్వతమున అధిరోహించిన మొదటి భారతీయ వనిత?

1. పూ దోర్జీ 2. అంగ్ దోర్జీ
3. బచేంద్రీ పాల్ 4. వీరు ఎవరూ కారు

131. మార్షిన్ లూథర్కింగ్ ఒక

1. సాంఘిక సంస్కర్త
2. ఐక్యరాజ్యసమితి యొక్క సెక్రటరీ జనరల్
3. బ్లాక్ యు.ఎస్. పౌరహక్కుల నాయకుడు
4. ఇవి ఏవీ కావు

132. ఈ కింది పేర్కొన్న వానిలో ఏది ఇటీవలి పుట్టిన మతము

1. జుడాయిజమ్ 2. ఇస్లాం
3. క్రైస్తవ మతము 4. హిందూ మతము

133. "ఇండియా యొక్క ఉక్కు మనిషి"గా పేరొనబడిన వారు

1. జవహర్లాల్ నెహ్రూ 2. బాలగంగాధర్ తిలక్
3. సర్దార్ వల్లభాయ్ పటేల్ 4. మహాత్మాగాంధీ

134. ప్రపంచము చుట్టూ సముద్ర యానము చేసిన మొదటి సముద్ర యాత్రికుడు

1. మార్కోపోలో 2. కొలంబస్
3. అముండ్సేన్ 4. మాజిలాన్

135. మదర్ థెరిసా జన్మస్థలము

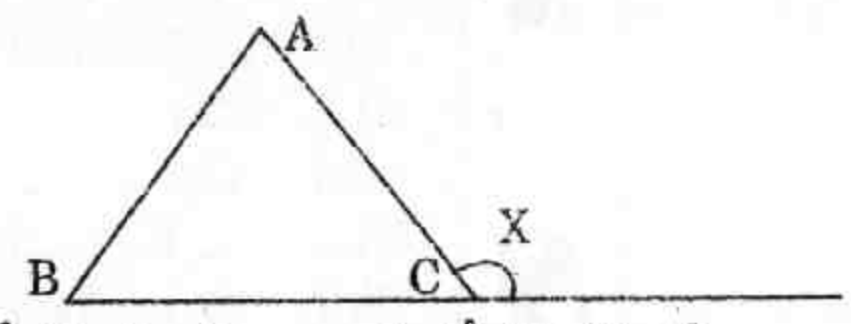
1. స్విట్జర్లాండ్ 2. ఇండియా
3. జర్మనీ 4. అల్బేనియా

136. ప్రపంచము యొక్క అతి పురాతనమైన మతము?
 1. జుడాయిజమ్ 2. ఇస్లాం
 3. క్రైస్తవ మతము 4. హిందూ మతము
137. అజంతా గుహలు దీనికి ప్రసిద్ధి చెందినవి
 1. బుద్ధుని జీవితమును చిత్రించిన అసాధారణ కుడ్య చిత్రములు
 2. అసాధారణమైన సున్నపు రాతి భాగములు
 3. ఇక్కడ ఒక కొత్త నాగరికత కనుగొనబడినది
 4. శ్రీరామచంద్రుడు ఇక్కడ కొన్ని సంవత్సరములు గడిపెను
138. "శ్రీహరికోట" దీనికి ప్రసిద్ధి చెందినది
 1. ఉపగ్రహ ప్రయోగ స్థలం 2. ఉష్ణశక్తి స్థలం
 3. ఏర్ బేస్ 4. ద్రవ గురుత్వ శక్తి స్థలం
139. అబుల్ కలామ్ ఆజాద్ యొక్క ప్రసిద్ధి చెందిన రచన
 1. ఇండియా విన్స్ ఫ్రీడమ్ 2. ఫేసన్ ఆఫ్ ఎవరెస్ట్
 3. టూ లీప్స్ అండ్ ఎ బడ్ 4. ది విలేజ్
140. ఇండియాలో మొగల్ సామ్రాజ్య స్థాపకుడు ఎవరు?
 1. అక్బర్ 2. బైరామ్ ఖాన్
 3. షేర్ షా సూరి 4. వీరు ఎవరూ కారు
141. ఒక లౌకిక రాజ్యము అనగా
 1. ఒక మత వ్యతిరేక రాజ్యము
 2. ఒక మత అనుకూల రాజ్యము
 3. ఒక మతరహిత రాజ్యము
 4. మత వ్యవహారములలో ఒక తటస్థ రాజ్యము
142. ఇండియా మరియు చైనా మధ్యగల సరిహద్దు రేఖను ఇట్లు పిలిచెదరు
 1. మెక్మోహన్ లైన్ 2. డ్యూరాండ్ లైన్
 3. రెడ్ లైన్ 4. రాడ్ క్లిఫ్ లైన్
143. పురాతన భారతీయ భాష
 1. తెలుగు 2. హిందీ 3. తమిళం 4. పంజాబీ
144. 'భారత రాజ్యాంగ పిత' అని పేర్కొనబడిన వారు
 1. బి. ఆర్. అంబేద్కర్ 2. బంకించంద్ర ఛటర్జీ
 3. అబ్దుల్ గఫర్ ఖాన్ 4. లాల్ బహదూర్ శాస్త్రి
145. ఇండియాలో మొగల్ వంశములోని చివరి కడపటి పరిపాలకుడు
 1. ఔరంగజేబు 2. సిరాజ్ ఉద్దౌలా
 3. బహదూర్ షా జాఫర్ 4. వీరు ఎవరూ కారు
146. ఆంధ్రప్రదేశ్ లోని మొత్తము అక్షరాస్యత శాతము
 1. 50% 2. 60.5% 3. 55.5% 4. 65%
147. "బలిమెల" రిజర్వాయర్ ఇక్కడ ఉన్నది
 1. ఖమ్మం 2. ఒరిస్సా
 3. శ్రీకాకుళం 4. ఇవి ఏవీ కావు
148. "బాసర" ఈ కింద పేర్కొన్న దానిని నెలకొల్పు ప్రదేశముగా ఎంపిక చేయబడినది
 1. ఇండియన్ ఇన్స్టిట్యూట్ ఆఫ్ టెక్నాలజీ
 2. నేషనల్ ఇన్స్టిట్యూట్ ఆఫ్ టెక్నాలజీ
 3. బిర్లా ఇన్స్టిట్యూట్ ఆఫ్ టెక్నాలజీ
 4. ఇవి ఏవీ కావు
149. మొదక్ పట్టణము యొక్క బాగుగా ఎరిగిన సంకేత స్థలము
 1. మొదక్ కోట 2. మొదక్ చర్చ్
 3. చక్కెర కర్మాగారము 4. ఇవి ఏవీకావు

150. కొత్త రాజీవ్ గాంధీ అంతర్జాతీయ విమానాశ్రయం, శంషాబాద్, హైదరాబాద్ ను నిర్మించి, ప్రమోట్ చేసినది
 1. రిలయన్స్ ఇన్ఫ్రాస్ట్రక్చర్ 2. జి.ఎమ్.ఆర్.
 3. జి.వి.కె. 4. గామన్
151. "ఒంటిమిట్ట" ప్రసిద్ధమైనది మరియు ఈ కింది పేర్కొన్న వానితో సంబంధించినది
 1. శివ దేవాలయము 2. అన్నమాచార్య
 3. శంకరాచార్య 4. ఇవి ఏవీ కావు
 (సరియైన జవాబు: కోదండరామస్వామి ఆలయం)
152. "దేవదుల" ప్రాజెక్ట్ ఇక్కడ ఉన్నది
 1. ఆదిలాబాద్ 2. కరీంనగర్
 3. ఖమ్మం 4. ఇవి ఏవీకావు
153. హైదరాబాద్ రాష్ట్రమును పరిపాలించిన చివరి నిజాం
 1. మీర్ ఉస్మాన్ అలీ ఖాన్ 2. మెహబూబ్ అలీ ఖాన్
 3. ముఫాకమ్ జా 4. వీరు ఎవరూ కారు
154. "థింసా" నాట్యము ఈ కింది అటవీ ప్రాంతములో సాధారణముగా కనిపించునది
 1. ఆదిలాబాద్ 2. వరంగల్
 3. విశాఖపట్టణం 4. మహబూబ్ నగర్
155. కాగితము అనునది ఒక అమూల్యమైన పనరు. ఎందువలన అనగా అది కింద పేర్కొన్న దాని నుండి తీయబడినది
 1. వస్త్రము 2. పెట్రోలియం 3. వృక్షము 4. పైవేవీకావు
156. దేవాలయ పట్టణము 'బాసర' ఇక్కడ ఉన్నది
 1. ఆదిలాబాద్ 2. నిజామాబాద్
 3. మెదక్ 4. కరీంనగర్
157. చీరలకు ప్రసిద్ధి చెందిన "పోచంపల్లి" ఇక్కడ ఉన్నది
 1. వరంగల్ 2. రంగారెడ్డి
 3. మహబూబ్ నగర్ 4. నల్గొండ
158. గదర్ పార్టీ ఇక్కడ స్థాపించబడినది
 1. బ్రిటిష్ ఇండియా 2. బ్రిటన్
 3. యు.ఎస్.ఎ. 4. పైన పేర్కొన్నవి కావు
159. 1932 శ్రీబాగ్ ఒప్పందం దీనితో సంబంధించినది
 1. ఆంధ్ర-తెలంగాణా నాయకులు
 2. ఆంధ్ర-రాయలసీమ నాయకులు
 3. ఆంధ్ర-తమిళ నాయకులు
 4. ఇవి ఏవీకావు
160. తిరుపతి ఎట్లు చిత్తూరు జిల్లాలో ఉన్నదో, అదే విధముగా లేపాక్షి ఇక్కడ ఉన్నది
 1. కర్నూలు 2. కడప
 3. చిత్తూరు 4. ఇవి ఏవీ కావు
161. ద్వారక తిరుమల ఇక్కడ ఉన్నది
 1. కృష్ణా 2. తూర్పు గోదావరి
 3. గుంటూరు 4. పైన పేర్కొన్నవి ఏవీ కావు
 (సరియైన జవాబు: పశ్చిమ గోదావరి)
162. 'చార్మినార్' ను నిర్మించినది
 1. నిజాం పాలకులు 2. కుతుబ్ షాహీ పాలకులు
 3. మొగల్ పాలకులు 4. టిప్పు సుల్తాను

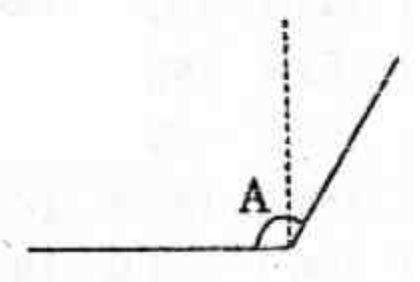
163. "సురవరం ప్రతాపరెడ్డి" అను పేరుకు దీనితో దగ్గర సంబంధము కలదు
1. కమ్యూనిస్ట్ పార్టీ ఆఫ్ ఇండియా
 2. ఆంధ్రమహాసభ
 3. కాంగ్రెస్ పార్టీ
 4. ఇవి ఏవీ కావు
164. భారతీయ కరెన్సీ నోట్లు ఎక్కడ ముద్రించబడును?
1. కొత్త ఢిల్లీ
 2. ముంబయి
 3. కోల్కతా
 4. నాసిక్
165. ఈ మధ్యలో వార్తలలోనికి ఎక్కిన తస్లీమా నస్రీన్ ఈ ప్రాంతమునకు చెందినవారు
1. లక్నో
 2. బంగాదేశ్
 3. పాకిస్తాన్
 4. ఇవి ఏవీకావు
166. గ్రేహౌండ్స్ అనునది ఈ రాష్ట్రములోని పోరాడు శక్తి
1. మధ్యప్రదేశ్
 2. ఆంధ్రప్రదేశ్
 3. మహారాష్ట్ర
 4. తమిళనాడు
167. 'బాల కార్మికత' అనునది ఈ వయస్సుకు కింద పనిచేయు వారికి వర్తింతును
1. 14
 2. 15
 3. 17
 4. 16
168. గుడ్ ఫ్రైడే అనునది ఒకసంఘటన
1. కొత్త సంవత్సరము
 2. భారమైన మత విధి
 3. సంతోషకరమైనది
 4. ఇవి ఏవీకావు
169. ఈ కింది వానిలో ఏది ఇండియా యొక్క అతి పెద్ద వ్యవసాయక పరిశ్రమ
1. వస్త్రములు
 2. చక్కెర
 3. నార
 4. జనపనార
170. శ్రీశైలం ఆనకట్ట ఈ నదిపై నిర్మింపబడినది
1. తుంగభద్ర
 2. కృష్ణా
 3. గోదావరి
 4. పెన్నా
171. నేషనల్ పోలీస్ అకాడమీ ఇక్కడ ఉన్నది
1. చెన్నై
 2. హైదరాబాద్
 3. బెంగళూరు
 4. ముంబయి
172. మొహరమ్ అనునది ఒకసంఘటన
1. కొత్త సంవత్సరము
 2. భారమైన మత విధి
 3. సంతోషకరమైనది
 4. ఇవి ఏవీ కావు
173. వాలీబాల్ క్రీడలో ఒక్కొక్క వైపు ఆటగాళ్ళ సంఖ్య
1. 8
 2. 5
 3. 7
 4. 6
174. "ది వింగ్స్ ఆఫ్ ఫైర్" ఒక స్వీయచరిత్రను రచించినవారు
1. డా॥ ఎ.పి.జె. అబ్దుల్ కలామ్
 2. శోభాదే
 3. అటల్ బిహారీ వాజ్పాయి
 4. కె.ఆర్.నారాయణన్
175. ఇండో-అమెరికా అణుశక్తి ఒప్పందమును తీవ్రముగా ఎదిరించిన ఒక జాతీయ పార్టీ
1. సమాజ్ వాది పార్టీ
 2. కమ్యూనిస్ట్ పార్టీ (మార్క్సిస్ట్)
 3. రాష్ట్రీయ లోక్ దళ్
 4. రాష్ట్రీయ జనతాదళ్
176. 'హవాలా' అనునది
1. నీతిబద్ధమైన ఆర్థిక చర్య
 2. ఒక భవనము యొక్క పేరు
 3. ఒక తీపి పదార్థము యొక్క పేరు
 4. చట్ట విరోధమైన ద్రవ్య బదలాయింపు

177. అతి పెద్ద పబ్లిక్ ట్రాన్స్పోర్ట్స్ అండర్టేకింగ్ ఆఫ్ ఇండియా ఈ రాష్ట్రమునకు చెందినది
1. తమిళనాడు
 2. మహారాష్ట్ర
 3. ఆంధ్రప్రదేశ్
 4. మధ్యప్రదేశ్
178. ఈ కింది రంగములో డా॥ఎమ్.ఎన్. సుబ్బులక్ష్మి ప్రసిద్ధి పొందినది
1. కథక్
 2. భరత నాట్యము
 3. వయలిన్
 4. గాత్ర సంగీతం
179. ఈ మధ్యలో, ఒక త్రొక్కినలాటలో ఆరు మంది మరణించిన ఒక దేవాలయ పట్టణము
1. యాదగిరిగుట్ట
 2. పూర్
 3. తిరుపతి
 4. మదురై
180. 'ఆరోగ్య శ్రీ' పథకము వీరి ప్రయోజనము కొరకు ఉద్దేశించబడినది
1. డాక్టర్లకు మాత్రమే
 2. ప్రభుత్వ ఉద్యోగులకు మాత్రమే
 3. పేద ప్రజలకు మాత్రమే
 4. పైవేవీకావు
181. ప్రపంచములోని అతి పెద్ద ప్రయాణీకుల విమానము ఏది?
1. ఎయిర్ బస్ A-380
 2. బోయింగ్ 747
 3. గాలక్సీ C5A
 4. హెర్క్యులస్ C-130
182. లక్ష్మి 3.45 పి.యమ్.కు నాట్యం తరగతికి బయలుదేరినది. ఆమె ఇంటి నుండి డాన్స్ విశ్వవిద్యాలయమునకు 15 నిమిషములు నడువవలెను. ఆమె డాన్స్ తరగతి 1 1/2 గంటల సేపు జరుగును. నేరుగా ఆమె ఇంటికి వెళ్ళవలయును అనిన ఆమె ఎన్ని గంటలకు వచ్చును?
1. 6.15 పి.యమ్.
 2. 5.45 పి.యమ్.
 3. 5.15 పి.యమ్.
 4. 5.30 పి.యమ్.
183. ఒక 90° గల త్రిభుజము ఎల్లప్పుడు?
1. ఒక గురు త్రిభుజము
 2. ఒక లఘు త్రిభుజము
 3. ఒక సమకోణ త్రిభుజము
 4. ఒక సమబాహు త్రిభుజము
184. ఒక నీటి తొట్టె యొక్క కొలతలు 1 మీ × 3 మీ × 2/3 మీ గా ఉన్నప్పుడు దాని క్షమత ఎంత?
1. 1 క్యూబిక్ మీటర్
 2. 2 క్యూబిక్ మీటర్
 3. 3 క్యూబిక్ మీటర్
 4. 1.5 క్యూబిక్ మీటర్
185. ఈ కింది పటములో X కోణము ఎంత?



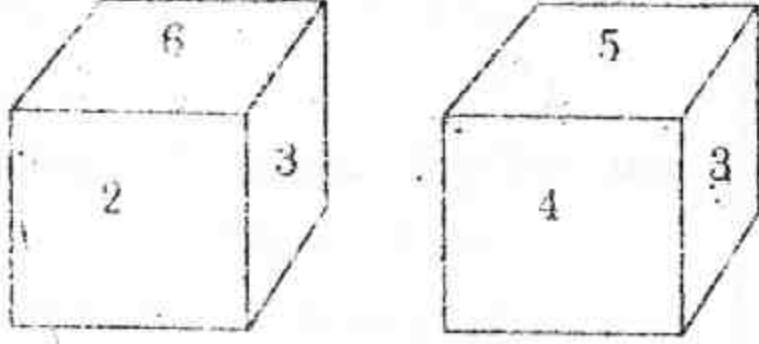
1. కోణము A + B
2. కోణము B + C
3. కోణము A + C
4. 180° కోణము B

186. కింది పటములో A కోణము ఏది?



1. లఘు కోణము
2. గురు కోణము
3. అతిపెద్ద కోణము
4. పూరక కోణము

187. ఒక దీర్ఘచతురస్రము యొక్క చుట్టుకొలత 24 మీటర్లు. ఆసన్న పార్శ్వముల యొక్క కొలతలు?
1. 6 మీ మరియు 4 మీ 2. 9 మీ మరియు 3 మీ
3. 11 మీ మరియు 13 మీ 4. 2 మీ మరియు 12 మీ
188. మాడు చరిక్షల తర్వాత అబ్దుల్ యొక్క సరాసరి మార్కులు 88. అతని సరాసరి సరిగ్గా 90 కి ఎడగవలెనన్న నాల్గవ పరీక్షలో అతడు ఎన్ని మార్కులు సంపాదించవలెను?
1. 92 2. 94 3. 96 4. 93
189. ఒక పాచిక యొక్క రెండు స్థితులు కింద ఇవ్వబడినది. అడుగున 3 ఉన్నట్లుగా పైన (శిఖరమున) ఏ సంఖ్య ఉండును?



1. 1 2. 4 3. 5 4. 6

190. గోపాల్ మోహన్ కంటే పెద్దవాడు కాని రామ్ కంటే చిన్నవాడు. మోహన్ సోహన్ కంటే పెద్దవాడు, కాని రామ్ కంటే చిన్నవాడు. అందరికంటే పెద్దవాడు ఎవరు?
1. గోపాల్ 2. మోహన్ 3. రామ్ 4. సోహన్
191. ఒక కి.మీ. పొడవు గల ఒక రైలు గంటకు 60 కి.మీ. వేగముతో ప్రయాణించుచున్నది. 3 కి.మీ. పొడవు గల ఒక రైలు వంతెనను దాటుటకు ఎంత సమయము పట్టును?
1. 3 2. 4 3. 1.5 4. 3.5
192. A మరియు B అక్కా చెల్లెళ్ళు. A, D యొక్క తల్లి. F ను పెండ్లాడిన C, B యొక్క కూతురు. G, A యొక్క భర్త. C, D కి ఏ విధముగా బంధువు అనును?
1. పినతండ్రి, పెత్తంద్రుల పిల్లలు
2. సోదరి లేదా సోదరుని కూతురు
3. చినతల్లి, పెదతల్లి, మేనత్త
4. కోడలు
193. 60 కి.గ్రా. బరువు గల ఒక వ్యక్తికి బదులుగా మరొక కొత్త వ్యక్తి వచ్చినప్పుడు 3 మంది వ్యక్తుల సరాసరి బరువు ఒక కి.గ్రా. పెరుగును. కొత్త వ్యక్తి యొక్క బరువు కి.గ్రా.లలో

1. 61 2. 68
3. 62 4. ఇవి ఏవీ కావు

194. ఒక విద్యార్థి గణితములో పరీక్షలో మార్కులు ఇట్లు సంపాదించెను 10, 7, 8, 9, 6, 9, 8, 7, 6. అతని మధ్యగత స్కోరు
1. 8.5 2. 6.5
3. 7 4. 8
195. ఒక డజను మామిడిపండ్ల ధర రూ. 66 అయిన 36 మామిడిపండ్ల ధర ఎంత?
1. రూ.122 2. రూ.158
3. రూ.180 4. రూ.198
196. కింద పేర్కొన్న సంఖ్యాతంత్రంలో ఎన్ని 2 లు 6 కంటే ముందుగాను, 5 తర్వాత గాను వచ్చును
2 5 3 4 8 6 2 5 0 1 2 6 2 6 2 5 0 1
1. 0 2. 1 3. 2 4. 3
197. ఒక పోలీసు అతని ఫోలీస్ స్టేషన్ నుండి దక్షిణముగా 35 మీటర్లు నడిచి, ఎడమ వైపు వీధికి తిరిగి 25 మీటర్లు నడచును. మరలా ఎడమవైపు వీధిని తిరిగి 35 మీటర్లు నడచును. అతను తర్వాత కుడివైపు గల వీధికి తిరిగి 20 మీటర్లు నడచును. అతను పోలీస్ స్టేషన్ నుండి ఎంత దూరములో, మరియు ఏ దిశలో ఉన్నాడు?
1. 20 మీటర్లు పశ్చిమంగా 2. 45 మీటర్లు తూర్పుగా
3. 20 మీటర్లు తూర్పుగా 4. 45 మీటర్లు ఉత్తరంగా
198. ఒక పనిని 15 రోజులలో 20 మంది పూర్తి చేయగలరు. అదే పనిని 10 రోజులలో పూర్తి చేయుటకు ఎంతమంది కావలెను?
1. 30 2. 25 3. 40 4. 15
199. ఒక గోతి యొక్క లోతు 6 మీటర్లు. గోతి అడుగున ఉన్న ఒక బల్లి గోతి యొక్క గోడను ఎక్కి వెలుపల వచ్చుటకు ప్రయత్నించుచున్నది. ప్రతిరోజూ అది ఒక మీటరు పైకి ఎక్కును, 0.5 మీటర్లు కిందికి జారును. అది వెలుపల వచ్చుటకు ఎన్ని రోజులు పట్టును?
1. 12 2. 8 3. 11 4. 36
200. ఒక వరుసలోని పిల్లలలో రాము ఎడమవైపు నుండి 17 గాను, కుడివైపు నుండి 12 గాను ఉన్నాడు. అదే వరుసలో సలీమ్ కుడివైపు నుండి 11 వ స్థానములో ఉండగా, ఎడమవైపు నుండి సలీమ్ ఏ స్థానములో ఉన్నాడు?
1. 12 వ 2. 18 వ 3. 11 వ 4. 17 వ

| | | | | | | | | | | | | | | |
|-------|-------|-------|-------|-------|-------|-------|-------|-------|-------|-------|-------|-------|-------|-------|
| 1.1 | 2.4 | 3.3 | 4.1 | 5.1 | 6.2 | 7.1 | 8.2 | 9.1 | 10.1 | 11.2 | 12.3 | 13.1 | 14.1 | 15.1 |
| 16.1 | 17.2 | 18.1 | 19.1 | 20.4 | 21.1 | 22.2 | 23.4 | 24.1 | 25.2 | 26.2 | 27.3 | 28.3 | 29.1 | 30.2 |
| 31.2 | 32.4 | 33.3 | 34.1 | 35.3 | 36.3 | 37.4 | 38.1 | 39.1 | 40.2 | 41.1 | 42.2 | 43.1 | 44.2 | 45.3 |
| 46.4 | 47.2 | 48.3 | 49.2 | 50.2 | 51.3 | 52.3 | 53.2 | 54.2 | 55.2 | 56.2 | 57.1 | 58.1 | 59.4 | 60.1 |
| 61.3 | 62.1 | 63.3 | 64.4 | 65.1 | 66.2 | 67.3 | 68.3 | 69.3 | 70.3 | 71.2 | 72.3 | 73.3 | 74.1 | 75.2 |
| 76.4 | 77.1 | 78.3 | 79.2 | 80.2 | 81.2 | 82.3 | 83.2 | 84.3 | 85.2 | 86.3 | 87.2 | 88.1 | 89.2 | 90.2 |
| 91.3 | 92.2 | 93.1 | 94.1 | 95.2 | 96.2 | 97.2 | 98.1 | 99.3 | 100.2 | 101.4 | 102.3 | 103.3 | 104.2 | 105.3 |
| 106.2 | 107.2 | 108.2 | 109.4 | 110.2 | 111.3 | 112.3 | 113.3 | 114.2 | 115.2 | 116.4 | 117.1 | 118.4 | 119.4 | 120.1 |
| 121.2 | 122.3 | 123.2 | 124.2 | 125.4 | 126.2 | 127.1 | 128.3 | 129.2 | 130.3 | 131.3 | 132.2 | 133.3 | 134.4 | 135.4 |
| 136.4 | 137.1 | 138.1 | 139.1 | 140.4 | 141.4 | 142.1 | 143.3 | 144.1 | 145.4 | 146.2 | 147.2 | 148.4 | 149.2 | 150.2 |
| 151.4 | 152.4 | 153.1 | 154.3 | 155.3 | 156.1 | 157.4 | 158.3 | 159.2 | 160.4 | 161.4 | 162.2 | 163.2 | 164.4 | 165.2 |
| 166.2 | 167.1 | 168.2 | 169.1 | 170.2 | 171.2 | 172.2 | 173.4 | 174.1 | 175.2 | 176.4 | 177.3 | 178.4 | 179.2 | 180.3 |
| 181.1 | 182.2 | 183.2 | 184.2 | 185.1 | 186.2 | 187.2 | 188.3 | 189.1 | 190.3 | 191.2 | 192.1 | 193.2 | 194.4 | 195.4 |
| 196.1 | 197.2 | 198.1 | 199.1 | 200.2 | | | | | | | | | | |

కానిస్టేబుల్ ప్రీవియస్ పేపర్-2008