



Held on 30-04-2023

145921

Question Booklet Sl. No.

Question Booklet Code

A

Question Booklet 101213 – 2023

Hall Ticket No.

--	--	--	--	--	--	--

Name of the Candidate

Date of Examination

OMR Answer Sheet No.

Signature of the Candidate with Date

Signature of the Invigilator with Date

Duration of Test : **2 Hours**

Max. Marks : **80**

Instructions :

1. This Question Booklet consists of **80** multiple choice objective type questions to be answered in **120** minutes. **PART – A** (Electrical Trade) consists of 65 Multiple Choice Questions and **PART – B** (General Knowledge) consists of 15 Multiple Choice Questions.
2. Every question in this booklet has 4 choices marked (A), (B), (C) and (D) for its answer.
3. Each question carries **one mark**. There are no negative marks for wrong answers.
4. This Booklet consists of **24** pages. In case of any discrepancy or defect in the booklet, the same may be informed to the Invigilator and new Booklet of same code may be taken.
5. **Ensure to bubble the appropriate Question Booklet Code (A/B/C/D) on the OMR Answer Sheet.**
6. Answer all the questions on the OMR Answer Sheet using **Blue/Black ink ball point pen only**.
7. Before answering the questions on the OMR Answer Sheet, please read the instructions printed on the OMR Sheet carefully.
8. The OMR Answer Sheet should be handed over to the Invigilator before leaving the Examination Hall. The Question Booklet is to be retained by the candidate.
9. **Calculators, Mobile Phones, Smart Watches and any other Electronic gadgets are NOT allowed into the Examination Hall.**
10. The seal of the Booklet should be opened only after signal/bell is given.
11. In case of any discrepancy in Telugu translation, English version shall be treated as final.

SEAL



PART - A

1. రివర్స్ బయాస్ సమయంలో, ఒక ఆదర్శ రెక్టిఫైయర్ డయోడ్ _____ నిరోధకతను అందిస్తాయి మరియు ఆదర్శవంతమైన జీనర్ డయోడ్ వాటి సాధారణ ఆపరేటింగ్ మోడ్లలో _____ నిరోధకతను అందిస్తాయి.

(A) అనంతం, అనంతం



(B) అనంతం, సున్న

(C) సున్న, అనంతం

(D) సున్న, సున్న

During reverse bias, an ideal rectifier diode offer _____ resistance and an ideal zener diode offer _____ resistance in their normal operating modes.

(A) infinite, infinite

(B) infinite, zero

(C) zero, infinite

(D) zero, zero

2. ఫుల్ వేవ్ రెక్టిఫైయర్ యొక్క సగటు అవుట్పుట్ 140 V అప్పుడు ఒక చక్రంలో సగటు ఇన్పుట్ వోల్టేజీ విలువ ఎంత ?

(A) $220/\sqrt{2}$ V(B) $220\sqrt{2}$ V

(C) 220 V

(D) సున్న

The average output of a full-wave rectifier is 140 V. Then value of average input voltage over one cycle is

(A) $220/\sqrt{2}$ V(B) $220\sqrt{2}$ V

(C) 220 V

(D) Zero



3. 1- ϕ AC మూలం మరియు రెసిస్టివ్ లోడ్ మధ్య అనుసంధానించబడిన ఒకే SCR $\pi/5$ రేడియన్ల కోణంలో ట్రిగ్గర్ అవబడుతుంది. అప్పుడు ఒక చక్రంలో ప్రసరణ కోణం ఎంత ?

(A) 36° (B) 144° (C) 54° (D) 324°

A single SCR connected between 1- ϕ AC source and resistive load is triggered at an angle of $\pi/5$ radians. Then, conduction angle in one cycle is

(A) 36° (B) 144° (C) 54° (D) 324° 

4. LC ఆసిలేటర్ ట్యాంక్ సర్క్యూట్ను రూపొందించడానికి 250 mH ఇండక్టెన్స్ మరియు 1 μ F కెపాసిటర్ సమాంతరంగా అనుసంధానించబడి ఉంటాయి. అయితే డోలనం యొక్క పౌనఃపున్యం లెక్కించండి.

(A) 200 Hz

(B) 2000 Hz

(C) 2000 rad/sec.

(D) 200 rad/sec.

An inductance of 250 mH and a capacitor of 1 μ F are connected together in parallel to create an LC oscillator tank circuit. Calculate the frequency of oscillation.

(A) 200 Hz

(B) 2000 Hz

(C) 2000 rad/sec.

(D) 200 rad/sec.





5. ఆంప్లిఫయర్ గా పనిచేసే BJT దేనిలో పనిచేస్తుంది ?

- (A) క్రియా శీల ప్రాంతం మాత్రమే (B) కట్-ఆఫ్ ప్రాంతం మాత్రమే
(C) సంతృప్త ప్రాంతం మాత్రమే (D) సంతృప్త మరియు కట్-ఆఫ్ ప్రాంతాలు



A BJT acting as an amplifier will operate in

- (A) Active region only (B) Cut-off region only
(C) Saturation region only (D) Saturation and Cut-off regions

6. ఎలక్ట్రోస్టాటిక్ పరికరంలో విక్షేపం కోణం నేరుగా దేని అనులోమానుపాతంలో ఉంటుంది ?

- (A) వోల్టేజి యొక్క విలోమం (B) వోల్టేజి యొక్క చదరపు
(C) వోల్టేజి యొక్క వర్గమూలం (D) వోల్టేజి



In Electrostatic instrument the deflection angle is directly proportional to

- (A) inverse of voltage (B) square of voltage
(C) square root of voltage (D) voltage



7. కొవ్వొత్తి దీపం యొక్క శక్తి 100 రెండు ఉపరితలాలు 2 మీటర్ల దూరంలో మరియు దీపం యొక్క మూలం నుండి 4 మీటర్ల దూరంలో ఉంచబడతాయి మొదటి ఉపరితలంతో పోలిస్తే రెండవ ఉపరితలం పై ప్రకాశం

- (A) నాలుగో వంతు (B) నాలుగు సార్లు (C) ఒకటిన్నర (D) రెండింతలు

The candle power of a lamp is 100. Two plane surfaces are placed at a distance of 2 m and 4 m away from a source of lamp. The illumination on the second surface compared with first surface is

- (A) One-fourth (B) Four times (C) One-half (D) Twice

8. సోడియం ఆవిరి దీపంలో

- (A) కెపాసిటర్ అధిక లీకేజ్ రియాక్టెన్స్ బ్రాన్స్ ఫార్మర్ తో సిరీస్ లో కనెక్ట్ చేయబడుతుంది
(B) కెపాసిటర్ అధిక లీకేజ్ రియాక్టెన్స్ బ్రాన్స్ ఫార్మర్ తో సమాంతరంగా అనుసంధానించబడి ఉంటుంది
(C) కెపాసిటర్ తక్కువ లీకేజ్ రియాక్టెన్స్ బ్రాన్స్ ఫార్మర్ తో సిరీస్ లో కనెక్ట్ చేయబడింది
(D) కెపాసిటర్ తక్కువ లీకేజ్ రియాక్టెన్స్ బ్రాన్స్ ఫార్మర్ తో సమాంతరంగా కనెక్ట్ చేయబడుతుంది



In a sodium vapour lamp

- (A) Capacitor is connected in series with high leakage reactance transformer
(B) Capacitor is connected in parallel with high leakage reactance transformer
(C) Capacitor is connected in series with low leakage reactance transformer
(D) Capacitor is connected in parallel with low leakage reactance transformer

9. సర్జ్ ట్యాంక్ యొక్క ఉద్దేశ్యము దీని నుండి రక్షించడానికి

- (A) పెన్స్టాక్ (B) డామ్ (C) టర్బైన్ (D) ఆల్టర్నేటర్

The purpose of surge tank is to protect

- (A) penstock (B) dam (C) turbine (D) alternator



10. సమతుల్య 3- ϕ , 4-వైర్ AC సిస్టమ్లో, దశక్రమం RYB. R దశ యొక్క వోల్టేజి $V_R = 230 \angle 0^\circ$ V అయినచో అప్పుడు Y దశ మరియు B దశ యొక్క వోల్టేజి



- (A) $V_Y = 230 \angle 120^\circ$ V మరియు $V_B = 230 \angle 120^\circ$ V
 (B) $V_Y = 230 \angle -120^\circ$ V మరియు $V_B = 230 \angle -120^\circ$ V
 (C) $V_Y = 230 \angle 120^\circ$ V మరియు $V_B = 230 \angle -120^\circ$ V
 (D) $V_Y = 230 \angle -120^\circ$ V మరియు $V_B = 230 \angle 120^\circ$ V

In a balanced 3- ϕ , 4-wire AC system, the phase sequence is RYB. If the voltage of R phase $V_R = 230 \angle 0^\circ$ V, then the voltage of Y phase and B phase are

(A) $V_Y = 230 \angle 120^\circ$ V and $V_B = 230 \angle 120^\circ$ V



(B) $V_Y = 230 \angle -120^\circ$ V and $V_B = 230 \angle -120^\circ$ V

(C) $V_Y = 230 \angle 120^\circ$ V and $V_B = 230 \angle -120^\circ$ V

(D) $V_Y = 230 \angle -120^\circ$ V and $V_B = 230 \angle 120^\circ$ V

11. 1- ϕ ట్రాన్స్‌ఫార్మర్ యొక్క సామర్థ్యం ఎప్పుడు గరిష్ఠంగా ఉండదు ?

(A) ఎప్పుడైతే రాగి నష్టం = స్థిరమైన నష్టం

(B) ఎప్పుడైతే రాగి నష్టం < స్థిరమైన నష్టం మరియు రాగి నష్టం > స్థిరమైన నష్టం

(C) ఎప్పుడైతే రాగి నష్టం మాత్రమే < స్థిరమైన నష్టం

(D) ఎప్పుడైతే రాగి నష్టం మాత్రమే > స్థిరమైన నష్టం



The efficiency of a 1- ϕ transformer is not maximum

(A) when copper loss = constant loss

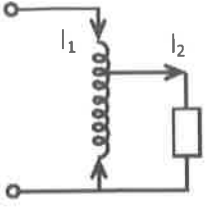
(B) when copper loss < constant loss and copper loss > constant loss

(C) only when copper loss < constant loss

(D) only when copper loss > constant loss

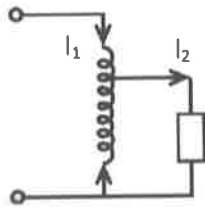


12. ఒకవేళ I_1 మరియు I_2 ప్రాథమిక కరెంటు మరియు లోడ్ కరెంట్ 1- ϕ ఆటో ట్రాన్స్ఫార్మర్ అయితే, వ్యతిరేక దిశలో సెకండరీ వైండింగ్లో ప్రవహించే ప్రాథమిక కరెంట్ ఎంత ?



- (A) $-I_2$ (B) I_2 (C) $I_1 - I_2$ (D) $I_2 - I_1$

If I_1 and I_2 are primary current and load current of 1- ϕ auto-transformer, then the current flowing in the secondary winding in the opposite direction of primary current is



- (A) $-I_2$ (B) I_2 (C) $I_1 - I_2$ (D) $I_2 - I_1$

13. ఒక అమ్మీటర్ మరియు వోల్ట్ మీటర్ ప్రస్తుత ట్రాన్స్ఫార్మర్ (CT) మరియు పొటెన్షియల్ ట్రాన్స్ఫార్మర్ (PT) యొక్క సంబంధిత ద్వితీయ వైండింగ్లకు అనుసంధానించబడి ఉంటాయి. అనుకోకుండా CT షార్ట్ సర్క్యూట్ చేయబడి మరియు PT వారి సెకండరీలలో ఓపెన్ సర్క్యూట్ అయినట్లయితే, అప్పుడు

- (A) CT మరియు PT రెండూ పాడయిపోదు
(B) CT మరియు PT రెండూ పాడవుతాయి
(C) CT పాడవుతుంది కానీ PT పాడయిపోదు
(D) CT పాడయిపోదు కానీ PT పాడవుతుంది



An ammeter and voltmeter are connected to respective secondary windings of Current Transformer (CT) and Potential Transformer (PT). If accidentally CT is short circuited and PT is open circuited on their secondaries, then

- (A) Both CT and PT are not damaged
(B) Both CT and PT are damaged
(C) CT is damaged, but PT is not damaged
(D) CT is not damaged, but PT is damaged





14. L_1 మరియు L_2 కోర్ వైప్ ట్రాన్స్ఫార్మర్ యొక్క
- (A) LV వైండింగ్ L_1 లో కోర్ కి దగ్గరగా ఉంటుంది HV వైండింగ్ L_2 కోర్ కి దగ్గరగా ఉంటుంది
- (B) LV వైండింగ్ L_2 లో కోర్ కి దగ్గరగా ఉంటుంది మరియు HV వైండింగ్ L_1 కోర్ కి దగ్గరగా ఉంటుంది.
- (C) HV వైండింగ్ L_1 మరియు L_2 కోర్ కి దగ్గరగా ఉంటుంది
- (D) LV వైండింగ్ L_1 మరియు L_2 కోర్ కి దగ్గరగా ఉంటుంది



If L_1 and L_2 are two limbs of a core type transformer, then

- (A) LV winding is nearer to core in L_1 and HV winding is nearer to core in L_2
- (B) LV winding is nearer to core in L_2 and HV winding is nearer to core in L_1
- (C) HV winding is nearer to core in L_1 and L_2
- (D) LV winding is nearer to core in L_1 and L_2
15. 3- ϕ , 10 HP, 230 V, 60 Hz, 6 పోల్ Y కనెక్ట్ చేయబడిన ఇండక్షన్ మోటార్ 1160 rpm వద్ద నడుస్తుంది. రోటర్ కరెంటు యొక్క ఫ్రీకెన్సీ ఎంత ?



- (A) 2 Hz (B) 62 Hz
- (C) 58 Hz (D) 60 Hz

A 3- ϕ , 10 HP, 230 V, 60 Hz, 6 pole Y connected induction motor runs at 1160 rpm. What is the frequency of rotor current ?

- (A) 2 Hz (B) 62 Hz
- (C) 58 Hz (D) 60 Hz

16. ఇక్కడ చూపించిన వాటిలో యూనిట్లు ఏమిటి ? $\frac{1}{2}LI^2$; $\frac{1}{2}CV^2$

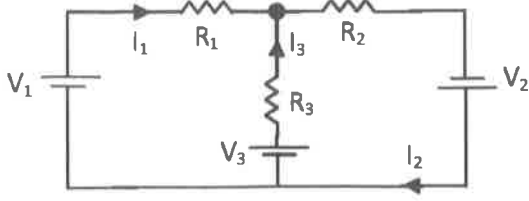
- (A) వాట్, జౌల్ వరుసగా (B) వాట్, వాట్ వరుసగా
- (C) జౌల్, జౌల్ వరుసగా (D) జౌల్, వాట్ వరుసగా

What are units of the following ? $\frac{1}{2}LI^2$; $\frac{1}{2}CV^2$

- (A) Watt, Joule respectively (B) Watt, Watt respectively
- (C) Joule, Joule respectively (D) Joule, Watt respectively

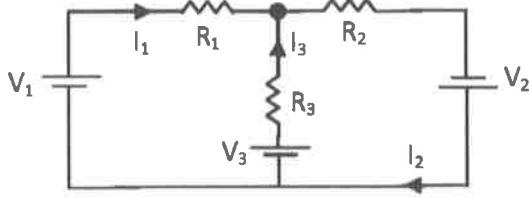


17. వోల్టేజి మూలాలు V_1 మరియు V_2 షార్ట్ సర్క్యూట్ అయితే విద్యుత్ I_1 దీని ద్వారా ఇవ్వబడుతుంది.



- (A) $I_1 = I_3 R_2 / (R_1 + R_2)$ (B) $I_1 = -I_3 R_2 / (R_1 + R_2)$
 (C) $I_1 = I_3 R_1 / (R_1 + R_2)$ (D) $I_1 = -I_3 R_1 / (R_1 + R_2)$

If the voltage sources V_1 and V_2 are short-circuited, then the current I_1 is given by



- (A) $I_1 = I_3 R_2 / (R_1 + R_2)$ (B) $I_1 = -I_3 R_2 / (R_1 + R_2)$
 (C) $I_1 = I_3 R_1 / (R_1 + R_2)$ (D) $I_1 = -I_3 R_1 / (R_1 + R_2)$

18. 650 Ah కలిగిన 12 V కార్ బ్యాటరీలో నిల్వచేయబడిన శక్తి ఎంత ?

- (A) 66.07 MJ (B) 340.87 MJ (C) 28.08 MJ (D) 127.09 MJ

What is the energy stored in a 12 V car battery rated at 650 Ah ?

- (A) 66.07 MJ (B) 340.87 MJ (C) 28.08 MJ (D) 127.09 MJ

19. 4.5 Ah, 1.5 V ఫ్లాష్ లైట్ బ్యాటరీ 100 mA ని అందించడానికి ఎంత సమయం పడుతుంది ?

- (A) 3 గంటలు (B) ఒక రోజు మరియు 17 గంటలు
 (C) ఒక రోజు మరియు 21 గంటలు (D) 15 గంటలు

How long can a 4.5 Ah, 1.5 V flash-light battery take to deliver 100 mA ?

- (A) 3 hours (B) One day and 17 hours
 (C) One day and 21 hours (D) 15 hours

20. ఒక బ్యాటరీ amp-hour సామర్థ్యం మరియు watt-hour సామర్థ్యం వరుసగా 90% మరియు 80%.

అప్పుడు సగటు ఛార్జింగ్ వోల్టేజి మరియు సగటు డిస్చార్జింగ్ వోల్టేజి నిష్పత్తి

- (A) 1.125 (B) 0.889 (C) 1.422 (D) 0.790

The amp-hour efficiency and watt-hour efficiency of a battery are 90% and 80% respectively. Then the ratio of average charging voltage to average discharging voltage is

- (A) 1.125 (B) 0.889 (C) 1.422 (D) 0.790



21. సింక్రోనస్ మెషిన్లో డ్యాంపర్ వైండింగ్ దేనికి ఉపయోగిస్తారు ?

- (A) శక్తి కారకం పెంచడానికి (B) వేటను (హంటింగ్) నిర్మూలించడానికి
(C) రాగి నష్టాన్ని తగ్గించడానికి (D) ఇనుము నష్టాన్ని తగ్గించడానికి



Damper winding in synchronous machine is used to

- (A) increase power factor (B) prevent hunting
(C) decrease copper loss (D) decrease iron loss

22. సింక్రోనస్ మోటార్ యొక్క భ్రమణ దిశను రివర్స్ చేయడం ద్వారా దీనిని రివర్స్ చేయవచ్చు

- (A) సరఫరా దిశ క్రమాన్ని (B) ఫీల్డ్ కరెంట్ని పెంచడానికి
(C) ఫీల్డ్ కరెంట్ని తగ్గించడానికి (D) రోటర్ వైండింగ్లో ప్రతిఘటన



The direction of rotation of a synchronous motor can be reversed by reversing the

- (A) Supply phase sequence (B) Increasing the field current
(C) Decreasing the field current (D) Resistance in the rotor winding

23. ఈ క్రింద ఇవ్వబడిన మీటర్ల రకాలతో మరియు వాటి కొలతలతో జతపరచండి.

(a)	ఎలక్ట్రో డైనమోమీటర్	(i)	DC మాత్రమే
(b)	ఇండక్షన్	(ii)	AC మాత్రమే
(c)	కదిలే ఐరన్	(iii)	DC మరియు AC

- (A) (a) - (ii); (b) - (ii); (c) - (i) (B) (a) - (ii); (b) - (i); (c) - (iii)
(C) (a) - (iii); (b) - (i); (c) - (iii) (D) (a) - (iii); (b) - (ii); (c) - (iii)

Match the following type of meters with type of measurements.

(a)	Electro-dynamometer	(i)	DC only
(b)	Induction	(ii)	AC only
(c)	Moving Iron	(iii)	DC and AC



- (A) (a) - (ii); (b) - (ii); (c) - (i) (B) (a) - (ii); (b) - (i); (c) - (iii)
(C) (a) - (iii); (b) - (i); (c) - (iii) (D) (a) - (iii); (b) - (ii); (c) - (iii)

24. ఒకవేళ T_d విక్షేపం బార్క్ అయితే θ అనేది విక్షేపం యొక్క కోణం మరియు I అనేది కరెంటు అప్పుడు కదిలే ఐరన్ మీటర్లలో విలువ

- (A) $T_d \propto I$ (B) $T_d \propto \theta$ (C) $T_d \propto I^{1/2}$ (D) $T_d \propto \theta^2$



If T_d is deflecting torque, θ is angle of deflection and I is current, then in a Moving Iron meter

- (A) $T_d \propto I$ (B) $T_d \propto \theta$ (C) $T_d \propto I^{1/2}$ (D) $T_d \propto \theta^2$

25. 200 V, 1 A దీపం ద్వారా విడుదలయ్యే మొత్తం ఫ్లక్స్ 2200 ల్యూమెన్స్ లో అయితే, ప్రతి వాట్ కు MSCP ను కనుగొనండి.

- (A) 1.143 (B) 175 (C) 0.875 (D) 350

If the total flux emitted by a 200 V, 1 A lamp is 2200 lumens, find MSCP per watt.

- (A) 1.143 (B) 175 (C) 0.875 (D) 350

26. ఈ క్రింది వానిలో ఏది ఉత్పాదక ఆవిరి శక్తి స్థావర విద్యుత్ శక్తిగా మార్చబడుతుంది

- (A) హైడ్రో ఎలక్ట్రిక్ పవర్ స్టేషన్ (B) పవన విద్యుత్ స్టేషన్
(C) సౌర విద్యుత్ స్టేషన్ (D) అణు విద్యుత్ స్టేషన్

In which generating station steam energy is converted into electrical energy is

- (A) Hydro-electric power station (B) Wind power station
(C) Solar power station (D) Nuclear power station

27. ఒక షార్ట్ ట్రాన్స్మిషన్ సిస్టమ్ యొక్క ముగింపు పంపడం మరియు ముగింపు వోల్టేజీలను స్వీకరించడం వంటి V_S మరియు V_R ఉన్న $x = V_R/V_S$ అయితే, పర్సెంటేజి వోల్టేజి నియంత్రణ ఇలా ఇవ్వబడుతుంది.

- (A) $(1-x^2) \times 100$ (B) $\left(\frac{1}{x}-1\right) \times 100$ (C) $(1-x) \times 100$ (D) $\left(\frac{1}{x^2}-1\right) \times 100$

If $x = V_R/V_S$ where V_S and V_R are respective sending end and receiving end voltages of a short transmission system, then percentage voltage regulation is given as

- (A) $(1-x^2) \times 100$ (B) $\left(\frac{1}{x}-1\right) \times 100$ (C) $(1-x) \times 100$ (D) $\left(\frac{1}{x^2}-1\right) \times 100$

28. పరికరం సిస్టమ్ లోని లోపాన్ని గుర్తించి, పవర్ సిస్టమ్ నెట్ వర్క్ లోని ఆరోగ్యకరమైన విభాగం నుండి తప్పు భాగాన్ని వేరుచేస్తుంది ఏది ?

- (A) స్విచ్ గేర్ (B) ఐసోలేటర్ (C) బస్-బార్ (D) ట్రాన్స్ ఫార్మర్

The device locates the fault on the system and isolate the faulty part from the healthy section in a power system network is

- (A) Switchgear (B) Isolator (C) Bus-bar (D) Transformer

29. న్యూక్లియర్ ఎనర్జీ మరియు టైడల్ ఎనర్జీలకు ఉదాహరణ

- (A) సంప్రదాయేతర మూలాలు
(B) సంప్రదాయ మూలాలు
(C) సంప్రదాయ మరియు సంప్రదాయేతర మూలాలు వరుసగా
(D) సంప్రదాయేతర మరియు సంప్రదాయ మూలాలు వరుసగా

Nuclear energy and Tidal energy are examples of

- (A) Non-conventional sources
(B) Conventional sources
(C) Conventional and Non-conventional sources respectively
(D) Non-Conventional and Conventional sources respectively



30. ఒక రోజులో విద్యుత్ ప్లాంట్ యొక్క కనిష్ట లోడ్, సగటు లోడు మరియు గరిష్ట లోడ్ వరుసగా 65 MW, 75 MW మరియు 95 MW అయితే లోడ్ కారకం

- (A) 67.9 % (B) 86.7 % (C) 68.4 % (D) 78.9 %
If minimum load, average load and maximum load of a power plant in a day are 65 MW, 75 MW and 95 MW respectively, then Load factor is
(A) 67.9 % (B) 86.7 % (C) 68.4 % (D) 78.9 %

31. సింక్రోనస్ మోటార్ సింక్రోనస్ కెపాసిటర్ గా ఎప్పుడు ఉపయోగించవచ్చు ?

- (A) ఓవర్ లోడ్ గా చేయబడింది మరియు ఉత్సాహంగా లేనప్పుడు
(B) ఓవర్ లోడ్ గా చేయబడి మరియు తక్కువ ఉత్సాహంగా ఉన్నప్పుడు
(C) అండర్ లోడ్ గా మరియు తక్కువ ఉత్సాహంగా ఉన్నప్పుడు
(D) లోడ్ చేయనప్పుడు మరియు ఎక్కువ ఉత్సాహంగా ఉన్నప్పుడు

A synchronous motor can be used as a synchronous capacitor when it is

- (A) Over loaded & not-excited
(B) Over loaded & under-excited
(C) Under loaded & under-excited
(D) Not-loaded & over-excited

32. వేరియబుల్ ఫ్రీక్వెన్సీతో స్థిర వోల్టేజీ DC ని స్థిర వోల్టేజీ AC గా మార్చే AC డ్రైవ్ కోసం పవర్ ఎలక్ట్రానిక్ సర్క్యూట్ ని ఏమంటారు ?

- (A) చోపర్ (B) ఇన్వర్టర్
(C) సైక్లో కన్వర్టర్ (D) ఫుల్ కన్వర్టర్

A power electronic circuit for AC drive which converts a fixed voltage DC to a fixed AC voltage with variable frequency is called as

- (A) Chopper (B) Inverter
(C) Cyclo-converter (D) Full Converter

33. పూర్తిగా లోడ్ చేయబడిన 10 HP ఇండక్షన్ మోటార్ 480 V, 50 Hz లైన్ నుండి 85% సామర్థ్యం మరియు 0.8 లాగింగ్ పవర్ ఫ్యాక్టర్ తో పని చేస్తుంది. దాని మొత్తం నష్టాలను కనుగొనండి.

- (A) 1.05 kW (B) 1.49 kW (C) 1.12 kW (D) 1.31 kW

A fully loaded 10 HP induction motor operated from a 480 V, 50 Hz line at an efficiency of 85% and 0.8 lagging power factor. Find the total losses.

- (A) 1.05 kW (B) 1.49 kW (C) 1.12 kW (D) 1.31 kW

34. 1-φ మోటార్ యొక్క భ్రమణ దిశను _____ ద్వారా ఆపవచ్చు.

- (A) ప్రారంభ మరియు ప్రధాన వైండింగ్ కనెక్షన్లను రివర్స్ చేయడం
(B) ప్రారంభ వైండింగ్ యొక్క కనెక్షన్లను రివర్స్ చేయడం
(C) మోటార్ వైండింగ్ లోపల డయోడ్ ని కనెక్ట్ చేయడం
(D) సరఫరా కనెక్షన్ ని తిప్పికొట్టడం

The direction of rotation of a 1-φ motor can be reversed by _____

- (A) Reversing the connections of both starting & main windings
(B) Reversing the connections of starting winding
(C) Connecting the diode inside the motor winding
(D) Reversing the supply connection

35. p-పోల్ ఆల్టర్నేటర్లలో యాంత్రిక కోణం మరియు విద్యుత్ కోణం నిష్పత్తి

- (A) $2/p$ (B) $p/2$ (C) p (D) $1/p$

The ratio of mechanical angle to electrical angle in a p-pole alternator is

- (A) $2/p$ (B) $p/2$ (C) p (D) $1/p$

36. బ్యాటరీ ఛార్జింగ్ వద్దతుల పై తప్పు ప్రకటనను ఎంచుకోండి.

- (A) స్థిరమైన కరెంట్ ఛార్జింగ్లో సామర్థ్యం ఎక్కువగా ఉంటుంది
(B) స్థిరమైన కరెంట్ ఛార్జింగ్లో సమయం తక్కువగా ఉంటుంది
(C) స్థిరమైన వోల్టేజీ ఛార్జింగ్లో సామర్థ్యం తక్కువగా ఉంటుంది
(D) స్థిరమైన వోల్టేజీ ఛార్జింగ్లో సమయం తక్కువగా ఉంటుంది

Choose a wrong statement on charging methods of battery

- (A) Efficiency is higher in constant current charging
(B) Charging time is lesser in constant current charging
(C) Efficiency is lower in constant voltage charging
(D) Charging time is lesser in constant voltage charging

37. బ్యాటరీని ఛార్జ్లో ఉంచడం వలన

- (A) పూర్తి ఛార్జింగ్ సర్క్యూట్ నిరంతర లీకేజీకి కారణమవుతుంది
(B) ఓపెన్ సర్క్యూట్ వల్ల గ్యాస్ సమస్య ఏర్పడుతుంది
(C) ట్రికిల్ ఛార్జ్ పరిస్థితి దాని జీవితాన్ని పెంచుతుంది
(D) ట్రికిల్ ఛార్జ్ పరిస్థితి దాని జీవితాన్ని తగ్గిస్తుంది

Keeping a battery in

- (A) full charging circuit cause continuous leakage
(B) open circuited condition cause gassing problem
(C) trickle charge condition increase its life
(D) trickle charge condition decreases its life

38. 100 మలుపుల కాయిల్ 2 wb/sec. చొప్పున పెరుగుతున్న ఫ్లక్స్ తో లింక్ చేయబడితే, అప్పుడు ప్రేరిత e.m.f. ప్రతి మలుపు ఎంత ?

- (A) 0 V (B) 200 V (C) 2 V (D) 4 V

If a coil of 100 turns is linked with a flux increasing at a rate of 2 wb/sec. then the induced e.m.f. per turn is

- (A) 0 V (B) 200 V (C) 2 V (D) 4 V



39. మాగ్నెటిక్ ఫ్లక్స్ డెన్సిటీ 'B' మరియు మాగ్నెటిసింగ్ ఫోర్స్ 'H' మధ్య సంబంధం ఎల్లప్పుడూ ఇలా ఉంటుంది
- (A) అన్ని ప్రాంతాలలో సరళంగా ఉంటుంది
 (B) అన్ని ప్రాంతాలలో సరళంగా ఉండదు
 (C) అసంతృప్త మరియు సంతృప్త ప్రాంతాల మధ్య సరళంగా ఉంటుంది
 (D) అసంతృప్త మరియు సంతృప్త ప్రాంతాల మధ్య సరళంగా ఉండదు



The relation between magnetic flux density 'B' and magnetizing force 'H' is always

- (A) linear in all regions
 (B) non-linear in all regions
 (C) linear between unsaturation and saturation regions
 (D) non-linear between unsaturation and saturation regions



40. నిలుపుదల (retentivity) యొక్క యూనిట్

- (A) Wb/m^2 (B) A/m^2 (C) A/m (D) Wb/m

The unit of retentivity is

- (A) Wb/m^2 (B) A/m^2 (C) A/m (D) Wb/m

41. 1- ϕ AC ఇన్పుట్ వోల్టేజీ యొక్క కాల వ్యవధి 25 ms అయితే, రెసిస్టివ్ లోడ్తో హాఫ్ వేవ్ రెక్టిఫైయర్ యొక్క కాల వ్యవధి ఎంత ?

- (A) 100 ms (B) 12.5 ms (C) 25 ms (D) 50 ms

If time period of a 1- ϕ AC input voltage is 25 ms, then the time period of half wave rectifier with resistive load is

- (A) 100 ms (B) 12.5 ms (C) 25 ms (D) 50 ms

42. DC యంత్రం యొక్క సమాంతర మార్గాల సంఖ్య 8 అయితే, ల్యాప్ వైండింగ్ మరియు వేవ్ వైండింగ్ బ్రష్ సంఖ్య ఎంత ?

- (A) 8 మరియు 2 వరుసగా (B) 2 మరియు 8 వరుసగా
 (C) 4 మరియు 2 వరుసగా (D) 2 మరియు 4 వరుసగా



If no. of parallel paths of a DC machine is 8, then in lap winding and wave winding the number of brushes are

- (A) 8 and 2 respectively (B) 2 and 8 respectively
 (C) 4 and 2 respectively (D) 2 and 4 respectively

43. నాలుగు పోల్ DC మెషిన్లో, ఫ్లక్స్ రివర్సల్స్ యొక్క పౌనఃపున్యం 45 Hz అయితే, యంత్రం యొక్క వేగం సెకనుకు ఎన్నిసార్లు తిరుగుతుంది ?

- (A) 45 (B) 22.5 (C) 1350 (D) 1500



In a four-pole DC machine, if frequency of flux reversals is 45 Hz then the speed of the machine in revolutions per sec. is

- (A) 45 (B) 22.5 (C) 1350 (D) 1500

44. ϕ అనేది ఫ్లక్స్ అయితే, L కండక్టర్ యొక్క పొడవు, A అనేది దాని చుట్టుకొలత ప్రాంతం మరియు V అనేది కండక్టర్ వేగం అయితే ప్రేరిత e.m.f. విలువ ఎంత ?

(A) $\phi LV/A$ (B) ϕLVA (C) $\phi LA/V$ (D) $\phi LA^2/V^2$

If ϕ is the flux, L is length of conductor, A is area of cross-section and V is velocity of conductor, then induced e.m.f. is given by

(A) $\phi LV/A$ (B) ϕLVA (C) $\phi LA/V$ (D) $\phi LA^2/V^2$

45. 1000 r.p.m. వద్ద నడుస్తున్న ఒక dc షంట్ జనరేటర్ e.m.f. ని సృష్టించింది 200 V మరియు ఆర్మేచర్ వోల్టేజ్ డ్రాప్ 10 V. ఒకవేళ దాని వేగం 1200 r.p.m. పెరిగితే, దానిని అదే డ్రాప్ వద్ద ఉత్పత్తి చేయబడితే e.m.f. ఎంత ఉంటుంది ?

(A) 200 V (B) 230 V (C) 240 V (D) 250 V

A dc shunt generator running at 1000 r.p.m. generates an e.m.f. of 200 V and its armature voltage drop is 10 V. If its speed increases to 1200 r.p.m. then the generated e.m.f. at the same drop will be

(A) 200 V (B) 230 V (C) 240 V (D) 250 V

46. 220 V ఇన్పుట్ వోల్టేజీ మరియు 16 A కరెంట్ కోసం 2.5 kW ని గ్రహించే 1- ϕ సర్క్యూట్ యొక్క పవర్ ఫ్యాక్టర్ను కనుగొనండి.

(A) 0.3 (B) 0.71 (C) 0.78 (D) 0.22

Find the power factor of a 1- ϕ circuit that absorbs 2.5 kW for a 220 V input voltage and 16 A current.

(A) 0.3 (B) 0.71 (C) 0.78 (D) 0.22

47. 25 Ω గల ఒక నిరోధం $v = 150 \sin 377t$ వోల్టేజీని కలిగి ఉంటుంది అయితే దాని నుండి వెదజల్లిన శక్తిని కనుగొనండి.

(A) 450 W (B) 1600 W (C) 900 W (D) 800 W

A 25 Ω resistance has a voltage $v = 150 \sin 377t$. Find the power dissipated.

(A) 450 W (B) 1600 W (C) 900 W (D) 800 W

48. సర్క్యూట్ ద్వారా శోషించబడిన తక్షణ శక్తి $p = 6 + 4 \cos 2(2t + 30^\circ)W$ గా ఇవ్వబడింది. శోషించబడిన గరిష్ట శక్తిని కనుగొనండి.

(A) 10 W (B) 14 W (C) 2 W (D) 22 W

The instantaneous power absorbed by a circuit is $p = 6 + 4 \cos 2(2t + 30^\circ)W$. Find the peak power.

(A) 10 W (B) 14 W (C) 2 W (D) 22 W



49. 1- ϕ ac సర్క్యూట్ యొక్క పవర్ ఫ్యాక్టర్ _____ లోడ్ పూర్తిగా ఉన్నప్పుడు సున్నా మరియు లోడ్ _____ పూర్తిగా ఉన్నప్పుడు ఏకత్వం

- (A) కెపాసిటివ్, ఇండక్టివ్ (B) రెసిస్టివ్, రియాక్టివ్
(C) రియాక్టివ్, రెసిస్టివ్ (D) ఇండక్టివ్, కెపాసిటివ్



Power factor of a 1- ϕ ac circuit is zero when load is purely _____, and unity when load is purely _____

- (A) Capacitive, Inductive (B) Resistive, Reactive
(C) Reactive, Resistive (D) Inductive, Capacitive



50. సిలికాన్ కంట్రోల్ రెక్టిఫైయర్ (SCR) ని రెండు ట్రాన్సిస్టర్ల కలయికగా చూడవచ్చును ఇక్కడ కలెక్టర్ అనేది

- (A) PNP ట్రాన్సిస్టర్ NPN ట్రాన్సిస్టర్ యొక్క ఉద్గారిణికి కనెక్ట్ చేయబడినది
(B) NPN ట్రాన్సిస్టర్ PNP ట్రాన్సిస్టర్ యొక్క ఉద్గారిణికి కనెక్ట్ చేయబడినది
(C) PNP ట్రాన్సిస్టర్ NPN ట్రాన్సిస్టర్ బేస్ కు కనెక్ట్ చేయబడింది
(D) PNP ట్రాన్సిస్టర్ NPN ట్రాన్సిస్టర్ యొక్క కలెక్టర్ కి కనెక్ట్ చేయబడింది

A Silicon Controlled Rectifier (SCR) can be viewed as a combination of two transistors, where the collector of

- (A) PNP transistor is connected to emitter of NPN transistor
(B) NPN transistor is connected to emitter of PNP transistor
(C) PNP transistor is connected to base of NPN transistor
(D) PNP transistor is connected to collector of NPN transistor

51. ఇనుము యొక్క సాపేక్ష పారగమ్యత $\mu_r = 4900$ అయితే బ్రాన్స్ పార్కర్ కోర్ యొక్క సంపూర్ణ పారగమ్యతను నిర్ణయించండి.

- (A) 154×10^{-5} H/m (B) 616×10^{-5} H/m
(C) 616×10^{-7} H/m (D) 154×10^{-7} H/m



Determine the absolute permeability of a transformer core, which is made up of a particular type of iron of relative permeability $\mu_r = 4900$.

- (A) 154×10^{-5} H/m (B) 616×10^{-5} H/m
(C) 616×10^{-7} H/m (D) 154×10^{-7} H/m



A

K

52. ఈ క్రింద ఇవ్వబడిన అయస్కాంతాల యొక్క తప్పు పోలికను ఎంచుకోండి.

(a)	ఫెరో-అయస్కాంతం	(i)	బంగారం
(b)	పారా-అయస్కాంతం	(ii)	మెగ్నీషియం
(c)	డయా-అయస్కాంతం	(iii)	వెండి
		(iv)	కోబాల్ట్
		(v)	నికెల్
		(vi)	లిథియం

- (A) (a) - (v); (b) - (iii); (c) - (i) (B) (a) - (iv); (b) - (vi); (c) - (i)
 (C) (a) - (v); (b) - (ii); (c) - (iii) (D) (a) - (iv); (b) - (vi); (c) - (iii)

Choose a wrong match of the following magnets.

(a)	Ferro-magnet	(i)	Gold
(b)	Para-magnet	(ii)	Magnesium
(c)	Dia-magnet	(iii)	Silver
		(iv)	Cobalt
		(v)	Nickel
		(vi)	Lithium

- (A) (a) - (v); (b) - (iii); (c) - (i) (B) (a) - (iv); (b) - (vi); (c) - (i)
 (C) (a) - (v); (b) - (ii); (c) - (iii) (D) (a) - (iv); (b) - (vi); (c) - (iii)

53. 3- ϕ డెల్టాగా కనెక్ట్ చేయబడిన లోడ్ లో V_L మరియు I_P లైన్ వోల్టేజీ మరియు ఫేస్ కరెంట్ గా ఉండును. అదే లోడ్ 3- ϕ స్టార్ గా కనెక్ట్ చేయబడితే ఫేస్ వోల్టేజీ మరియు లైన్ కరెంట్లు ఎలా ఉంటాయి ?

- (A) $\sqrt{3} V_L$ మరియు $\sqrt{3} I_P$ (B) $V_L / \sqrt{3}$ మరియు $I_P / \sqrt{3}$
 (C) $\sqrt{3} V_L$ మరియు $I_P / \sqrt{3}$ (D) $V_L / \sqrt{3}$ మరియు $\sqrt{3} I_P$

V_L and I_P are line voltage and phase current of 3- ϕ delta connected load. When the same load is converted to 3- ϕ star connected load, the phase voltage and line current are

- (A) $\sqrt{3} V_L$ and $\sqrt{3} I_P$ (B) $V_L / \sqrt{3}$ and $I_P / \sqrt{3}$
 (C) $\sqrt{3} V_L$ and $I_P / \sqrt{3}$ (D) $V_L / \sqrt{3}$ and $\sqrt{3} I_P$



54. 4 సెకన్ల వ్యవధిని కలిగివున్న సైనుసోయిడల్ వోల్టేజీ యొక్క రేడియన్ ఫ్రీక్వెన్సీని కనుగొనండి.

- (A) 0.314 rad/sec. (B) 3.14 rad/sec.
(C) 1.57 rad/sec. (D) 0.16 rad/sec.



Find the radian frequency of sinusoidal voltage that have the time period of 4 sec.

- (A) 0.314 rad/sec. (B) 3.14 rad/sec.
(C) 1.57 rad/sec. (D) 0.16 rad/sec.



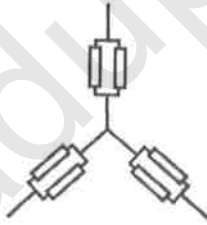
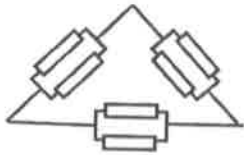
55. 1-H ఇండక్టర్ మరియు $1 \mu\text{F}$ కెపాసిటర్ సిరీస్ లో కనెక్ట్ చేయబడిన 1000 rad/sec . వద్ద మొత్తం ఇంపిడెన్స్ ఎంత ?

- (A) సున్న Ω (B) $-j1000 \Omega$ (C) $j1000 \Omega$ (D) 1000Ω

What is the total impedance at 1000 rad/sec . of a 1-H inductor and a $1 \mu\text{F}$ capacitor connected in series ?

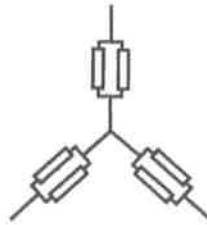
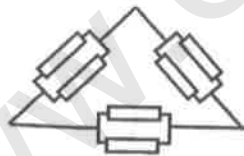
- (A) Zero Ω (B) $-j1000 \Omega$ (C) $j1000 \Omega$ (D) 1000Ω

56. డెల్టా కనెక్షన్ లో చూపబడిన ప్రతి ఆరు రెసిస్టెన్స్ లో 1Ω రెసిస్టెన్స్ కలిగి ఉంటే, స్టార్ కనెక్షన్ లో సంబంధిత ప్రతి రెసిస్టెన్స్ ను కనుగొనండి ?



- (A) $(1/3) \Omega$ (B) $(1/6) \Omega$ (C) $(1/2) \Omega$ (D) $(1/12) \Omega$

If each of the six resistances shown in delta connection has a resistance of 1Ω , find the corresponding each resistance in star connection



- (A) $(1/3) \Omega$ (B) $(1/6) \Omega$ (C) $(1/2) \Omega$ (D) $(1/12) \Omega$



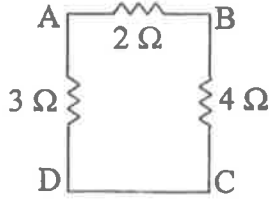
3- ϕ

When
and

K A

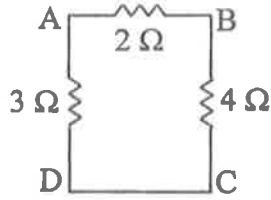
K

57. బెర్మిన్స్ B మరియు D అంతలా వోల్టేజ్ +10 V అయితే, 3 Ω మరియు 4 Ω ద్వారా ప్రవాహాలు ఎంత ?



- (A) 2.5 A మరియు 2 A వరుసగా (B) 2 A మరియు 2.5 A వరుసగా
(C) 2 A మరియు 2 A వరుసగా (D) 3.33 A మరియు 2.5 A వరుసగా

If the voltage across the terminals B and D is +10 V, the currents through 3 Ω and 4 Ω are



- (A) 2.5 A and 2 A respectively (B) 2 A and 2.5 A respectively
(C) 2 A and 2 A respectively (D) 3.33 A and 2.5 A respectively

58. సమాంతరంగా అనుసంధానించబడిన తొమ్మిది సమాన ప్రతిఘటనలకు సమానమైన ప్రతిఘటన (2/9) Ω . వాటిలో ఐదు సిరీస్లో అనుసంధానించబడినపుడు సమానమైన ప్రతిఘటన ఎంత ?

- (A) 40.5 Ω (B) 202.5 Ω (C) 10 Ω (D) 2 Ω

Nine equal resistances connected in parallel has an equivalent resistance of (2/9) Ω . What is the equivalent resistance when five of them are connected in series ?

- (A) 40.5 Ω (B) 202.5 Ω (C) 10 Ω (D) 2 Ω

59. 3-పిన్ ప్లగ్ యొక్క సరియైన ఎంపికను ఎంచుకోండి.

- (A) లైవ్ పిన్ యొక్క వ్యాసం భూమి పిన్ యొక్క వ్యాసం కంటే ఎక్కువ
(B) భూమి పిన్ యొక్క వ్యాసం తటస్థ పిన్ యొక్క వ్యాసం కంటే తక్కువగా ఉంటుంది
(C) తటస్థ పిన్ యొక్క పొడవు లైవ్ పిన్ యొక్క పొడవు కంటే తక్కువగా ఉంటుంది
(D) భూమి పిన్ పొడవు తటస్థ పిన్ పొడవు కంటే ఎక్కువ

Choose the correct choice of a 3-pin plug

- (A) Diameter of live pin is more than the diameter of earth pin
(B) Diameter of earth pin is less than the diameter of neutral pin
(C) Length of neutral pin is less than the length of live pin
(D) Length of earth pin is more than the length of neutral pin

60. కండక్టర్ యొక్క పొడవు 'L' మరియు దాని వ్యాసార్థం 'r' 41.4% పెరిగితే, దాని నిరోధకత 'R' _____ గా మారుతుంది.

- (A) 0.5R (B) 2R (C) 1.414R (D) 0.707R

If length 'L' of a conductor and its radius 'r' increased by 41.4%, then its resistance 'R' will be changed to

- (A) 0.5R (B) 2R (C) 1.414R (D) 0.707R

61. 230 V DC షంట్ జనరేటర్ యొక్క ఓపెన్ సర్క్యూట్ వోల్టేజీ ఎటువంటి ప్రేరణ లేకుండా రేటెడ్ వేగంతో 2 V జనరేట్ చేస్తుంది. ఈ జనరేటర్ ఎక్కువ రేటెడ్ వేగం కన్నా ఎక్కువ సడీచినచో ప్రేరణ లేకుండా ఎంత వోల్టేజీ జనరేట్ చేస్తుంది ?

- (A) సున్న (B) 2 V కంటే ఎక్కువ (C) 2 V కంటే తక్కువ (D) 2 V కు సమానం

The open circuit voltage of a 230 V DC shunt generator running at rated speed without any excitation is 2 V. If it is run with no excitation at more than rated speed then the open circuit voltage is

- (A) zero (B) more than 2 V (C) less than 2 V (D) equal to 2 V

62. DC మోటార్ విడిగా ఉత్తేజిత వేగాన్ని ఎలా పెంచవచ్చు ?

- (A) సరఫరా పౌనఃపున్యం పెంచడం ద్వారా (B) సరఫరా వోల్టేజీని తగ్గించడం ద్వారా
(C) ఫీల్డ్ కరెంట్ ని తగ్గించడం ద్వారా (D) ఫీల్డ్ కరెంట్ ని పెంచడం ద్వారా

Speed of a separately excited DC motor can be increased by

- (A) increasing supply frequency (B) decreasing supply voltage
(C) decreasing field current (D) increasing field current

63. ట్రాన్స్ఫార్మర్ అనేది ఒక పరికరం అది

- (A) నష్టాలు లేకుండా క్రియాశీల శక్తిని ఒక సర్క్యూట్ నుండి మరొక దానికి బదిలీచేస్తుంది
(B) కరెంట్ లో మార్పు లేకుండా వోల్టేజీని ఎక్కువ లేదా తక్కువ చేస్తుంది
(C) వోల్టేజీలో మార్పు లేకుండా కరెంట్ ను ఎక్కువ లేదా తక్కువ చేస్తుంది
(D) ఒక సర్క్యూట్ నుండి మరొకదానికి స్పష్టమైన శక్తిని బదిలీచేస్తుంది

A Transformer is a device that

- (A) Transfers active power from one circuit to another without losses
(B) Step up or Step down the voltage without a change in current
(C) Step up or Step down the current without a change in voltage
(D) Transfers apparent power from one circuit to another

64. 200 ప్రాథమిక మలుపులు మరియు 70.7 mWb గరిష్ట ఫ్లక్స్ సాంద్రత కలిగిన 50 Hz, 1- ϕ , ట్రాన్స్ఫార్మర్ యొక్క గరిష్ట ప్రేరిత e.m.f. ని లెక్కించండి.

- (A) 4.00 kV (B) 3.14 kV (C) 2.83 kV (D) 4.44 kV

Calculate peak induced e.m.f. of a 50 Hz, 1- ϕ transformer having 200 primary turns and a maximum flux density of 70.7 mWb.

- (A) 4.00 kV (B) 3.14 kV (C) 2.83 kV (D) 4.44 kV

65. 1- ϕ ట్రాన్స్ఫార్మర్ యొక్క ఇనుము నష్టానికి రాగి నష్టం నిష్పత్తి 0.9. అది (3/4) ఫుల్ లోడ్ వద్ద ఉంటే, అప్పుడు అదే నిష్పత్తి ఫుల్ లోడ్ విలువ ఎంత ?

- (A) 0.75 (B) 0.625 (C) 1.6 (D) 1.33

If ratio of copper loss to iron loss of a 1- ϕ transformer is 0.9 at (3/4)th full-load, then the same ratio at full-load is

- (A) 0.75 (B) 0.625 (C) 1.6 (D) 1.33

PART - B

66. CRM అంటే

- (A) Customers Rarely Matter
 (B) Can't Remember Much
 (C) Communicating Random Meaning
 (D) Customer Relationship Management



CRM stands for

- (A) Customers Rarely Matter
 (B) Can't Remember Much
 (C) Communicating Random Meaning
 (D) Customer Relationship Management



67. తెలంగాణలోని బౌద్ధ అవశేషాలకు ప్రసిద్ధి చెందిన ప్రదేశం ఏది ?

- (A) ఫణిగిరి (B) మద్ది మడుగు
 (C) కందకుర్తి (D) బిజినేపల్లి

The following is a place in Telangana known for Buddhist relics.

- (A) Phanigiri (B) Maddi Madugu
 (C) Kandakurti (D) Bijinepalli

68. రాజస్థాన్‌లోని కేత్రి గనులు ఏటికి సంబంధించినవి

- (A) రాగి (B) బాక్సైట్ (C) ఇనుము (D) యురేనియం

Khetri mines in Rajasthan are related to :

- (A) Copper (B) Bauxite (C) Iron (D) Uranium



69. ఓజోన్ పొర క్షీణించడం మానవ ఆరోగ్యానికి హానికరం. ప్రతికూల ప్రభావాలు ఇలా ఉంటాయి.

- (A) చర్మ క్యాన్సర్లు (B) బోలు ఎముకల వ్యాధి
 (C) ఆజీర్ణం (D) డిఫ్టీరియా

Depletion of the ozone layer causes damage to human health. Negative effects include

- (A) Skin cancers (B) Osteoporosis
 (C) Dyspepsia (D) Diphtheria





70. రెండు సంవత్సరాల క్రితం ఒక పట్టణంలోని జనాభా 60,000. నగరాలకు వలసల కారణంగా ఇది మొదటి సంవత్సరంలో సంవత్సరానికి 5% మరియు రెండవ సంవత్సరంలో సంవత్సరానికి 10% తగ్గింది. ప్రస్తుత జనాభా

- (A) 55,500 (B) 51,000
(C) 51,300 (D) 54,150



The population of a town 2 years ago was 60,000. Due to migration to cities, it decreased by 5% per annum in first year and 10% per annum by second year. The present population is

- (A) 55,500 (B) 51,000
(C) 51,300 (D) 54,150

71. ఏ కాకతీయ రాజు 60 సంవత్సరాల పాటు నిరంతరంగా పాలించాడు ?

- (A) మహాదేవ (B) ప్రతాపరుద్ర-I
(C) గణపతిదేవ (D) ప్రతాపరుద్ర-II



Which Kakatiya King ruled continuously for 60 years ?

- (A) Mahadeva (B) Prataparudra-I
(C) Ganapathideva (D) Prataparudra-II

72. ఈ క్రింది వానిలో ఎవరు 2023 సంవత్సరానికి 'పద్మభూషణ్' అవార్డు గ్రహీత కాదు ?

- (A) S. L. భైరప్ప (B) B. M. M. కీరవాణి
(C) వాణి జయరామ్ (D) కమలేష్ D పటేల్

Who among the following is NOT a 'Padma Bhushan' awardee for the year 2023 ?

- (A) S. L. Bhyrappa (B) B. M. M. Keeravani
(C) Vani Jairam (D) Kamlesh D Patel



73. కింది వాటిలో అత్యంత శక్తివంతమైన 'మహాజనపదం' ఏది ?

- (A) కోశల (B) పాంచాల
(C) గాంధార (D) మగధ

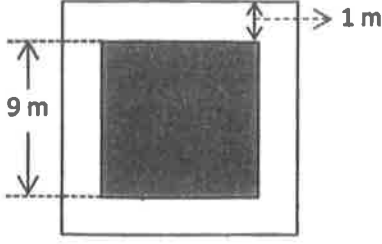
Which of the following was the most powerful 'mahajanapada' ?

- (A) Koshala (B) Panchala
(C) Gandhara (D) Magadha



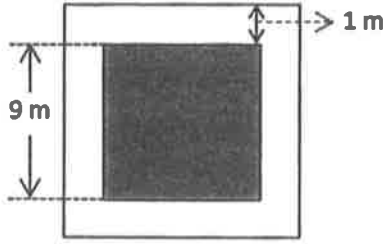


74. 9 మీటర్ల పొడవు గల ఒక చతురస్ర క్షేత్రం అన్ని వైపులా 1 మీ వెడల్పు గల మార్గంలో చుట్టబడి ఉంటుంది. మార్గం యొక్క ప్రాంతాన్ని కనుగొనండి.



- (A) 19 m^2 (B) 40 m^2 (C) 17 m^2 (D) 21 m^2

A square field of 9 m long is surrounded by a path 1 m wide on all sides. Find area of the path.



- (A) 19 m^2 (B) 40 m^2 (C) 17 m^2 (D) 21 m^2

75. నేషనల్ స్టార్ట్-అప్ అవార్డ్స్ 2022-23 లో క్రింది వాటిలో ఏది భారతదేశంలో 'ఉత్తమ ఇంక్యూబేటర్' అవార్డుని గెలుచుకుంది ?

- (A) T-హబ్ (B) IIT-H (C) IISc. (D) స్టార్ట్-అప్ బీహార్

In the National Start-up Awards 2022-23, which of the following won the 'Best Incubator in India' award ?

- (A) T-Hub (B) IIT-H (C) IISc. (D) Start-up Bihar

76. ప్రపంచ వ్యాప్తంగా మనకు ఏ రోజులలో పగలు రాత్రులు సమానంగా ఉంటాయి.

- (A) ఫిబ్రవరి 26 మరియు జూలై 22
 (B) జూన్ 22 మరియు ఏప్రిల్ 28
 (C) అక్టోబర్ 18 మరియు జనవరి 19
 (D) సెప్టెంబర్ 23 మరియు మార్చి 21



On what days do we have equal days and nights all over the world ?

- (A) On 26th February and 22nd July
 (B) On 22nd June and 28th April
 (C) On 18th October and 19th January
 (D) On 23rd September and 21st March



77. ఎముకల నిర్మాణం మరియు మానవ శరీరంలో కాల్షియం నిలుపుకోవడం కోసం కింది వాటిలో ఏ విటమిన్ అవసరం ?
 (A) విటమిన్ B₁₂ (B) విటమిన్ C (C) విటమిన్ K (D) విటమిన్ D

Which of the following vitamin is essential for bone formation and retention of calcium in the human body ?

- (A) Vitamin B₁₂ (B) Vitamin C (C) Vitamin K (D) Vitamin D

78. ఫిర్యాదు చేసే కస్టమర్లు

- (A) వినడానికి మరియు వారి అనుభవాన్ని ధృవీకరించడానికి కోరుకుంటారు
 (B) ఏమీ లేనిదానికి ఉన్నదిగా చూపుతారు



- (C) కంపెనీలో మెజారిటీ వాటాదారులుగా చేయాలని అనుకుంటారు
 (D) దానిని ఒక ఆటగా పరిగణిస్తారు

Customers who complain want

- (A) To be heard and have their experience validated
 (B) Something for nothing
 (C) To be made majority shareholders in the company
 (D) To vent just for play

79. పర్యావరణం పై ఎక్కడ మొదటి ప్రపంచ సదస్సు జరిగింది ?

- (A) రియో డీ జెనీరియో (B) స్టాక్ హోమ్
 (C) జెనీవా (D) జొహన్నెస్ బర్గ్

The first world conference on the environment was held at :

- (A) Rio de Janeiro (B) Stockholm
 (C) Geneva (D) Johannesburg

80. ఈ క్రింది వాటిలో ఏ కమిటీ 610 G.O. ఆధారంగా సమర్పించిన నివేదిక ?

- (A) గిర్లాని (B) భార్గవ
 (C) జైభారత్ రెడ్డి (D) ప్రణబ్ ముఖర్జీ

The 610 G.O. was based on the report submitted by the following committee :

- (A) Girglani (B) Bhargava
 (C) Jai Bharat Reddy (D) Pranab Mukherjee



S.NO	A	B	C	D
1	B	B	D	D
2	D	A	C	B
3	B	D	D	A
4	C	C	D	D
5	A	A	C	D
6	B	D	B	B
7	A	B	A	C
8	A	D	A	B
9	A	B	C	B
10	D	A	C	A
11	B	D	A	B
12	D	C	B	A
13	A	D	C	D
14	D	D	D	*
15	A	C	D	B
16	C	D	B	B
17	B	B	A	D
18	C	A	A	B
19	C	C	A	C
20	A	D	D	A

S.NO	A	B	C	D
21	B	A	B	D
22	A	B	D	C
23	D	C	A	D
24	*	D	D	D
25	B	D	A	C
26	D	B	C	B
27	B	A	A	A
28	A	A	C	A
29	C	C	C	A
30	D	C	C	D
31	D	C	B	A
32	B	B	A	B
33	D	C	D	C
34	B	C	*	D
35	A	A	B	D
36	B	B	B	B
37	C	D	A	D
38	B	B	D	A
39	B	C	C	D
40	A	A	A	A

S.NO	A	B	C	D
41	C	B	D	C
42	A	A	B	B
43	C	A	D	C
44	A	A	B	C
45	C	D	A	A
46	B	B	D	B
47	A	C	B	A
48	A	B	A	D
49	C	B	C	C
50	C	A	D	A
51	B	B	C	C
52	A	D	B	A
53	D	A	C	C
54	C	D	C	A
55	A	A	A	C
56	A	B	B	B
57	B	A	D	A
58	C	D	B	A
59	D	*	C	C
60	D	B	A	C

S.NO	A	B	C	D
61	D	C	B	D
62	C	A	C	B
63	D	C	B	D
64	D	A	B	B
65	C	C	A	A
66	D	D	D	A
67	A	D	D	B
68	A	C	A	B
69	A	A	D	A
70	C	A	A	A
71	C	A	A	A
72	B	B	B	A
73	D	A	D	C
74	B	C	D	D
75	A	B	C	D
76	D	A	A	A
77	A	B	A	A
78	A	A	A	D
79	B	D	A	C
80	A	A	B	B